



Verwende die visuelle Methode um jede Aufgabe zu lösen.

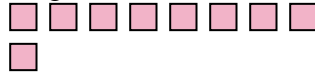
1) Es gibt 14 Rechtecke unten.



Wenn du 12 wegnehmen müsstest, wie viele wären noch übrig?

$14 - 12 = ?$

2) Es gibt 9 Rechtecke unten.



Wenn du 4 wegnehmen müsstest, wie viele wären noch übrig?

$9 - 4 = ?$

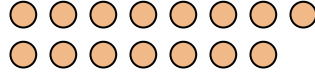
3) Es gibt 5 Sterne unten.



Wenn du 3 wegnehmen müsstest, wie viele wären noch übrig?

$5 - 3 = ?$

4) Es gibt 15 Kreise unten.



Wenn du 2 wegnehmen müsstest, wie viele wären noch übrig?

$15 - 2 = ?$

5) Es gibt 11 Sterne unten.



Wenn du 4 wegnehmen müsstest, wie viele wären noch übrig?

$11 - 4 = ?$

6) Es gibt 18 Sterne unten.



Wenn du 14 wegnehmen müsstest, wie viele wären noch übrig?

$18 - 14 = ?$

7) Es gibt 2 Dreiecke unten.



Wenn du 1 wegnehmen müsstest, wie viele wären noch übrig?

$2 - 1 = ?$


8) Es gibt 3 Sterne unten.



Wenn du 2 wegnehmen müsstest, wie viele wären noch übrig?

$3 - 2 = ?$

9) Es gibt 15 Kreise unten.



Wenn du 14 wegnehmen müsstest, wie viele wären noch übrig?

$15 - 14 = ?$

10) Es gibt 8 Vierecke unten.



Wenn du 7 wegnehmen müsstest, wie viele wären noch übrig?

$8 - 7 = ?$

Antworten

1. _____
2. _____
3. _____
4. _____
5. _____
6. _____
7. _____
8. _____
9. _____
10. _____



Verwende die visuelle Methode um jede Aufgabe zu lösen.

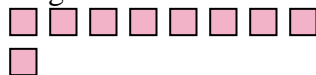
1) Es gibt 14 Rechtecke unten.



Wenn du 12 wegnehmen müsstest, wie viele wären noch übrig?

$14 - 12 = ?$

2) Es gibt 9 Rechtecke unten.



Wenn du 4 wegnehmen müsstest, wie viele wären noch übrig?

$9 - 4 = ?$

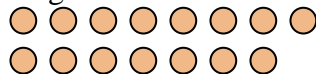
3) Es gibt 5 Sterne unten.



Wenn du 3 wegnehmen müsstest, wie viele wären noch übrig?

$5 - 3 = ?$

4) Es gibt 15 Kreise unten.



Wenn du 2 wegnehmen müsstest, wie viele wären noch übrig?

$15 - 2 = ?$

5) Es gibt 11 Sterne unten.



Wenn du 4 wegnehmen müsstest, wie viele wären noch übrig?

$11 - 4 = ?$

6) Es gibt 18 Sterne unten.



Wenn du 14 wegnehmen müsstest, wie viele wären noch übrig?

$18 - 14 = ?$

7) Es gibt 2 Dreiecke unten.



Wenn du 1 wegnehmen müsstest, wie viele wären noch übrig?

$2 - 1 = ?$


8) Es gibt 3 Sterne unten.



Wenn du 2 wegnehmen müsstest, wie viele wären noch übrig?

$3 - 2 = ?$

9) Es gibt 15 Kreise unten.



Wenn du 14 wegnehmen müsstest, wie viele wären noch übrig?

$15 - 14 = ?$

10) Es gibt 8 Vierecke unten.



Wenn du 7 wegnehmen müsstest, wie viele wären noch übrig?

$8 - 7 = ?$

Antworten

1. 2

2. 5

3. 2

4. 13

5. 7

6. 4

7. 1

8. 1

9. 1

10. 1