



Benutze den Zahlenstrahl um jede Zahl auf das nächste Hundert zu runden.

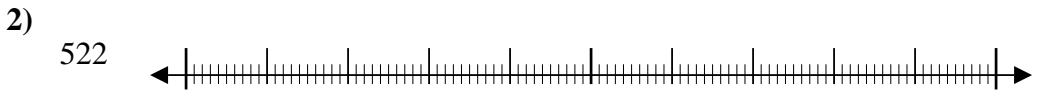
**Antworten**



Bsp. 6.100



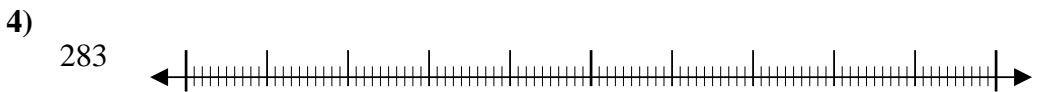
1. \_\_\_\_\_



2. \_\_\_\_\_



3. \_\_\_\_\_




4. \_\_\_\_\_



5. \_\_\_\_\_



6. \_\_\_\_\_




7. \_\_\_\_\_



8. \_\_\_\_\_



9. \_\_\_\_\_



10. \_\_\_\_\_

10. \_\_\_\_\_



Benutze den Zahlenstrahl um jede Zahl auf das nächste Hundert zu runden.



Antworten

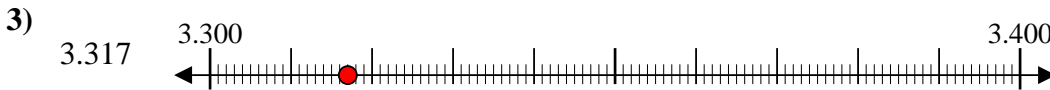
Bsp. 6.100



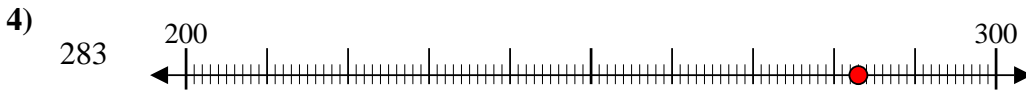
1. 8.700



2. 500



3. 3.300



4. 300



5. 89.600



6. 400



7. 600



8. 75.700



9. 62.600



10. 9.100