



Benutze den Zahlenstrahl um jede Zahl auf das nächste Hundert zu runden.

Bsp) 455



Antworten

Bsp. 500

1) 702



1. _____

2) 141



2. _____

3) 137



3. _____

4) 888



4. _____

5) 3.450



5. _____

6) 8.558



6. _____

7) 2.376



7. _____

8) 5.542



8. _____

9) 69.109



9. _____

10) 63.061





Benutze den Zahlenstrahl um jede Zahl auf das nächste Hundert zu runden.

Bsp) 455



Antworten

Bsp. 500

1) 702



1. 700

2) 141



2. 100

3) 137



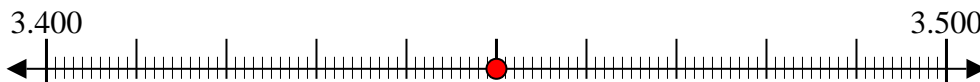
3. 100

4) 888



4. 900

5) 3.450



5. 3.500

6) 8.558



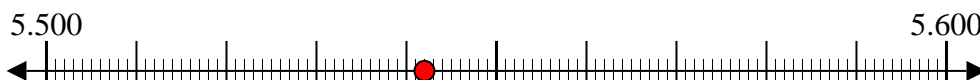
6. 8.600

7) 2.376



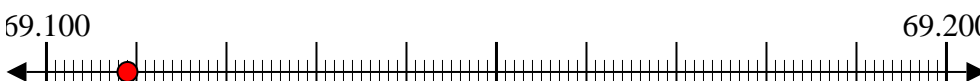
7. 2.400

8) 5.542



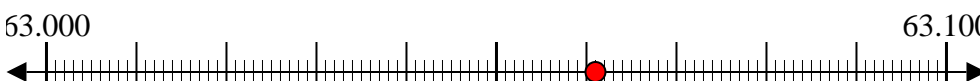
8. 5.500

9) 69.109



9. 69.100

10) 63.061



10. 63.100



Benutze den Zahlenstrahl um jede Zahl auf das nächste Hundert zu runden.

Bsp) 666



Antworten

Bsp. 700

1) 320



1. _____

2) 432



2. _____

3) 100



3. _____

4) 756



4. _____

5) 1.024



5. _____

6) 9.565



6. _____

7) 6.007



7. _____

8) 7.894



8. _____

9) 32.376



9. _____

10) 22.680



10. _____



Benutze den Zahlenstrahl um jede Zahl auf das nächste Hundert zu runden.

Bsp) 666



Antworten

Bsp. 700

1) 320



1. 300

2) 432



2. 400

3) 100



3. 100

4) 756



4. 800

5) 1.024



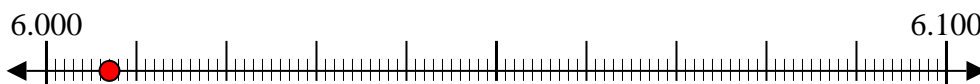
5. 1.000

6) 9.565



6. 9.600

7) 6.007



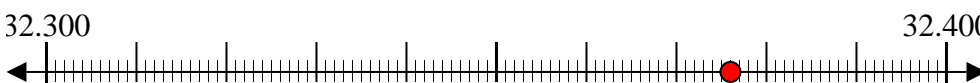
7. 6.000

8) 7.894



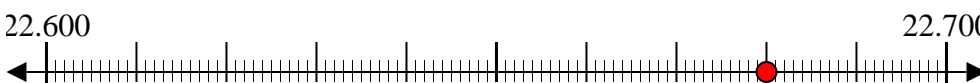
8. 7.900

9) 32.376



9. 32.400

10) 22.680



10. 22.700



Benutze den Zahlenstrahl um jede Zahl auf das nächste Hundert zu runden.

Bsp) 100



Antworten

Bsp. 100

1) 927



1. _____

2) 771



2. _____

3) 205



3. _____

4) 120



4. _____

5) 8.017



5. _____

6) 7.157



6. _____

7) 8.859



7. _____

8) 7.323



8. _____

9) 54.662



9. _____

10) 36.748



10. _____



Benutze den Zahlenstrahl um jede Zahl auf das nächste Hundert zu runden.

Bsp) 100



Antworten

Bsp. 100

1) 927



1. 900

2) 771



2. 800

3) 205



3. 200

4) 120



4. 100

5) 8.017



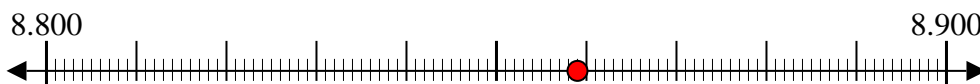
5. 8.000

6) 7.157



6. 7.200

7) 8.859



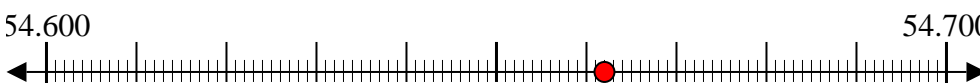
7. 8.900

8) 7.323



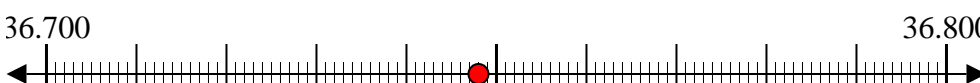
8. 7.300

9) 54.662



9. 54.700

10) 36.748



10. 36.700



Benutze den Zahlenstrahl um jede Zahl auf das nächste Hundert zu runden.

Bsp) 364



Antworten

Bsp. 400

1) 347



1. _____

2) 657



2. _____

3) 553



3. _____

4) 195



4. _____

5) 1.962



5. _____

6) 9.526



6. _____

7) 7.032



7. _____

8) 8.084



8. _____

9) 12.568



9. _____

10) 18.429



10. _____



Benutze den Zahlenstrahl um jede Zahl auf das nächste Hundert zu runden.

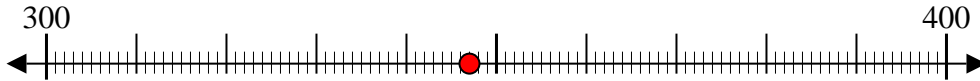
Bsp) 364



Antworten

Bsp. 400

1) 347



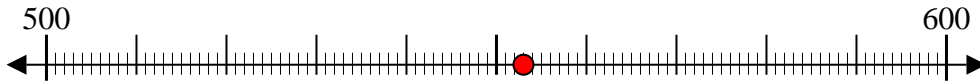
1. 300

2) 657



2. 700

3) 553



3. 600

4) 195



4. 200

5) 1.962



5. 2.000

6) 9.526



6. 9.500

7) 7.032



7. 7.000

8) 8.084



8. 8.100

9) 12.568



9. 12.600

10) 18.429



10. 18.400



Benutze den Zahlenstrahl um jede Zahl auf das nächste Hundert zu runden.

Bsp) 110



Antworten

Bsp. 100

1) 314



1. _____

2) 908



2. _____

3) 432



3. _____

4) 588



4. _____

5) 5.113



5. _____

6) 4.332



6. _____

7) 9.840



7. _____

8) 7.399



8. _____

9) 49.883



9. _____

10) 35.573



10. _____



Benutze den Zahlenstrahl um jede Zahl auf das nächste Hundert zu runden.

Bsp) 110



Antworten

Bsp. 100

1) 314



1. 300

2) 908



2. 900

3) 432



3. 400

4) 588



4. 600

5) 5.113



5. 5.100

6) 4.332



6. 4.300

7) 9.840



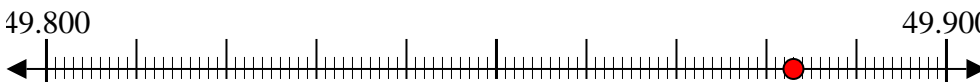
7. 9.800

8) 7.399



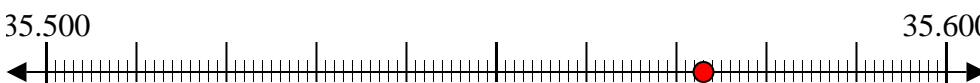
8. 7.400

9) 49.883



9. 49.900

10) 35.573



10. 35.600



Benutze den Zahlenstrahl um jede Zahl auf das nächste Hundert zu runden.

Bsp) 664



Antworten

Bsp. 700

1) 394



1. _____

2) 290



2. _____

3) 337



3. _____

4) 433



4. _____

5) 5.694



5. _____

6) 5.955



6. _____

7) 6.071



7. _____

8) 6.709



8. _____

9) 60.083



9. _____

10) 63.220



10. _____



Benutze den Zahlenstrahl um jede Zahl auf das nächste Hundert zu runden.

Bsp) 664



Antworten

Bsp. 700

1) 394



1. 400

2) 290



2. 300

3) 337



3. 300

4) 433



4. 400

5) 5.694



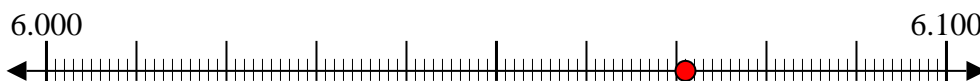
5. 5.700

6) 5.955



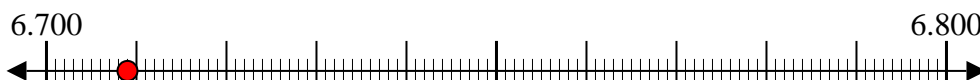
6. 6.000

7) 6.071



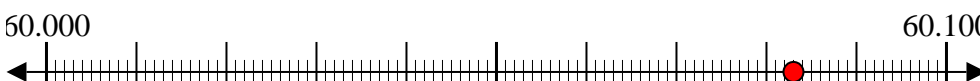
7. 6.100

8) 6.709



8. 6.700

9) 60.083



9. 60.100

10) 63.220

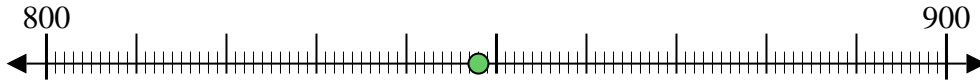


10. 63.200



Benutze den Zahlenstrahl um jede Zahl auf das nächste Hundert zu runden.

Bsp) 848



Antworten

Bsp. 800

1) 915



1. _____

2) 242



2. _____

3) 398



3. _____

4) 408



4. _____

5) 5.145



5. _____

6) 3.740



6. _____

7) 2.226



7. _____

8) 4.926



8. _____

9) 68.834



9. _____

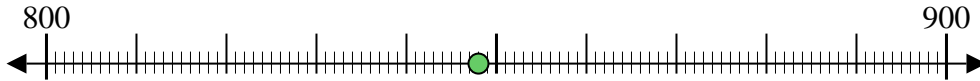
10) 96.097





Benutze den Zahlenstrahl um jede Zahl auf das nächste Hundert zu runden.

Bsp) 848



Antworten

Bsp. 800

1) 915



1. 900

2) 242



2. 200

3) 398



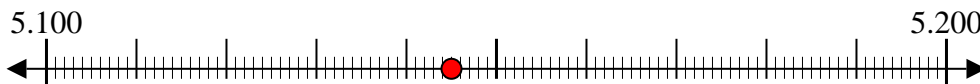
3. 400

4) 408



4. 400

5) 5.145



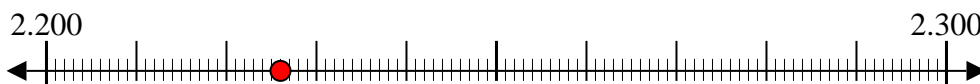
5. 5.100

6) 3.740



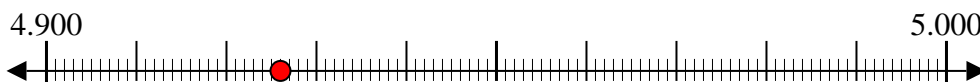
6. 3.700

7) 2.226



7. 2.200

8) 4.926



8. 4.900

9) 68.834



9. 68.800

10) 96.097



10. 96.100



Benutze den Zahlenstrahl um jede Zahl auf das nächste Hundert zu runden.

Bsp) 808



Antworten

Bsp. 800

1) 488



1. _____

2) 597



2. _____

3) 605



3. _____

4) 263



4. _____

5) 2.377



5. _____

6) 9.256



6. _____

7) 6.779



7. _____

8) 9.677



8. _____

9) 76.486



9. _____

10) 81.117



10. _____



Benutze den Zahlenstrahl um jede Zahl auf das nächste Hundert zu runden.

Bsp) 808



Antworten

Bsp. 800

1) 488



1. 500

2) 597



2. 600

3) 605



3. 600

4) 263



4. 300

5) 2.377



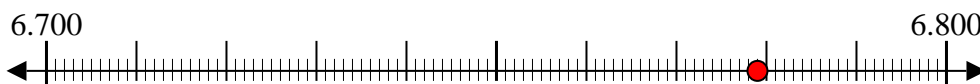
5. 2.400

6) 9.256



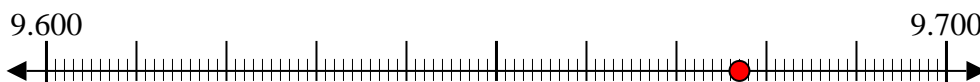
6. 9.300

7) 6.779



7. 6.800

8) 9.677



8. 9.700

9) 76.486



9. 76.500

10) 81.117



10. 81.100



Benutze den Zahlenstrahl um jede Zahl auf das nächste Hundert zu runden.

Bsp) 432



Antworten

Bsp. 400

1) 734



1. _____

2) 712



2. _____

3) 130



3. _____

4) 844



4. _____

5) 5.019



5. _____

6) 4.537



6. _____

7) 5.422



7. _____

8) 3.560



8. _____

9) 80.578



9. _____

10) 29.882



10. _____



Benutze den Zahlenstrahl um jede Zahl auf das nächste Hundert zu runden.

Bsp) 432

AntwortenBsp. 400

1) 734

1. 700

2) 712

2. 700

3) 130

3. 100

4) 844

4. 800

5) 5.019

5. 5.000

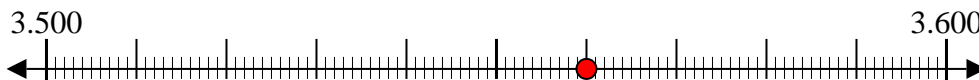
6) 4.537

6. 4.500

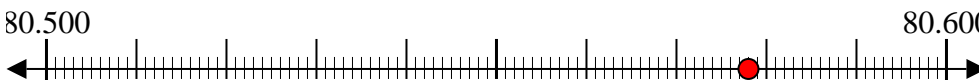
7) 5.422

7. 5.400

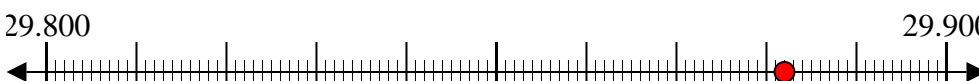
8) 3.560

8. 3.600

9) 80.578

9. 80.600

10) 29.882

10. 29.900



Benutze den Zahlenstrahl um jede Zahl auf das nächste Hundert zu runden.

Bsp) 486



Antworten

Bsp. 500

1) 208



1. _____

2) 592



2. _____

3) 258



3. _____

4) 723



4. _____

5) 4.668



5. _____

6) 7.337



6. _____

7) 8.314



7. _____

8) 9.392



8. _____

9) 98.338



9. _____

10) 41.181





Benutze den Zahlenstrahl um jede Zahl auf das nächste Hundert zu runden.

Bsp) 486



Antworten

Bsp. 500

1) 208



1. 200

2) 592



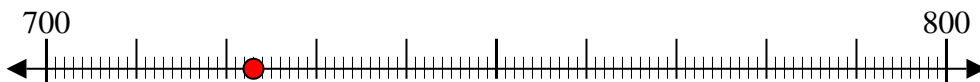
2. 600

3) 258



3. 300

4) 723



4. 700

5) 4.668



5. 4.700

6) 7.337



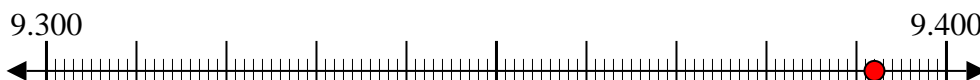
6. 7.300

7) 8.314



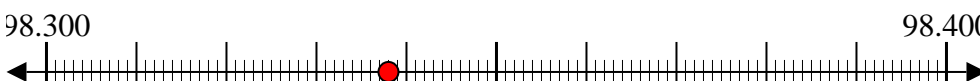
7. 8.300

8) 9.392



8. 9.400

9) 98.338



9. 98.300

10) 41.181



10. 41.200

