



Benutze den Zahlenstrahl um jede Zahl auf das nächste Hundert zu runden.

Bsp) 364



Antworten

Bsp. 400

1) 347



1. _____

2) 657



2. _____

3) 553



3. _____

4) 195



4. _____

5) 1.962



5. _____

6) 9.526



6. _____

7) 7.032



7. _____

8) 8.084



8. _____

9) 12.568



9. _____

10) 18.429



10. _____



Benutze den Zahlenstrahl um jede Zahl auf das nächste Hundert zu runden.

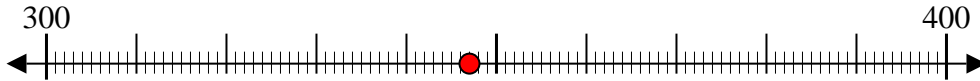
Bsp) 364



Antworten

Bsp. 400

1) 347



1. 300

2) 657



2. 700

3) 553



3. 600

4) 195



4. 200

5) 1.962



5. 2.000

6) 9.526



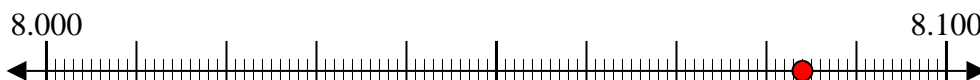
6. 9.500

7) 7.032



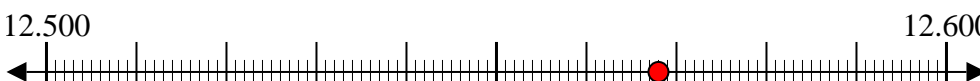
7. 7.000

8) 8.084



8. 8.100

9) 12.568



9. 12.600

10) 18.429



10. 18.400