



Benutze den Zahlenstrahl um jede Zahl auf das nächste Hundert zu runden.

Bsp) 666



Antworten

Bsp. 700

1) 320



1. _____

2) 432



2. _____

3) 100



3. _____

4) 756



4. _____

5) 1.024



5. _____

6) 9.565



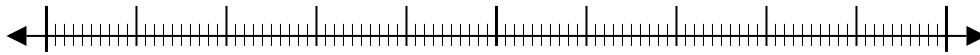
6. _____

7) 6.007



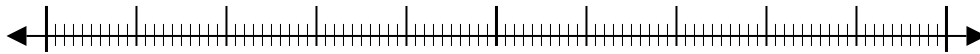
7. _____

8) 7.894



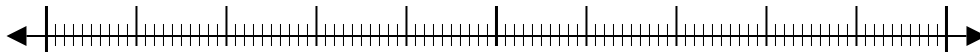
8. _____

9) 32.376



9. _____

10) 22.680



10. _____



Benutze den Zahlenstrahl um jede Zahl auf das nächste Hundert zu runden.

Bsp) 666



Antworten
Bsp. 700

1) 320



1. 300

2) 432



2. 400

3) 100



3. 100

4) 756



4. 800

5) 1.024



5. 1.000

6) 9.565



6. 9.600

7) 6.007



7. 6.000

8) 7.894



8. 7.900

9) 32.376



9. 32.400

10) 22.680



10. 22.700