



Benutze den Zahlenstrahl um jede Zahl auf das nächste Hundert zu runden.

Bsp) 486



Antworten

Bsp. 500

1) 208



1. _____

2) 592



2. _____

3) 258



3. _____

4) 723



4. _____

5) 4.668



5. _____

6) 7.337



6. _____

7) 8.314



7. _____

8) 9.392



8. _____

9) 98.338



9. _____

10) 41.181





Benutze den Zahlenstrahl um jede Zahl auf das nächste Hundert zu runden.

Bsp) 486



Antworten

Bsp. 500

1) 208



1. 200

2) 592



2. 600

3) 258



3. 300

4) 723



4. 700

5) 4.668



5. 4.700

6) 7.337



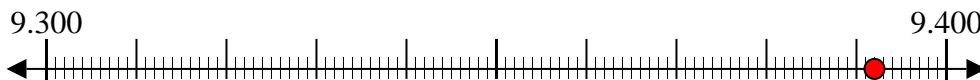
6. 7.300

7) 8.314



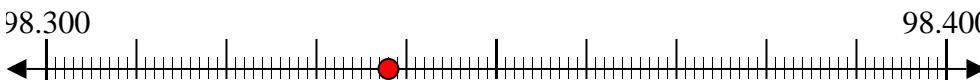
7. 8.300

8) 9.392



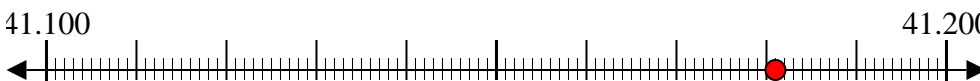
8. 9.400

9) 98.338



9. 98.300

10) 41.181



10. 41.200