



Benutze den Zahlenstrahl um jede Zahl auf das nächste Hundert zu runden.

Bsp) 455



Antworten

Bsp. 500

1) 702



1. _____

2) 141



2. _____

3) 137



3. _____

4) 888



4. _____

5) 3.450



5. _____

6) 8.558



6. _____

7) 2.376



7. _____

8) 5.542



8. _____

9) 69.109



9. _____

10) 63.061





Benutze den Zahlenstrahl um jede Zahl auf das nächste Hundert zu runden.

Bsp) 455

AntwortenBsp. 500

1) 702

1. 700

2) 141

2. 100

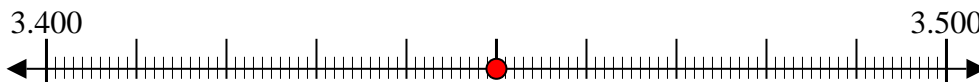
3) 137

3. 100

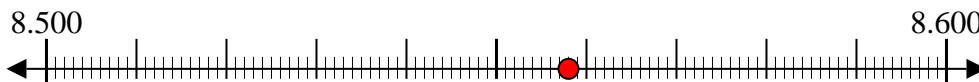
4) 888

4. 900

5) 3.450

5. 3.500

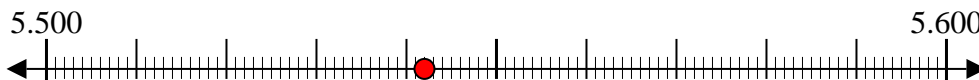
6) 8.558

6. 8.600

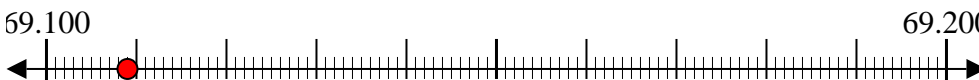
7) 2.376

7. 2.400

8) 5.542

8. 5.500

9) 69.109

9. 69.100

10) 63.061

10. 63.100