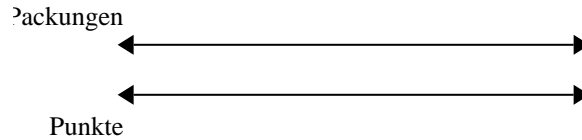


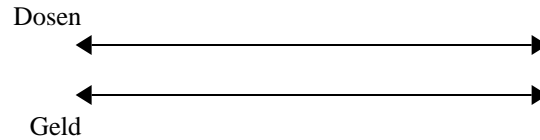
**Benutze den doppelten Zahlenstrahl und löse jede Aufgabe.****Antworten**

- 1) Bei einer Benefizaktion in der Schule wurden Pralinen verkauft. Für jede 5 Packungen Pralinen konnte man 2 Punkte verdienen. Wenn du 40 Packungen verkaufen würdest, wie viele Punkte könntest du dann verdienen?



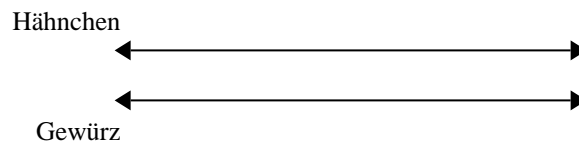
1. \_\_\_\_\_

- 2) Für jede gesammelten 2 Dosen zum Recyclen bekam BVAR 8 Cent. Wenn er 8 Dosen gesammelt hat, wie viel Geld hat er dann verdient?




2. \_\_\_\_\_

- 3) Ein Rezept benötigte 10 Teelöffel Gewürzmischung für jede 5 Portionen Brathähnchen. Wenn du 45 Portionen Hähnchen zubereiten möchtest, wie viele Teelöffel Gewürzmischung wirst du brauchen?



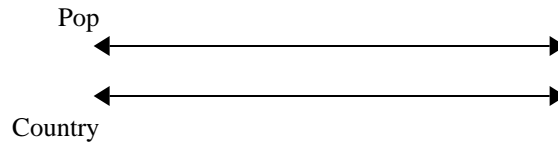
3. \_\_\_\_\_

- 4) In einem Videospiel bekommst du 10 Punkte für jede 4 Feinde, die du besiegt. Wenn du 28 Feinde besiegen würdest, wie viel Punkte hättest du dann verdient?




4. \_\_\_\_\_

- 5) Auf ihrem MP3-Spieler hatte GVAR für jede 9 Poplieder 3 Country-Lieder. Wenn sie 18 Poplieder auf ihrem MP3-Spieler hat, wie viele Country-Lieder hat sie dann?




5. \_\_\_\_\_

- 6) In einer Bonbonpackung waren für jede 8 Kirschbonbons 7 Zitronenbonbons. Wenn die Packung 14 Zitronenbonbons hat, wie viel Kirschbonbons wären dann drin?




6. \_\_\_\_\_

- 7) Ein Geschäft hatte eine Verkaufsaktion, wo man 4 Packungen Cashew-Nüsse für 10 € kaufen konnte. Wenn du 32 Packungen kaufen möchtest, wie viel würde es dann kosten?



7. \_\_\_\_\_

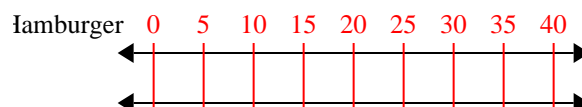
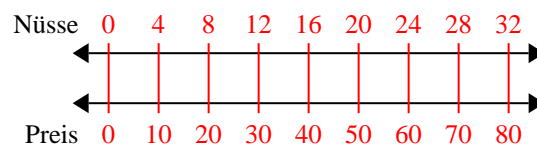
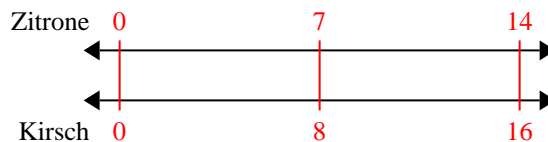
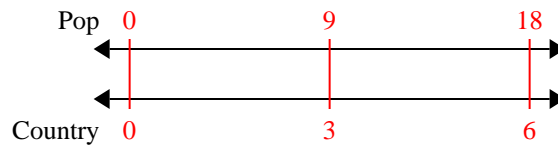
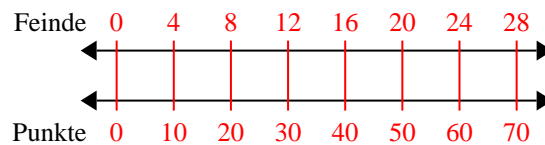
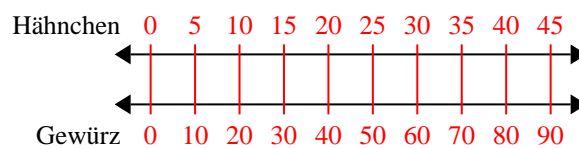
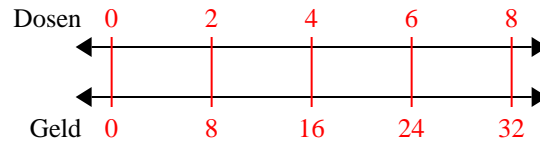
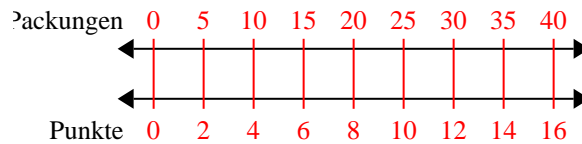
- 8) In einem Hamburger-Restaurant bekamen die Gäste 10 Servietten für jede 5 bestellten Hamburger. Wenn



8. \_\_\_\_\_

**Benutze den doppelten Zahlenstrahl und löse jede Aufgabe.**

- 1) Bei einer Benefizaktion in der Schule wurden Pralinen verkauft. Für jede 5 Packungen Pralinen konnte man 2 Punkte verdienen. Wenn du 40 Packungen verkaufen würdest, wie viele Punkte könntest du dann verdienen?
- 2) Für jede gesammelten 2 Dosen zum Recyceln bekam BVAR 8 Cent. Wenn er 8 Dosen gesammelt hat, wie viel Geld hat er dann verdient?
- 3) Ein Rezept benötigte 10 Teelöffel Gewürzmischung für jede 5 Portionen Brathähnchen. Wenn du 45 Portionen Hähnchen zubereiten möchtest, wie viele Teelöffel Gewürzmischung wirst du brauchen?
- 4) In einem Videospiel bekommst du 10 Punkte für jede 4 Feinde, die du besiegt. Wenn du 28 Feinde besiegen würdest, wie viel Punkte hättest du dann verdient?
- 5) Auf ihrem MP3-Spieler hatte GVAR für jede 9 Poplieder 3 Country-Lieder. Wenn sie 18 Poplieder auf ihrem MP3-Spieler hat, wie viele Country-Lieder hat sie dann?
- 6) In einer Bonbonpackung waren für jede 8 Kirschbonbons 7 Zitronenbonbons. Wenn die Packung 14 Zitronenbonbons hat, wie viel Kirschbonbons wären dann drin?
- 7) Ein Geschäft hatte eine Verkaufsaktion, wo man 4 Packungen Cashew-Nüsse für 10 € kaufen konnte. Wenn du 32 Packungen kaufen möchtest, wie viel würde es dann kosten?
- 8) In einem Hamburger-Restaurant bekamen die Gäste 10 Servietten für jede 5 bestellten Hamburger. Wenn

**Antworten**

1. 16
2. 32
3. 90
4. 70
5. 6
6. 16
7. 80
8. 80