



**Benutze den doppelten Zahlenstrahl und löse jede Aufgabe.****Antworten**

- 1) In einer Bonbonpackung waren für jede 6 Kirschbonbons 2 Zitronenbonbons. Wenn die Packung 16 Zitronenbonbons hat, wie viel Kirschbonbons wären dann drin?

Zitrone



Kirsch




1. _____


2. _____

- 2) Für jede gesammelten 6 Dosen zum Recyceln bekam BVAR 7 Cent. Wenn er 24 Dosen gesammelt hat, wie viel Geld hat er dann verdient?

Dosen



Geld




3. _____

4. _____


5. _____

- 3) Ein Bauunternehmen konnte 4 Gipsplatten kaufen für 2 €. Wenn er 32 Gipsplatten kaufen würde, wie viel Geld würde er dann ausgeben?

Gipsplatte



Preis




6. _____


7. _____

- 4) In einem Videospiel bekommst du 5 Punkte für jede 9 Feinde, die du besiegt. Wenn du 27 Feinde besiegen würdest, wie viel Punkte hättest du dann verdient?

Feinde




Punkte




8. _____

- 5) In einem Hamburger-Restaurant bekamen die Gäste 6 Servietten für jede 4 bestellten Hamburger. Wenn jemand 16 Hamburger bestellte, wie viele Servietten sollte er bekommen?

Hamburger



Servietten




- 6) Ein Rezept benötigte 10 Teelöffel Gewürzmischung für jede 8 Portionen Brathähnchen. Wenn du 72 Portionen Hähnchen zubereiten möchtest, wie viele Teelöffel Gewürzmischung wirst du brauchen?

Hähnchen




Gewürz




- 7) Bei einer Benefizaktion in der Schule wurden Pralinen verkauft. Für jede 7 Packungen Pralinen konnte man 5 Punkte verdienen. Wenn du 70 Packungen verkaufen würdest, wie viele Punkte könntest du dann verdienen?

Packungen


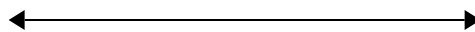


Punkte



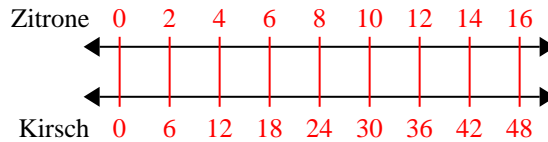
- 8) Das Verhältnis von Jungen zu Mädchen auf dem Spielplatz war 9 zu 8. Wenn es 90 Jungen gab, wie

Jungen

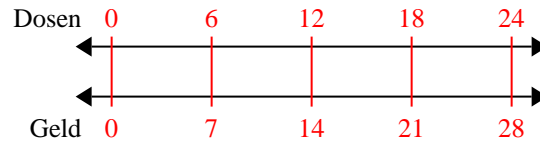


**Benutze den doppelten Zahlenstrahl und löse jede Aufgabe.**

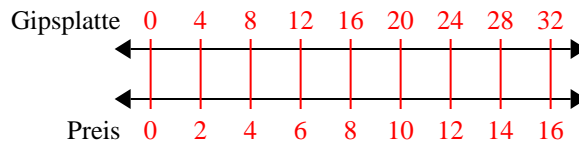
- 1) In einer Bonbonpackung waren für jede 6 Kirschbonbons 2 Zitronenbonbons. Wenn die Packung 16 Zitronenbonbons hat, wie viel Kirschbonbons wären dann drin?



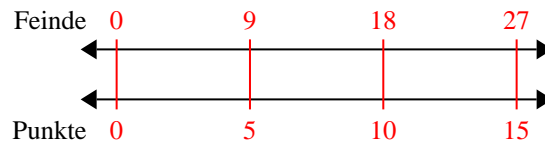
- 2) Für jede gesammelten 6 Dosen zum Recyclen bekam BVAR 7 Cent. Wenn er 24 Dosen gesammelt hat, wie viel Geld hat er dann verdient?



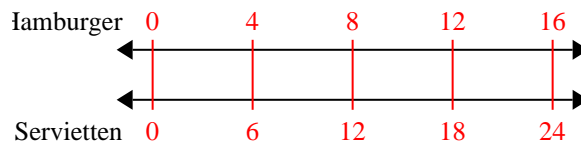
- 3) Ein Bauunternehmen konnte 4 Gipsplatten kaufen für 2 €. Wenn er 32 Gipsplatten kaufen würde, wie viel Geld würde er dann ausgeben?



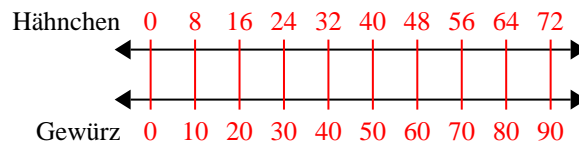
- 4) In einem Videospiel bekommst du 5 Punkte für jede 9 Feinde, die du besiegst. Wenn du 27 Feinde besiegen würdest, wie viel Punkte hättest du dann verdient?



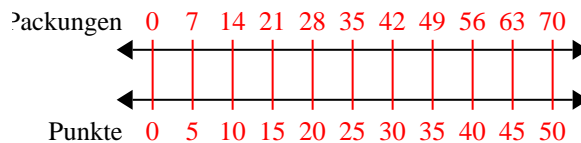
- 5) In einem Hamburger-Restaurant bekamen die Gäste 6 Servietten für jede 4 bestellten Hamburger. Wenn jemand 16 Hamburger bestellte, wie viele Servietten sollte er bekommen?



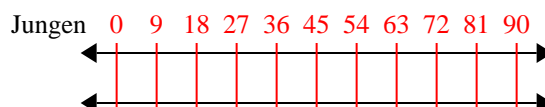
- 6) Ein Rezept benötigte 10 Teelöffel Gewürzmischung für jede 8 Portionen Brathähnchen. Wenn du 72 Portionen Hähnchen zubereiten möchtest, wie viele Teelöffel Gewürzmischung wirst du brauchen?



- 7) Bei einer Benefizaktion in der Schule wurden Pralinen verkauft. Für jede 7 Packungen Pralinen konnte man 5 Punkte verdienen. Wenn du 70 Packungen verkaufen würdest, wie viele Punkte könntest du dann verdienen?



- 8) Das Verhältnis von Jungen zu Mädchen auf dem Spielplatz war 9 zu 8. Wenn es 90 Jungen gab, wie viele Mädchen gab es?

**Antworten**

1. **48**
 2. **28**
 3. **16**
 4. **15**
 5. **24**
 6. **90**
 7. **50**
 8. **80**