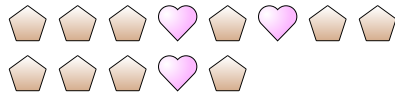




Löse jede Aufgabe.

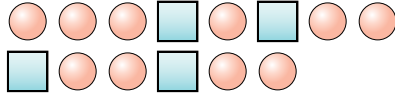
Bsp) Was ist das Verhältnis von Herzen zu Fünfecke?



1) Was ist das Verhältnis von Sterne zu Fünfecke?



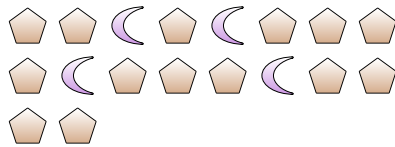
2) Was ist das Verhältnis von Quadrate zu Kreise?



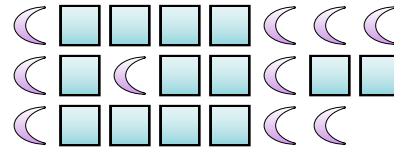
3) Was ist das Verhältnis von Sterne zu Quadrate?



4) Was ist das Verhältnis von Monde zu Fünfecke?



5) Was ist das Verhältnis von Monde zu Quadrate?




6) Was ist das Verhältnis von Kreise zu Herzen?



7) Was ist das Verhältnis von Herzen zu Quadrate?



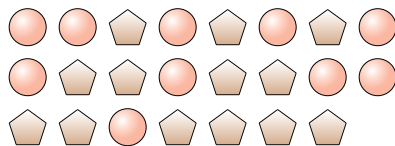
8) Was ist das Verhältnis von Herzen zu Fünfecke?



9) Was ist das Verhältnis von Monde zu Sterne?



10) Was ist das Verhältnis von Kreise zu Fünfecke?



11) Was ist das Verhältnis von Quadrate zu Dreiecke?



Antworten

Bsp. 3:10

1. _____

2. _____

3. _____

4. _____

5. _____

6. _____

7. _____

8. _____

9. _____

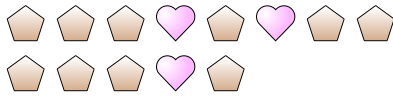
10. _____

11. _____



Löse jede Aufgabe.

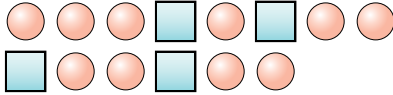
Bsp) Was ist das Verhältnis von Herzen zu Fünfecke?




1) Was ist das Verhältnis von Sterne zu Fünfecke?



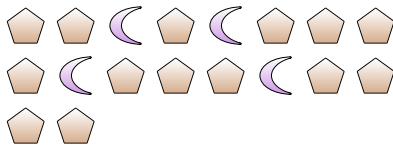
2) Was ist das Verhältnis von Quadrate zu Kreise?



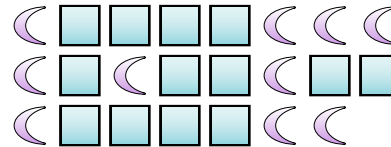
3) Was ist das Verhältnis von Sterne zu Quadrate?



4) Was ist das Verhältnis von Monde zu Fünfecke?



5) Was ist das Verhältnis von Monde zu Quadrate?




6) Was ist das Verhältnis von Kreise zu Herzen?



7) Was ist das Verhältnis von Herzen zu Quadrate?



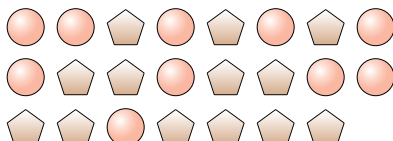
8) Was ist das Verhältnis von Herzen zu Fünfecke?



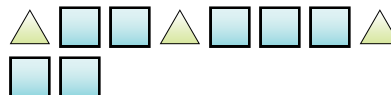
9) Was ist das Verhältnis von Monde zu Sterne?



10) Was ist das Verhältnis von Kreise zu Fünfecke?



11) Was ist das Verhältnis von Quadrate zu Dreiecke?

**Antworten**Bsp. 3:101. 14:102. 4:103. 8:104. 4:145. 10:136. 3:57. 3:28. 15:89. 5:1010. 10:1311. 7:3