




Löse jede Aufgabe.

Antworten

Bsp) Was ist das Verhältnis von Dreiecke zu Herzen?



1) Was ist das Verhältnis von Herzen zu Monde?




Bsp. 8:7


2) Was ist das Verhältnis von Sterne zu Kreise?



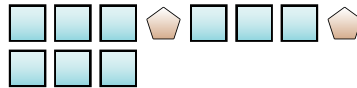
3) Was ist das Verhältnis von Herzen zu Kreise?



4) Was ist das Verhältnis von Herzen zu Quadrate?




5) Was ist das Verhältnis von Quadrate zu Fünfecke?



6) Was ist das Verhältnis von Monde zu Herzen?



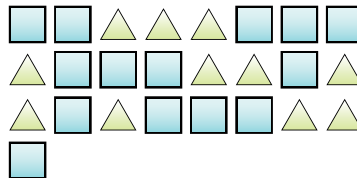
7) Was ist das Verhältnis von Herzen zu Dreiecke?



8) Was ist das Verhältnis von Kreise zu Quadrate?



9) Was ist das Verhältnis von Quadrate zu Dreiecke?



10) Was ist das Verhältnis von Sterne zu Kreise?



11) Was ist das Verhältnis von Sterne zu Herzen?




- 1. _____
- 2. _____
- 3. _____
- 4. _____
- 5. _____
- 6. _____
- 7. _____
- 8. _____
- 9. _____
- 10. _____
- 11. _____



Löse jede Aufgabe.

Bsp) Was ist das Verhältnis von Dreiecke zu Herzen?



1) Was ist das Verhältnis von Herzen zu Monde?



Antworten

Bsp. 8:7

1. 8:15

2. 10:2

3. 10:14

4. 11:4

5. 9:2

6. 12:9

7. 9:14

8. 4:3

9. 14:11

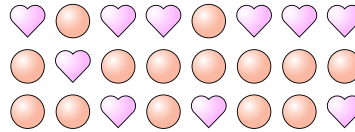
10. 14:3

11. 5:13


2) Was ist das Verhältnis von Sterne zu Kreise?



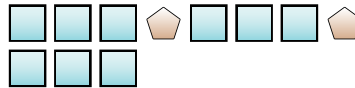
3) Was ist das Verhältnis von Herzen zu Kreise?



4) Was ist das Verhältnis von Herzen zu Quadrate?




5) Was ist das Verhältnis von Quadrate zu Fünfecke?



6) Was ist das Verhältnis von Monde zu Herzen?



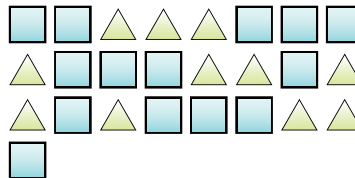
7) Was ist das Verhältnis von Herzen zu Dreiecke?



8) Was ist das Verhältnis von Kreise zu Quadrate?



9) Was ist das Verhältnis von Quadrate zu Dreiecke?



10) Was ist das Verhältnis von Sterne zu Kreise?



11) Was ist das Verhältnis von Sterne zu Herzen?

