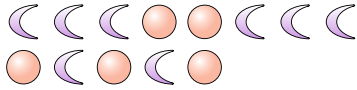


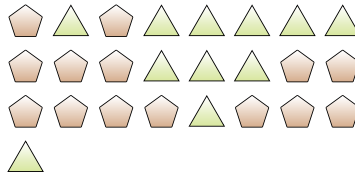


Löse jede Aufgabe.


Bsp) Was ist das Verhältnis von Kreise zu Monde?



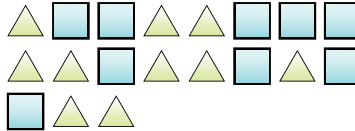
1) Was ist das Verhältnis von Dreiecke zu Fünfecke?



2) Was ist das Verhältnis von Quadrate zu Herzen?



3) Was ist das Verhältnis von Dreiecke zu Quadrate?



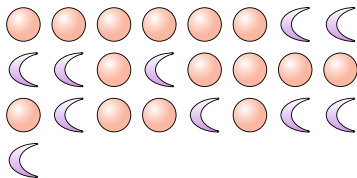
4) Was ist das Verhältnis von Fünfecke zu Sterne?



5) Was ist das Verhältnis von Herzen zu Quadrate?



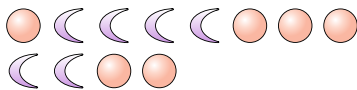
6) Was ist das Verhältnis von Kreise zu Monde?




7) Was ist das Verhältnis von Herzen zu Monde?



8) Was ist das Verhältnis von Kreise zu Monde?



9) Was ist das Verhältnis von Herzen zu Monde?



10) Was ist das Verhältnis von Fünfecke zu Sterne?



11) Was ist das Verhältnis von Herzen zu Sterne?



Antworten

Bsp. 5:8

1. \_\_\_\_\_

2. \_\_\_\_\_

3. \_\_\_\_\_

4. \_\_\_\_\_

5. \_\_\_\_\_

6. \_\_\_\_\_

7. \_\_\_\_\_

8. \_\_\_\_\_

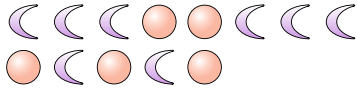
9. \_\_\_\_\_

10. \_\_\_\_\_

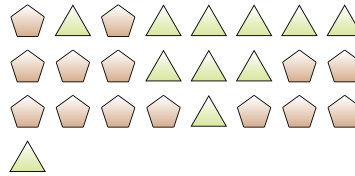
11. \_\_\_\_\_

**Löse jede Aufgabe.**


Bsp) Was ist das Verhältnis von Kreise zu Monde?



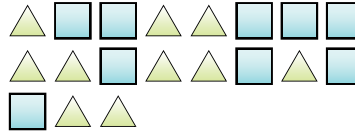
1) Was ist das Verhältnis von Dreiecke zu Fünfecke?



2) Was ist das Verhältnis von Quadrate zu Herzen?



3) Was ist das Verhältnis von Dreiecke zu Quadrate?



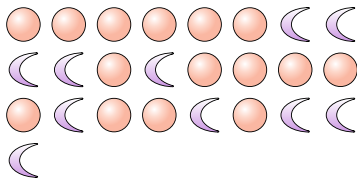
4) Was ist das Verhältnis von Fünfecke zu Sterne?




5) Was ist das Verhältnis von Herzen zu Quadrate?



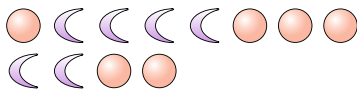
6) Was ist das Verhältnis von Kreise zu Monde?




7) Was ist das Verhältnis von Herzen zu Monde?



8) Was ist das Verhältnis von Kreise zu Monde?



9) Was ist das Verhältnis von Herzen zu Monde?



10) Was ist das Verhältnis von Fünfecke zu Sterne?



11) Was ist das Verhältnis von Herzen zu Sterne?

**Antworten**Bsp. 5:81. 11:142. 12:153. 10:94. 2:55. 4:36. 15:107. 10:58. 6:69. 15:1010. 2:1211. 6:4