



Löse jede Aufgabe.

Bsp) Was ist das Verhältnis von Quadrate zu Sterne?



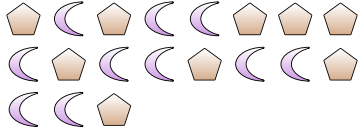
1) Was ist das Verhältnis von Dreiecke zu Quadrate?



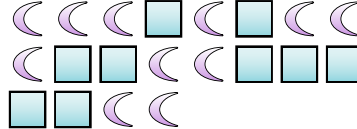
Antworten

Bsp. 5:8


2) Was ist das Verhältnis von Fünfecke zu Monde?



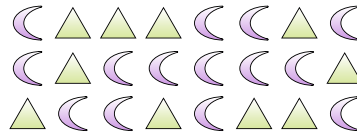
3) Was ist das Verhältnis von Monde zu Quadrate?



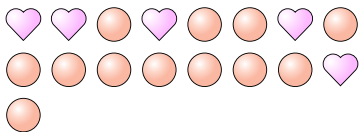
4) Was ist das Verhältnis von Dreiecke zu Herzen?



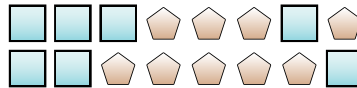
5) Was ist das Verhältnis von Monde zu Dreiecke?




6) Was ist das Verhältnis von Kreise zu Herzen?



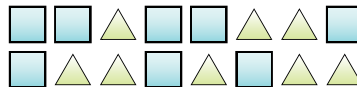
7) Was ist das Verhältnis von Quadrate zu Fünfecke?



8) Was ist das Verhältnis von Dreiecke zu Herzen?




9) Was ist das Verhältnis von Quadrate zu Dreiecke?



10) Was ist das Verhältnis von Fünfecke zu Sterne?



11) Was ist das Verhältnis von Quadrate zu Herzen?



1. _____

2. _____

3. _____

4. _____

5. _____

6. _____

7. _____

8. _____

9. _____

10. _____

11. _____

**Löse jede Aufgabe.**

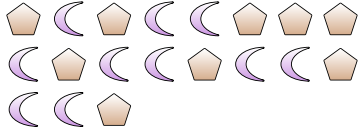
Bsp) Was ist das Verhältnis von Quadrate zu Sterne?



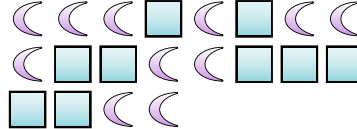
1) Was ist das Verhältnis von Dreiecke zu Quadrate?




2) Was ist das Verhältnis von Fünfecke zu Monde?



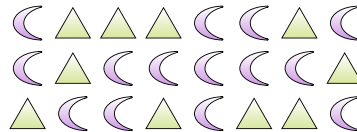
3) Was ist das Verhältnis von Monde zu Quadrate?



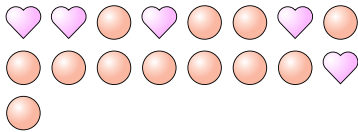
4) Was ist das Verhältnis von Dreiecke zu Herzen?



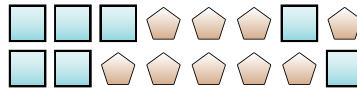
5) Was ist das Verhältnis von Monde zu Dreiecke?




6) Was ist das Verhältnis von Kreise zu Herzen?



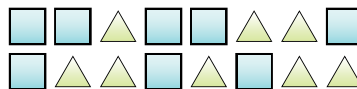
7) Was ist das Verhältnis von Quadrate zu Fünfecke?




8) Was ist das Verhältnis von Dreiecke zu Herzen?




9) Was ist das Verhältnis von Quadrate zu Dreiecke?



10) Was ist das Verhältnis von Fünfecke zu Sterne?



11) Was ist das Verhältnis von Quadrate zu Herzen?

**Antworten**Bsp. 5:81. 5:32. 9:103. 11:94. 9:155. 14:106. 12:57. 7:98. 15:99. 8:810. 12:511. 4:14