


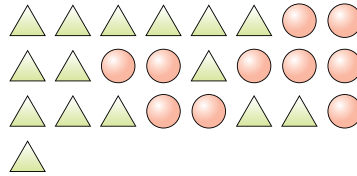


Löse jede Aufgabe.

Bsp) Was ist das Verhältnis von Herzen zu Fünfecke?



1) Was ist das Verhältnis von Kreise zu Dreiecke?

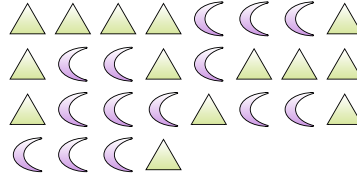


Antworten
Bsp. 12:11

2) Was ist das Verhältnis von Fünfecke zu Sterne?




3) Was ist das Verhältnis von Monde zu Dreiecke?



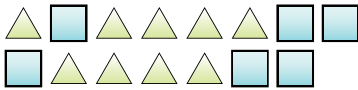
4) Was ist das Verhältnis von Herzen zu Dreiecke?



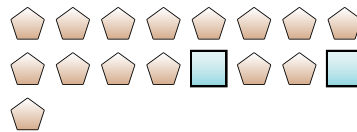
5) Was ist das Verhältnis von Monde zu Herzen?



6) Was ist das Verhältnis von Quadrate zu Dreiecke?



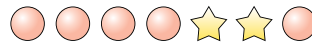
7) Was ist das Verhältnis von Quadrate zu Fünfecke?




8) Was ist das Verhältnis von Sterne zu Fünfecke?



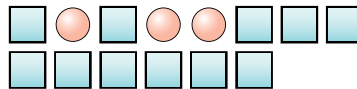
9) Was ist das Verhältnis von Kreise zu Sterne?



10) Was ist das Verhältnis von Herzen zu Fünfecke?



11) Was ist das Verhältnis von Kreise zu Quadrate?




- 1. _____
- 2. _____
- 3. _____
- 4. _____
- 5. _____
- 6. _____
- 7. _____
- 8. _____
- 9. _____
- 10. _____
- 11. _____

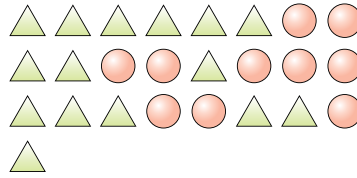


Löse jede Aufgabe.

Bsp) Was ist das Verhältnis von Herzen zu Fünfecke?



1) Was ist das Verhältnis von Kreise zu Dreiecke?



Antworten
Bsp. 12:11

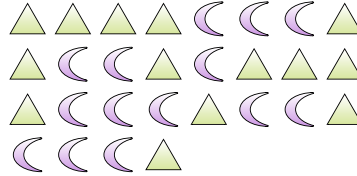
1. 10:15

2. 10:13

2) Was ist das Verhältnis von Fünfecke zu Sterne?



3) Was ist das Verhältnis von Monde zu Dreiecke?



3. 14:14


4. 11:4

5. 5:15

4) Was ist das Verhältnis von Herzen zu Dreiecke?



5) Was ist das Verhältnis von Monde zu Herzen?



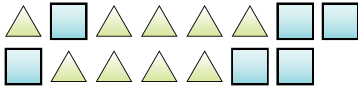
6. 6:9

7. 2:15

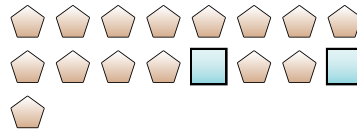
8. 14:5

9. 5:2

6) Was ist das Verhältnis von Quadrate zu Dreiecke?



7) Was ist das Verhältnis von Quadrate zu Fünfecke?



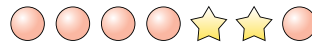
10. 11:8

11. 3:11


8) Was ist das Verhältnis von Sterne zu Fünfecke?



9) Was ist das Verhältnis von Kreise zu Sterne?



10) Was ist das Verhältnis von Herzen zu Fünfecke?



11) Was ist das Verhältnis von Kreise zu Quadrate?

