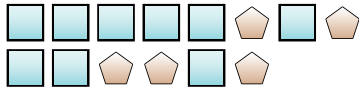




Löse jede Aufgabe.

Bsp) Was ist das Verhältnis von Quadrate zu Fünfecke?



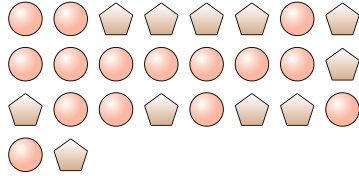
1) Was ist das Verhältnis von Herzen zu Monde?



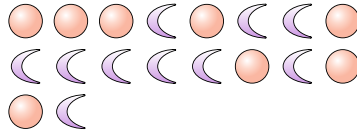
Antworten

Bsp. 9:5

2) Was ist das Verhältnis von Kreise zu Fünfecke?



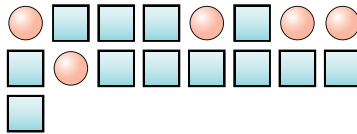
3) Was ist das Verhältnis von Kreise zu Monde?



4) Was ist das Verhältnis von Sterne zu Monde?



5) Was ist das Verhältnis von Quadrate zu Kreise?



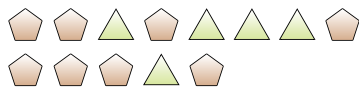
6) Was ist das Verhältnis von Monde zu Kreise?



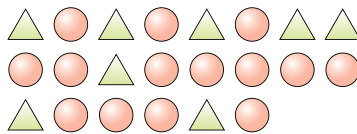
7) Was ist das Verhältnis von Kreise zu Sterne?




8) Was ist das Verhältnis von Fünfecke zu Dreiecke?



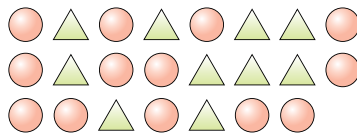
9) Was ist das Verhältnis von Kreise zu Dreiecke?



10) Was ist das Verhältnis von Dreiecke zu Herzen?



11) Was ist das Verhältnis von Kreise zu Dreiecke?



1. _____

2. _____

3. _____

4. _____

5. _____

6. _____

7. _____

8. _____

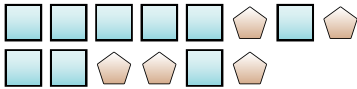
9. _____

10. _____

11. _____

**Löse jede Aufgabe.**

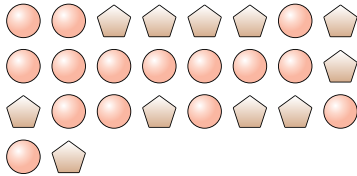
Bsp) Was ist das Verhältnis von Quadrate zu Fünfecke?



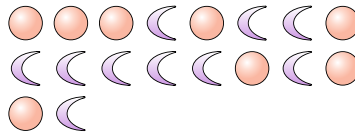
1) Was ist das Verhältnis von Herzen zu Monde?

**Antworten**Bsp. 9:51. 6:112. 15:113. 8:104. 10:145. 12:56. 5:57. 5:148. 8:59. 14:810. 12:1111. 13:10

2) Was ist das Verhältnis von Kreise zu Fünfecke?



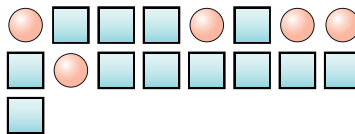
3) Was ist das Verhältnis von Kreise zu Monde?



4) Was ist das Verhältnis von Sterne zu Monde?



5) Was ist das Verhältnis von Quadrate zu Kreise?



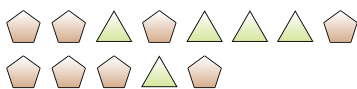
6) Was ist das Verhältnis von Monde zu Kreise?



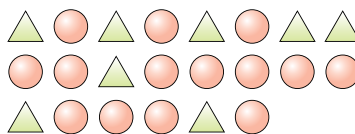
7) Was ist das Verhältnis von Kreise zu Sterne?




8) Was ist das Verhältnis von Fünfecke zu Dreiecke?



9) Was ist das Verhältnis von Kreise zu Dreiecke?



10) Was ist das Verhältnis von Dreiecke zu Herzen?



11) Was ist das Verhältnis von Kreise zu Dreiecke?

