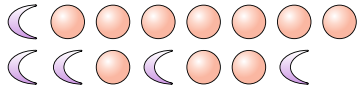




Löse jede Aufgabe.

Bsp) Was ist das Verhältnis von Monde zu Kreise?



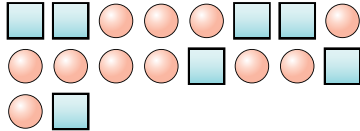
1) Was ist das Verhältnis von Herzen zu Sterne?




Antworten

Bsp. 5:10

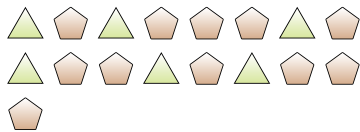
2) Was ist das Verhältnis von Kreise zu Quadrate?



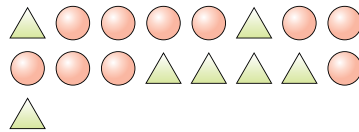
3) Was ist das Verhältnis von Dreiecke zu Herzen?



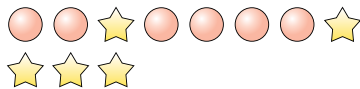
4) Was ist das Verhältnis von Fünfecke zu Dreiecke?



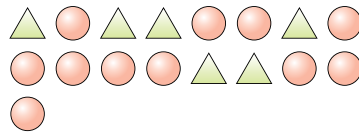
5) Was ist das Verhältnis von Kreise zu Dreiecke?



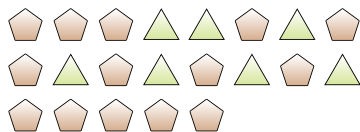
6) Was ist das Verhältnis von Kreise zu Sterne?



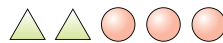
7) Was ist das Verhältnis von Kreise zu Dreiecke?



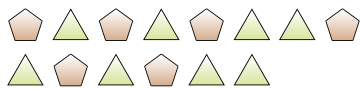
8) Was ist das Verhältnis von Fünfecke zu Dreiecke?



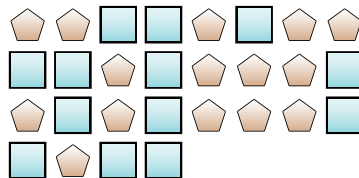
9) Was ist das Verhältnis von Dreiecke zu Kreise?



10) Was ist das Verhältnis von Fünfecke zu Dreiecke?



11) Was ist das Verhältnis von Fünfecke zu Quadrate?

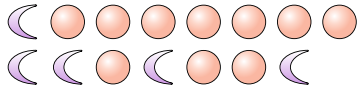


- 1. _____
- 2. _____
- 3. _____
- 4. _____
- 5. _____
- 6. _____
- 7. _____
- 8. _____
- 9. _____
- 10. _____
- 11. _____



Löse jede Aufgabe.

Bsp) Was ist das Verhältnis von Monde zu Kreise?

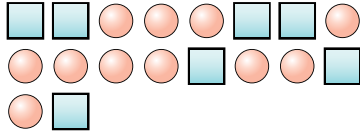


1) Was ist das Verhältnis von Herzen zu Sterne?

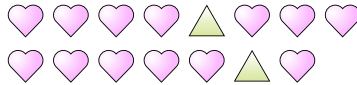


Antworten
Bsp. 5:10

2) Was ist das Verhältnis von Kreise zu Quadrate?



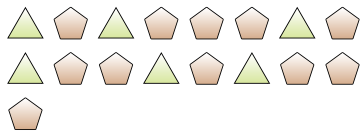
3) Was ist das Verhältnis von Dreiecke zu Herzen?



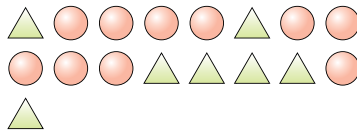
1. 3:3

2. 11:7

4) Was ist das Verhältnis von Fünfecke zu Dreiecke?



5) Was ist das Verhältnis von Kreise zu Dreiecke?

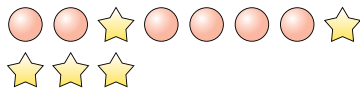


3. 2:13

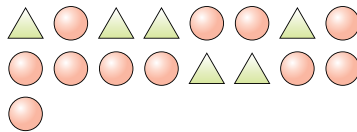
4. 11:6

5. 10:7

6) Was ist das Verhältnis von Kreise zu Sterne?



7) Was ist das Verhältnis von Kreise zu Dreiecke?

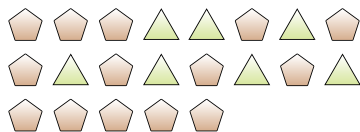


6. 6:5


7. 11:6

8. 14:7

8) Was ist das Verhältnis von Fünfecke zu Dreiecke?



9) Was ist das Verhältnis von Dreiecke zu Kreise?

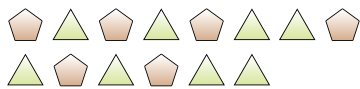


9. 2:3

10. 6:8

11. 15:13

10) Was ist das Verhältnis von Fünfecke zu Dreiecke?



11) Was ist das Verhältnis von Fünfecke zu Quadrate?

