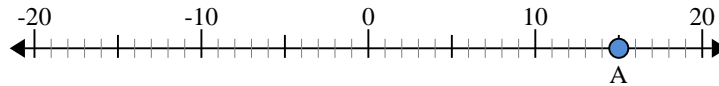


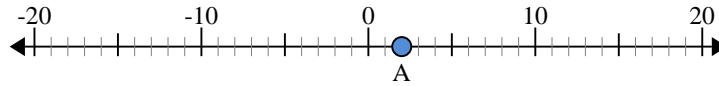


**Benutze den Zahlenstrahl um den absoluten Wert zu finden.**

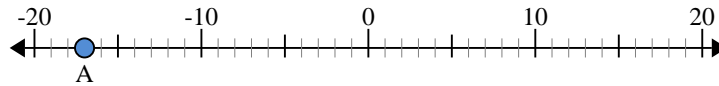
- 1) a. Was ist der Wert von 'A'?
- b. Wie weit ist 'A' entfernt von 0 (absoluter Wert)?



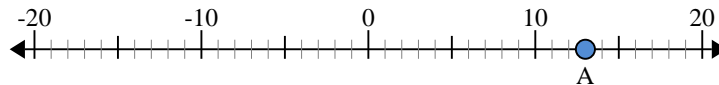
- 2) a. Was ist der Wert von 'A'?
- b. Wie weit ist 'A' entfernt von 0 (absoluter Wert)?



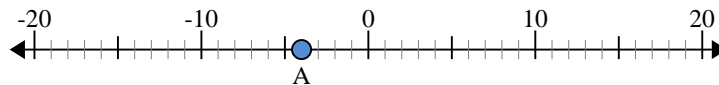
- 3) a. Was ist der Wert von 'A'?
- b. Wie weit ist 'A' entfernt von 0 (absoluter Wert)?



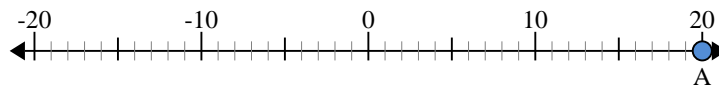
- 4) a. Was ist der Wert von 'A'?
- b. Wie weit ist 'A' entfernt von 0 (absoluter Wert)?



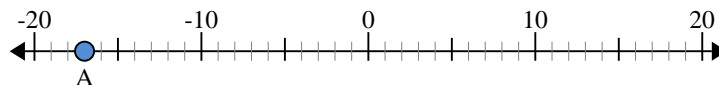
- 5) a. Was ist der Wert von 'A'?
- b. Wie weit ist 'A' entfernt von 0 (absoluter Wert)?



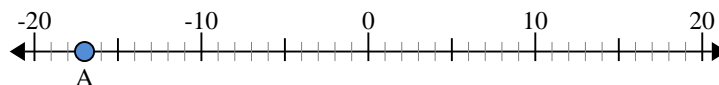
- 6) a. Was ist der Wert von 'A'?
- b. Wie weit ist 'A' entfernt von 0 (absoluter Wert)?



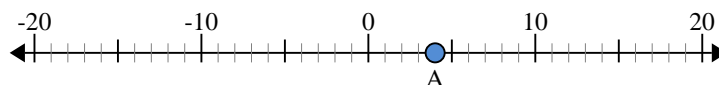
- 7) a. Was ist der Wert von 'A'?
- b. Wie weit ist 'A' entfernt von 0 (absoluter Wert)?



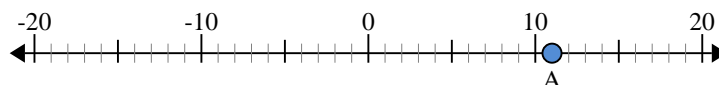
- 8) a. Was ist der Wert von 'A'?
- b. Wie weit ist 'A' entfernt von 0 (absoluter Wert)?



- 9) a. Was ist der Wert von 'A'?
- b. Wie weit ist 'A' entfernt von 0 (absoluter Wert)?



- 10) a. Was ist der Wert von 'A'?
- b. Wie weit ist 'A' entfernt von 0 (absoluter Wert)?



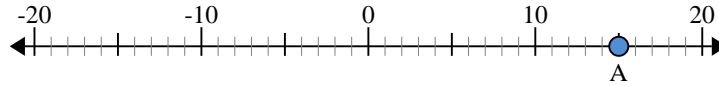
**Antworten**

1. \_\_\_\_\_
2. \_\_\_\_\_
3. \_\_\_\_\_
4. \_\_\_\_\_
5. \_\_\_\_\_
6. \_\_\_\_\_
7. \_\_\_\_\_
8. \_\_\_\_\_
9. \_\_\_\_\_
10. \_\_\_\_\_

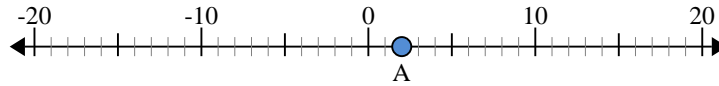


Benutze den Zahlenstrahl um den absoluten Wert zu finden.

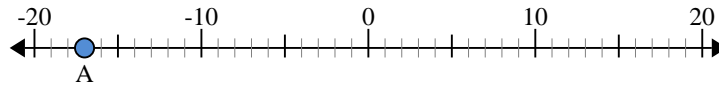
- 1) a. Was ist der Wert von 'A'?
- b. Wie weit ist 'A' entfernt von 0 (absoluter Wert)?



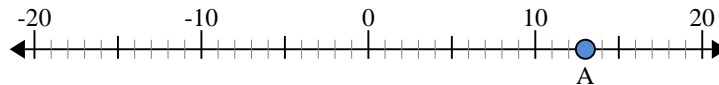
- 2) a. Was ist der Wert von 'A'?
- b. Wie weit ist 'A' entfernt von 0 (absoluter Wert)?



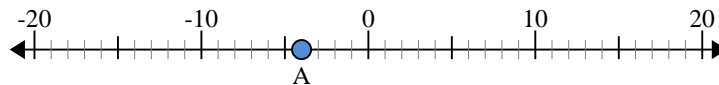
- 3) a. Was ist der Wert von 'A'?
- b. Wie weit ist 'A' entfernt von 0 (absoluter Wert)?



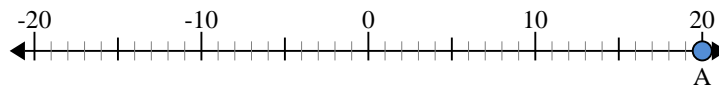
- 4) a. Was ist der Wert von 'A'?
- b. Wie weit ist 'A' entfernt von 0 (absoluter Wert)?



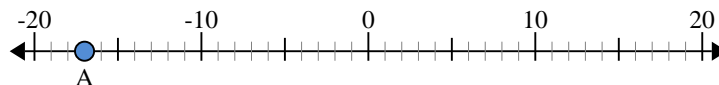
- 5) a. Was ist der Wert von 'A'?
- b. Wie weit ist 'A' entfernt von 0 (absoluter Wert)?



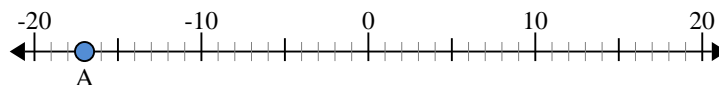
- 6) a. Was ist der Wert von 'A'?
- b. Wie weit ist 'A' entfernt von 0 (absoluter Wert)?



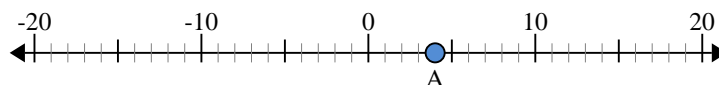
- 7) a. Was ist der Wert von 'A'?
- b. Wie weit ist 'A' entfernt von 0 (absoluter Wert)?



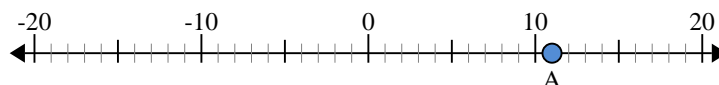
- 8) a. Was ist der Wert von 'A'?
- b. Wie weit ist 'A' entfernt von 0 (absoluter Wert)?



- 9) a. Was ist der Wert von 'A'?
- b. Wie weit ist 'A' entfernt von 0 (absoluter Wert)?



- 10) a. Was ist der Wert von 'A'?
- b. Wie weit ist 'A' entfernt von 0 (absoluter Wert)?



**Antworten**

1.	<u>15</u>	<u>15</u>
2.	<u>2</u>	<u>2</u>
3.	<u>-17</u>	<u>17</u>
4.	<u>13</u>	<u>13</u>
5.	<u>-4</u>	<u>4</u>
6.	<u>20</u>	<u>20</u>
7.	<u>-17</u>	<u>17</u>
8.	<u>-17</u>	<u>17</u>
9.	<u>4</u>	<u>4</u>
10.	<u>11</u>	<u>11</u>