




Löse jede Aufgabe.

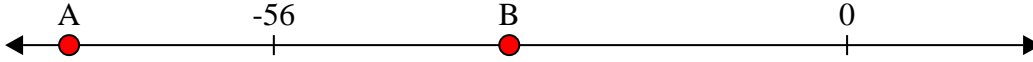
**Antworten**

1) Welcher Buchstabe zeigt die korrekte Lage von -41?



1. \_\_\_\_\_

2) Welcher Buchstabe zeigt die korrekte Lage von -76?




2. \_\_\_\_\_

3) Welcher Buchstabe zeigt die korrekte Lage von -56?




3. \_\_\_\_\_

4) Welcher Buchstabe zeigt die korrekte Lage von -13?



4. \_\_\_\_\_

5) Welcher Buchstabe zeigt die korrekte Lage von -32?




5. \_\_\_\_\_

6) Welcher Buchstabe zeigt die korrekte Lage von -24?



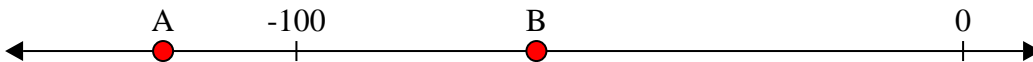
6. \_\_\_\_\_

7) Welcher Buchstabe zeigt die korrekte Lage von -23?




7. \_\_\_\_\_

8) Welcher Buchstabe zeigt die korrekte Lage von -64?




8. \_\_\_\_\_

9) Welcher Buchstabe zeigt die korrekte Lage von -124?



9. \_\_\_\_\_

10) Welcher Buchstabe zeigt die korrekte Lage von -23?



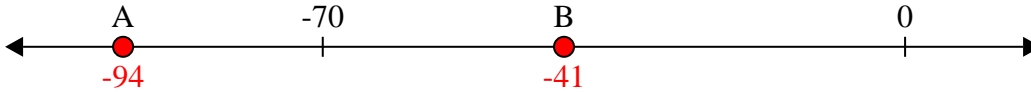
10. \_\_\_\_\_



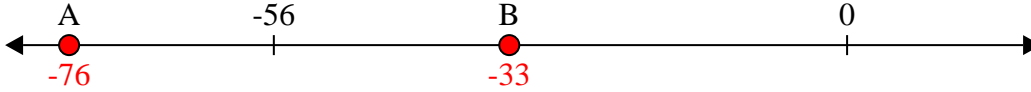
Löse jede Aufgabe.

**Antworten**

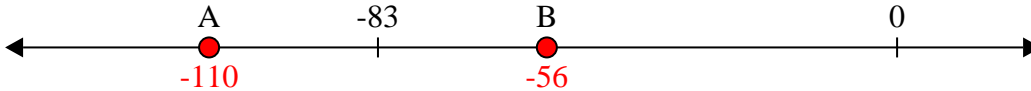
- 1) Welcher Buchstabe zeigt die korrekte Lage von -41?

1.   **B**  

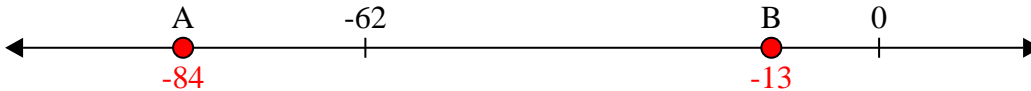
- 2) Welcher Buchstabe zeigt die korrekte Lage von -76?

2.   **A**  

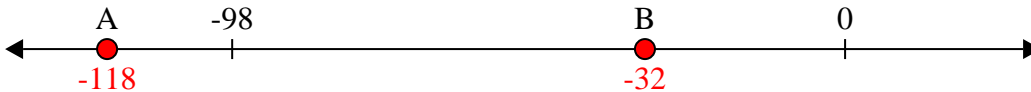
- 3) Welcher Buchstabe zeigt die korrekte Lage von -56?

3.   **B**  

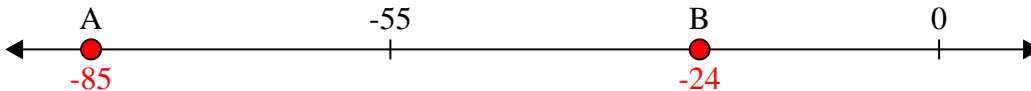
- 4) Welcher Buchstabe zeigt die korrekte Lage von -13?

4.   **B**  


- 5) Welcher Buchstabe zeigt die korrekte Lage von -32?

5.   **B**  

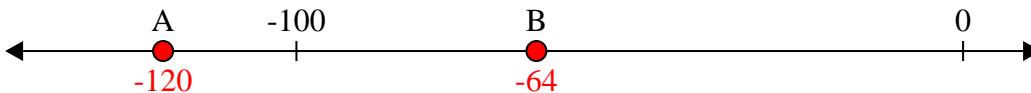
- 6) Welcher Buchstabe zeigt die korrekte Lage von -24?

6.   **B**  


- 7) Welcher Buchstabe zeigt die korrekte Lage von -23?

7.   **B**  


- 8) Welcher Buchstabe zeigt die korrekte Lage von -64?

8.   **B**  

- 9) Welcher Buchstabe zeigt die korrekte Lage von -124?

9.   **A**  

- 10) Welcher Buchstabe zeigt die korrekte Lage von -23?

10.   **B**