




Löse jede Aufgabe.


Antworten

1) Welcher Buchstabe zeigt die korrekte Lage von -40?



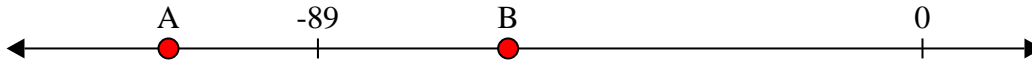
1. _____

2) Welcher Buchstabe zeigt die korrekte Lage von -29?




2. _____

3) Welcher Buchstabe zeigt die korrekte Lage von -111?




3. _____

4) Welcher Buchstabe zeigt die korrekte Lage von -81?




4. _____

5) Welcher Buchstabe zeigt die korrekte Lage von -11?




5. _____

6) Welcher Buchstabe zeigt die korrekte Lage von -77?




6. _____

7) Welcher Buchstabe zeigt die korrekte Lage von -30?




7. _____

8) Welcher Buchstabe zeigt die korrekte Lage von -10?




8. _____

9) Welcher Buchstabe zeigt die korrekte Lage von -33?



9. _____

10) Welcher Buchstabe zeigt die korrekte Lage von -121?

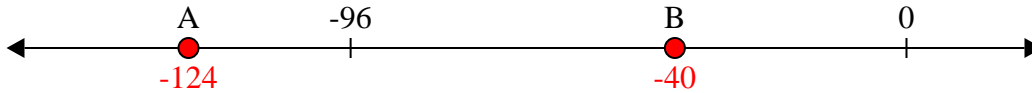


10. _____

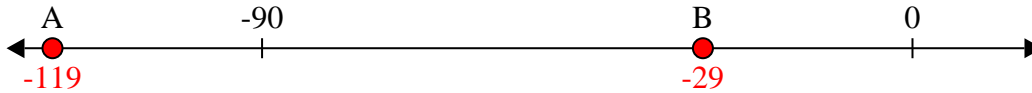


Löse jede Aufgabe.

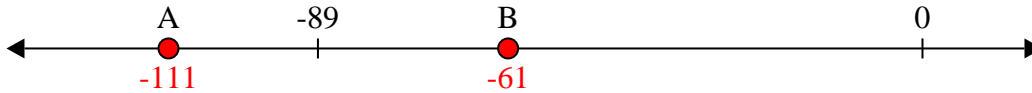
- 1) Welcher Buchstabe zeigt die korrekte Lage von -40?



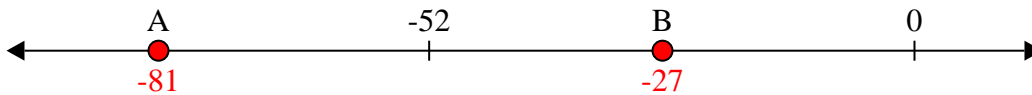
- 2) Welcher Buchstabe zeigt die korrekte Lage von -29?



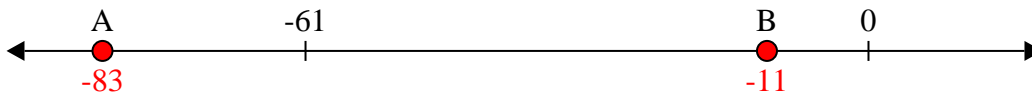
- 3) Welcher Buchstabe zeigt die korrekte Lage von -111?



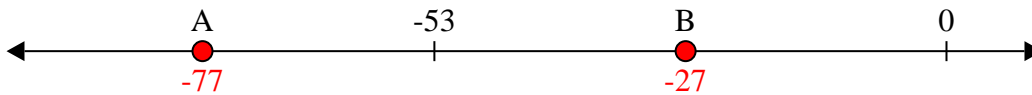
- 4) Welcher Buchstabe zeigt die korrekte Lage von -81?




- 5) Welcher Buchstabe zeigt die korrekte Lage von -11?




- 6) Welcher Buchstabe zeigt die korrekte Lage von -77?




- 7) Welcher Buchstabe zeigt die korrekte Lage von -30?




- 8) Welcher Buchstabe zeigt die korrekte Lage von -10?



- 9) Welcher Buchstabe zeigt die korrekte Lage von -33?




- 10) Welcher Buchstabe zeigt die korrekte Lage von -121?

Antworten1. B2. B3. A4. A5. B6. A7. B8. B9. B10. A




Löse jede Aufgabe.


1) Welcher Buchstabe zeigt die korrekte Lage von -23?




2) Welcher Buchstabe zeigt die korrekte Lage von -129?




3) Welcher Buchstabe zeigt die korrekte Lage von -93?




4) Welcher Buchstabe zeigt die korrekte Lage von -30?




5) Welcher Buchstabe zeigt die korrekte Lage von -86?



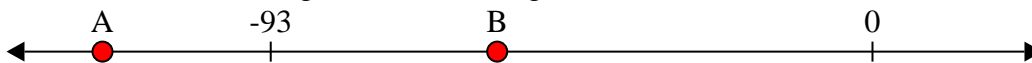
6) Welcher Buchstabe zeigt die korrekte Lage von -101?



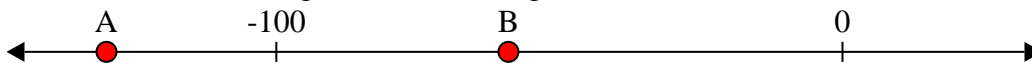
7) Welcher Buchstabe zeigt die korrekte Lage von -21?




8) Welcher Buchstabe zeigt die korrekte Lage von -119?



9) Welcher Buchstabe zeigt die korrekte Lage von -59?



10) Welcher Buchstabe zeigt die korrekte Lage von -23?



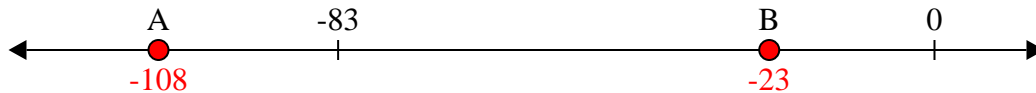
Antworten

1. _____
2. _____
3. _____
4. _____
5. _____
6. _____
7. _____
8. _____
9. _____
10. _____

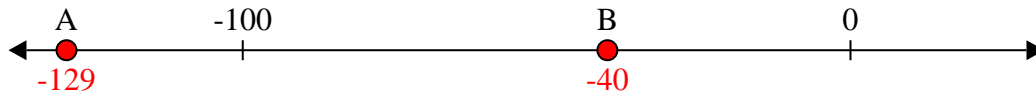


Löse jede Aufgabe.


1) Welcher Buchstabe zeigt die korrekte Lage von -23?




2) Welcher Buchstabe zeigt die korrekte Lage von -129?




3) Welcher Buchstabe zeigt die korrekte Lage von -93?




4) Welcher Buchstabe zeigt die korrekte Lage von -30?




5) Welcher Buchstabe zeigt die korrekte Lage von -86?



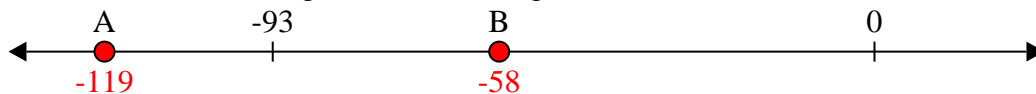
6) Welcher Buchstabe zeigt die korrekte Lage von -101?



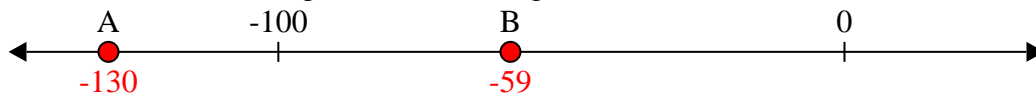
7) Welcher Buchstabe zeigt die korrekte Lage von -21?




8) Welcher Buchstabe zeigt die korrekte Lage von -119?



9) Welcher Buchstabe zeigt die korrekte Lage von -59?



10) Welcher Buchstabe zeigt die korrekte Lage von -23?

Antworten1. **B**2. **A**3. **A**4. **B**5. **A**6. **A**7. **B**8. **A**9. **B**10. **B**




Löse jede Aufgabe.


1) Welcher Buchstabe zeigt die korrekte Lage von -51?




2) Welcher Buchstabe zeigt die korrekte Lage von -19?




3) Welcher Buchstabe zeigt die korrekte Lage von -32?




4) Welcher Buchstabe zeigt die korrekte Lage von -43?



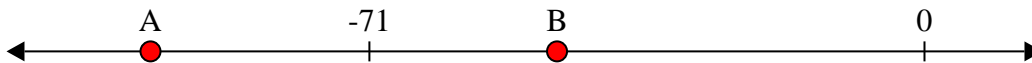
5) Welcher Buchstabe zeigt die korrekte Lage von -30?




6) Welcher Buchstabe zeigt die korrekte Lage von -100?




7) Welcher Buchstabe zeigt die korrekte Lage von -47?



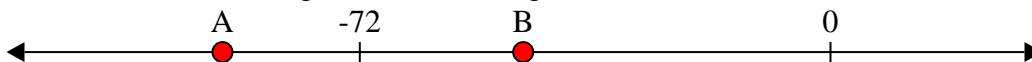
8) Welcher Buchstabe zeigt die korrekte Lage von -107?



9) Welcher Buchstabe zeigt die korrekte Lage von -121?



10) Welcher Buchstabe zeigt die korrekte Lage von -93?



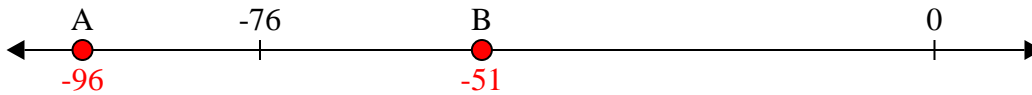
Antworten

1. _____
2. _____
3. _____
4. _____
5. _____
6. _____
7. _____
8. _____
9. _____
10. _____

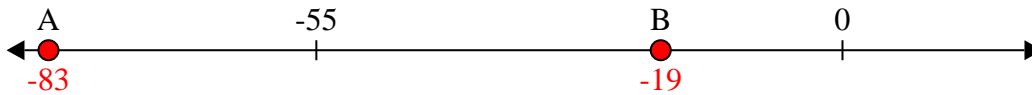


Löse jede Aufgabe.

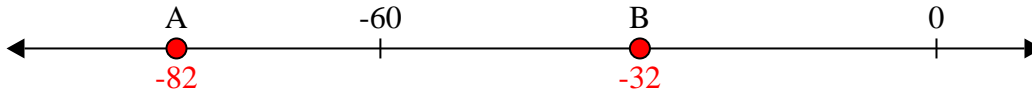
1) Welcher Buchstabe zeigt die korrekte Lage von -51?




2) Welcher Buchstabe zeigt die korrekte Lage von -19?




3) Welcher Buchstabe zeigt die korrekte Lage von -32?




4) Welcher Buchstabe zeigt die korrekte Lage von -43?



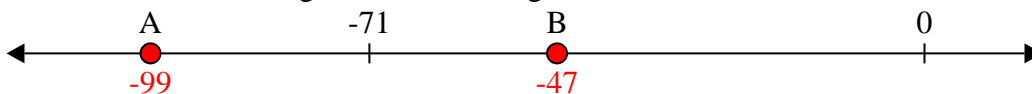
5) Welcher Buchstabe zeigt die korrekte Lage von -30?




6) Welcher Buchstabe zeigt die korrekte Lage von -100?




7) Welcher Buchstabe zeigt die korrekte Lage von -47?



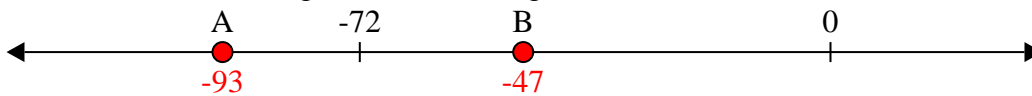
8) Welcher Buchstabe zeigt die korrekte Lage von -107?



9) Welcher Buchstabe zeigt die korrekte Lage von -121?




10) Welcher Buchstabe zeigt die korrekte Lage von -93?

Antworten1. **B**2. **B**3. **B**4. **B**5. **B**6. **A**7. **B**8. **A**9. **A**10. **A**




Löse jede Aufgabe.


1) Welcher Buchstabe zeigt die korrekte Lage von -87?




2) Welcher Buchstabe zeigt die korrekte Lage von -22?




3) Welcher Buchstabe zeigt die korrekte Lage von -114?



4) Welcher Buchstabe zeigt die korrekte Lage von -12?




5) Welcher Buchstabe zeigt die korrekte Lage von -94?




6) Welcher Buchstabe zeigt die korrekte Lage von -53?




7) Welcher Buchstabe zeigt die korrekte Lage von -113?




8) Welcher Buchstabe zeigt die korrekte Lage von -44?



9) Welcher Buchstabe zeigt die korrekte Lage von -119?



10) Welcher Buchstabe zeigt die korrekte Lage von -82?




Antworten

1. _____
2. _____
3. _____
4. _____
5. _____
6. _____
7. _____
8. _____
9. _____
10. _____




Löse jede Aufgabe.

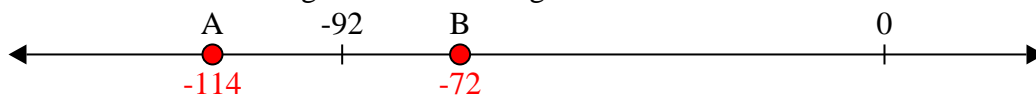
1) Welcher Buchstabe zeigt die korrekte Lage von -87?




2) Welcher Buchstabe zeigt die korrekte Lage von -22?



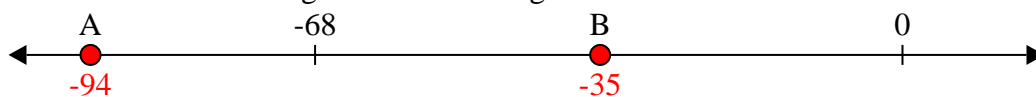
3) Welcher Buchstabe zeigt die korrekte Lage von -114?



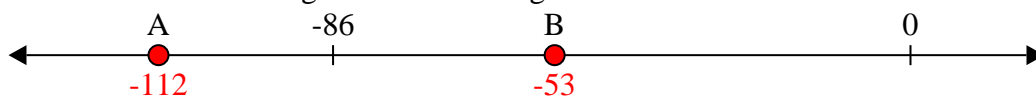
4) Welcher Buchstabe zeigt die korrekte Lage von -12?




5) Welcher Buchstabe zeigt die korrekte Lage von -94?



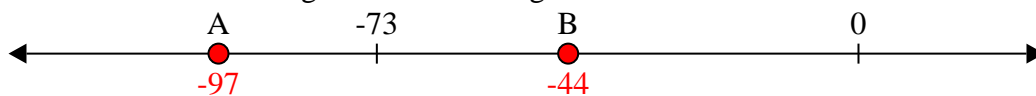
6) Welcher Buchstabe zeigt die korrekte Lage von -53?




7) Welcher Buchstabe zeigt die korrekte Lage von -113?



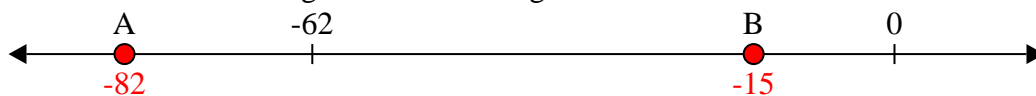
8) Welcher Buchstabe zeigt die korrekte Lage von -44?



9) Welcher Buchstabe zeigt die korrekte Lage von -119?



10) Welcher Buchstabe zeigt die korrekte Lage von -82?


Antworten1. A2. B3. A4. B5. A6. B7. A8. B9. A10. A



Löse jede Aufgabe.

Antworten

1) Welcher Buchstabe zeigt die korrekte Lage von -37?




1. _____

2) Welcher Buchstabe zeigt die korrekte Lage von -120?




2. _____

3) Welcher Buchstabe zeigt die korrekte Lage von -44?




3. _____

4) Welcher Buchstabe zeigt die korrekte Lage von -18?




4. _____

5) Welcher Buchstabe zeigt die korrekte Lage von -20?




5. _____

6) Welcher Buchstabe zeigt die korrekte Lage von -42?




6. _____

7) Welcher Buchstabe zeigt die korrekte Lage von -28?




7. _____

8) Welcher Buchstabe zeigt die korrekte Lage von -78?




8. _____

9) Welcher Buchstabe zeigt die korrekte Lage von -115?



9. _____

10) Welcher Buchstabe zeigt die korrekte Lage von -14?

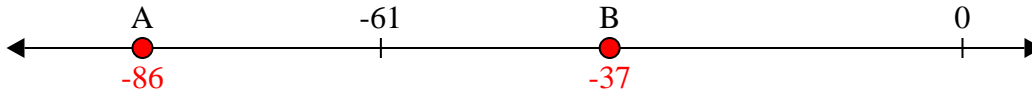


10. _____

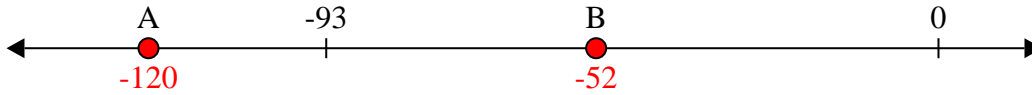


Löse jede Aufgabe.

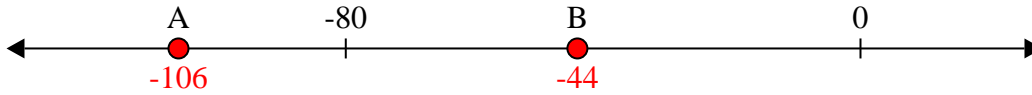
1) Welcher Buchstabe zeigt die korrekte Lage von -37?



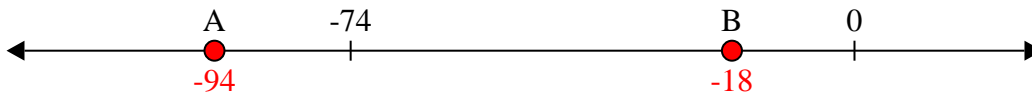
2) Welcher Buchstabe zeigt die korrekte Lage von -120?



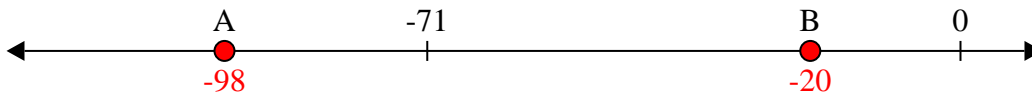
3) Welcher Buchstabe zeigt die korrekte Lage von -44?



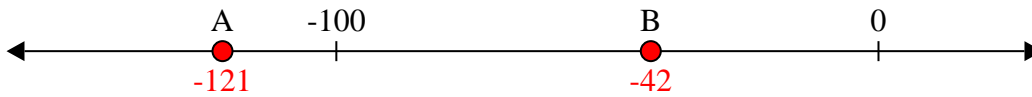
4) Welcher Buchstabe zeigt die korrekte Lage von -18?



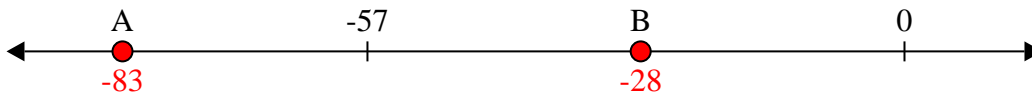
5) Welcher Buchstabe zeigt die korrekte Lage von -20?




6) Welcher Buchstabe zeigt die korrekte Lage von -42?




7) Welcher Buchstabe zeigt die korrekte Lage von -28?




8) Welcher Buchstabe zeigt die korrekte Lage von -78?



9) Welcher Buchstabe zeigt die korrekte Lage von -115?




10) Welcher Buchstabe zeigt die korrekte Lage von -14?

Antworten1. **B**2. **A**3. **B**4. **B**5. **B**6. **B**7. **B**8. **A**9. **A**10. **B**




Löse jede Aufgabe.


1) Welcher Buchstabe zeigt die korrekte Lage von -45?




2) Welcher Buchstabe zeigt die korrekte Lage von -97?




3) Welcher Buchstabe zeigt die korrekte Lage von -64?




4) Welcher Buchstabe zeigt die korrekte Lage von -36?




5) Welcher Buchstabe zeigt die korrekte Lage von -70?




6) Welcher Buchstabe zeigt die korrekte Lage von -85?



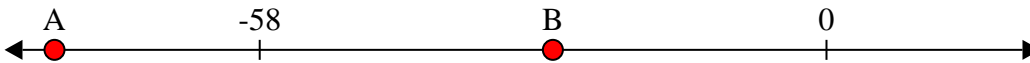
7) Welcher Buchstabe zeigt die korrekte Lage von -35?




8) Welcher Buchstabe zeigt die korrekte Lage von -79?



9) Welcher Buchstabe zeigt die korrekte Lage von -28?



10) Welcher Buchstabe zeigt die korrekte Lage von -107?



Antworten

1. _____

2. _____

3. _____

4. _____

5. _____

6. _____

7. _____

8. _____

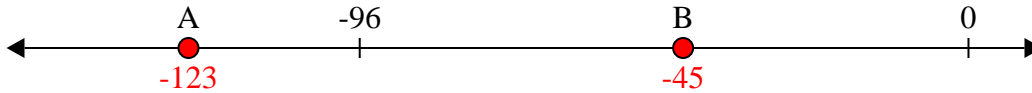
9. _____

10. _____

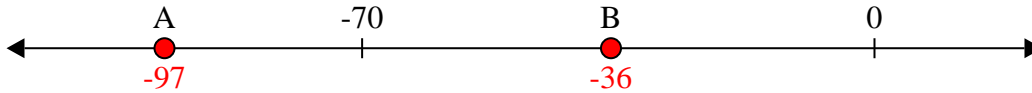


Löse jede Aufgabe.

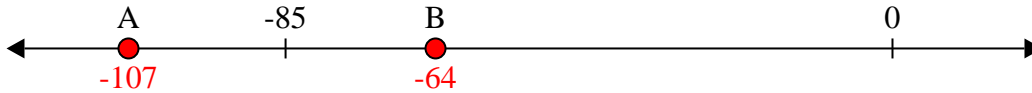
1) Welcher Buchstabe zeigt die korrekte Lage von -45?

1. **B**

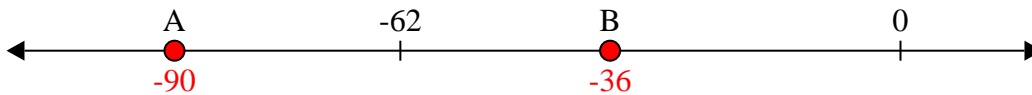
2) Welcher Buchstabe zeigt die korrekte Lage von -97?

2. **A**

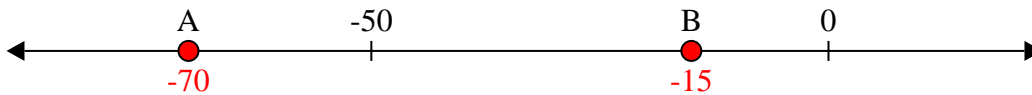
3) Welcher Buchstabe zeigt die korrekte Lage von -64?

3. **B**

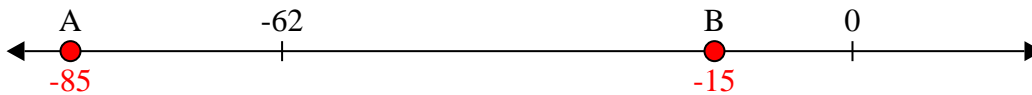
4) Welcher Buchstabe zeigt die korrekte Lage von -36?

4. **B**


5) Welcher Buchstabe zeigt die korrekte Lage von -70?

5. **A**


6) Welcher Buchstabe zeigt die korrekte Lage von -85?

6. **A**

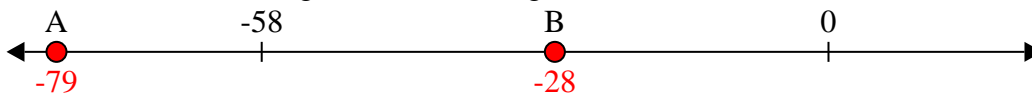
7) Welcher Buchstabe zeigt die korrekte Lage von -35?

7. **B**


8) Welcher Buchstabe zeigt die korrekte Lage von -79?

8. **A**

9) Welcher Buchstabe zeigt die korrekte Lage von -28?

9. **B**


10) Welcher Buchstabe zeigt die korrekte Lage von -107?

10. **A** **Antworten**




Löse jede Aufgabe.


1) Welcher Buchstabe zeigt die korrekte Lage von -108?




2) Welcher Buchstabe zeigt die korrekte Lage von -28?




3) Welcher Buchstabe zeigt die korrekte Lage von -55?




4) Welcher Buchstabe zeigt die korrekte Lage von -32?




5) Welcher Buchstabe zeigt die korrekte Lage von -96?




6) Welcher Buchstabe zeigt die korrekte Lage von -19?




7) Welcher Buchstabe zeigt die korrekte Lage von -75?




8) Welcher Buchstabe zeigt die korrekte Lage von -22?



9) Welcher Buchstabe zeigt die korrekte Lage von -23?



10) Welcher Buchstabe zeigt die korrekte Lage von -104?



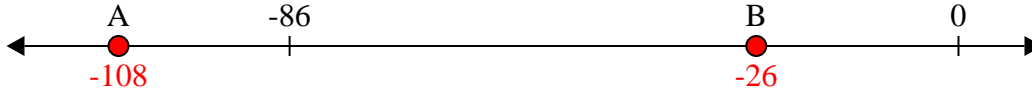
Antworten

1. _____
2. _____
3. _____
4. _____
5. _____
6. _____
7. _____
8. _____
9. _____
10. _____

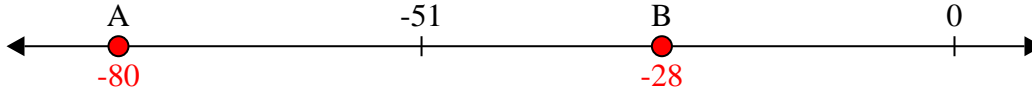


Löse jede Aufgabe.

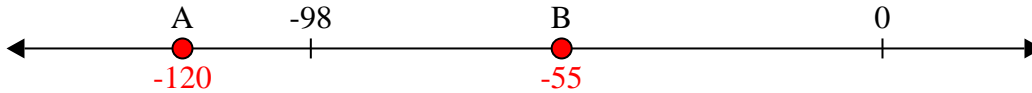
1) Welcher Buchstabe zeigt die korrekte Lage von -108?



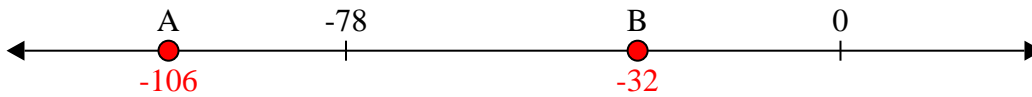
2) Welcher Buchstabe zeigt die korrekte Lage von -28?



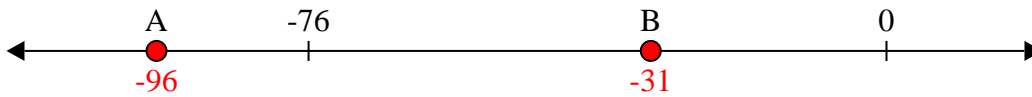
3) Welcher Buchstabe zeigt die korrekte Lage von -55?



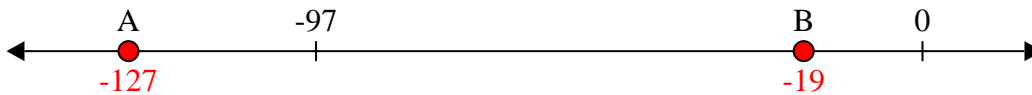
4) Welcher Buchstabe zeigt die korrekte Lage von -32?




5) Welcher Buchstabe zeigt die korrekte Lage von -96?




6) Welcher Buchstabe zeigt die korrekte Lage von -19?




7) Welcher Buchstabe zeigt die korrekte Lage von -75?




8) Welcher Buchstabe zeigt die korrekte Lage von -22?



9) Welcher Buchstabe zeigt die korrekte Lage von -23?



10) Welcher Buchstabe zeigt die korrekte Lage von -104?


Antworten1. A2. B3. B4. B5. A6. B7. A8. B9. B10. A



Löse jede Aufgabe.


Antworten

1) Welcher Buchstabe zeigt die korrekte Lage von -95?




1. _____

2) Welcher Buchstabe zeigt die korrekte Lage von -101?




2. _____

3) Welcher Buchstabe zeigt die korrekte Lage von -45?




3. _____

4) Welcher Buchstabe zeigt die korrekte Lage von -75?




4. _____

5) Welcher Buchstabe zeigt die korrekte Lage von -53?




5. _____

6) Welcher Buchstabe zeigt die korrekte Lage von -80?




6. _____

7) Welcher Buchstabe zeigt die korrekte Lage von -101?




7. _____

8) Welcher Buchstabe zeigt die korrekte Lage von -101?




8. _____

9) Welcher Buchstabe zeigt die korrekte Lage von -32?



9. _____

10) Welcher Buchstabe zeigt die korrekte Lage von -37?

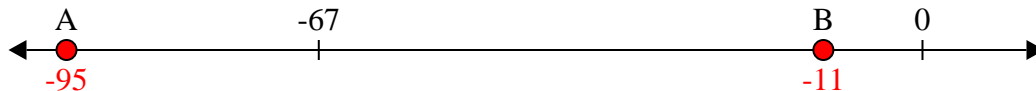


10. _____




Löse jede Aufgabe.


1) Welcher Buchstabe zeigt die korrekte Lage von -95?




2) Welcher Buchstabe zeigt die korrekte Lage von -101?



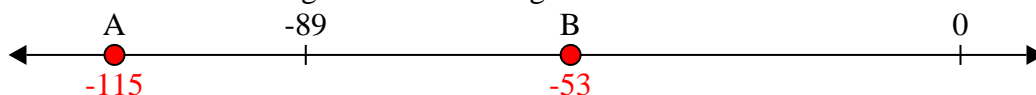
3) Welcher Buchstabe zeigt die korrekte Lage von -45?




4) Welcher Buchstabe zeigt die korrekte Lage von -75?




5) Welcher Buchstabe zeigt die korrekte Lage von -53?



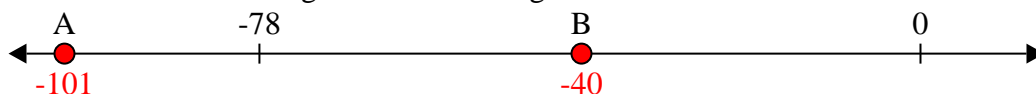
6) Welcher Buchstabe zeigt die korrekte Lage von -80?




7) Welcher Buchstabe zeigt die korrekte Lage von -101?




8) Welcher Buchstabe zeigt die korrekte Lage von -101?



9) Welcher Buchstabe zeigt die korrekte Lage von -32?



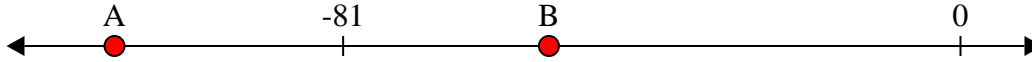
10) Welcher Buchstabe zeigt die korrekte Lage von -37?

Antworten1. A2. A3. B4. A5. B6. A7. A8. A9. B10. B

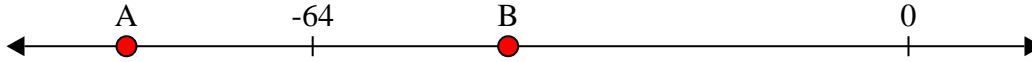


Löse jede Aufgabe.


1) Welcher Buchstabe zeigt die korrekte Lage von -54?



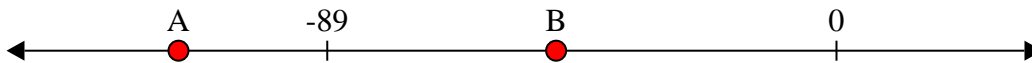
2) Welcher Buchstabe zeigt die korrekte Lage von -84?




3) Welcher Buchstabe zeigt die korrekte Lage von -115?



4) Welcher Buchstabe zeigt die korrekte Lage von -115?




5) Welcher Buchstabe zeigt die korrekte Lage von -106?




6) Welcher Buchstabe zeigt die korrekte Lage von -56?




7) Welcher Buchstabe zeigt die korrekte Lage von -88?




8) Welcher Buchstabe zeigt die korrekte Lage von -20?



9) Welcher Buchstabe zeigt die korrekte Lage von -81?



10) Welcher Buchstabe zeigt die korrekte Lage von -91?

Antworten

1. _____

2. _____

3. _____

4. _____

5. _____

6. _____

7. _____

8. _____

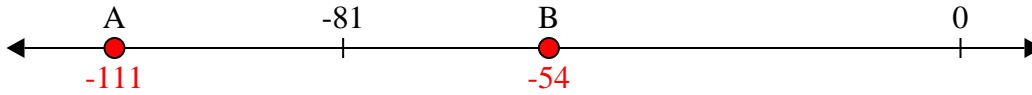
9. _____

10. _____

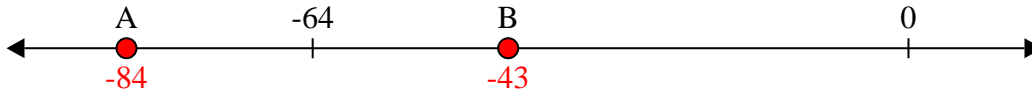


Löse jede Aufgabe.

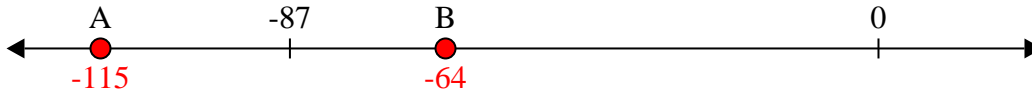
1) Welcher Buchstabe zeigt die korrekte Lage von -54?



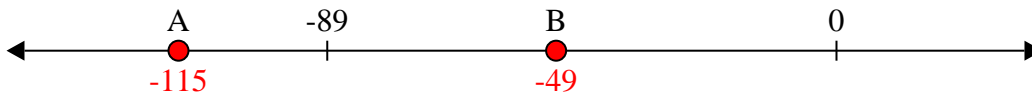
2) Welcher Buchstabe zeigt die korrekte Lage von -84?



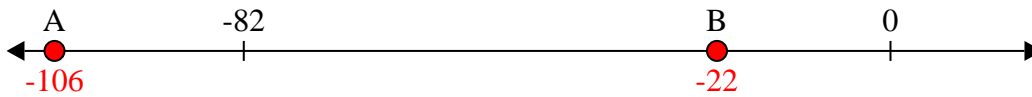
3) Welcher Buchstabe zeigt die korrekte Lage von -115?



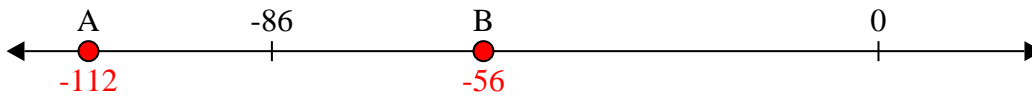
4) Welcher Buchstabe zeigt die korrekte Lage von -115?



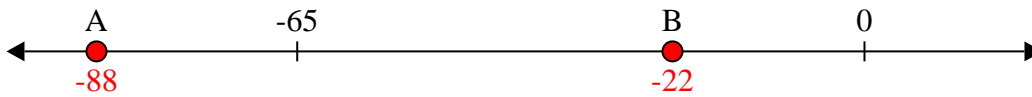
5) Welcher Buchstabe zeigt die korrekte Lage von -106?




6) Welcher Buchstabe zeigt die korrekte Lage von -56?




7) Welcher Buchstabe zeigt die korrekte Lage von -88?




8) Welcher Buchstabe zeigt die korrekte Lage von -20?



9) Welcher Buchstabe zeigt die korrekte Lage von -81?




10) Welcher Buchstabe zeigt die korrekte Lage von -91?

Antworten1. **B**2. **A**3. **A**4. **A**5. **A**6. **B**7. **A**8. **B**9. **A**10. **A**




Löse jede Aufgabe.

1) Welcher Buchstabe zeigt die korrekte Lage von -22?



2) Welcher Buchstabe zeigt die korrekte Lage von -77?




3) Welcher Buchstabe zeigt die korrekte Lage von -95?




4) Welcher Buchstabe zeigt die korrekte Lage von -79?




5) Welcher Buchstabe zeigt die korrekte Lage von -107?




6) Welcher Buchstabe zeigt die korrekte Lage von -96?




7) Welcher Buchstabe zeigt die korrekte Lage von -34?




8) Welcher Buchstabe zeigt die korrekte Lage von -122?



9) Welcher Buchstabe zeigt die korrekte Lage von -72?



10) Welcher Buchstabe zeigt die korrekte Lage von -25?



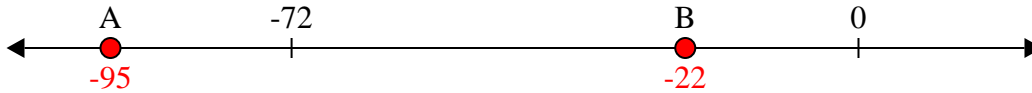
Antworten

1. _____
2. _____
3. _____
4. _____
5. _____
6. _____
7. _____
8. _____
9. _____
10. _____

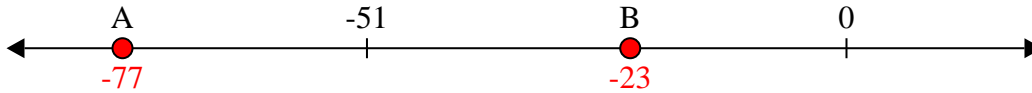


Löse jede Aufgabe.

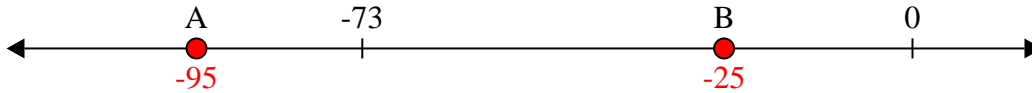
1) Welcher Buchstabe zeigt die korrekte Lage von -22?



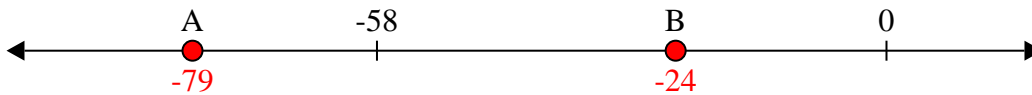
2) Welcher Buchstabe zeigt die korrekte Lage von -77?



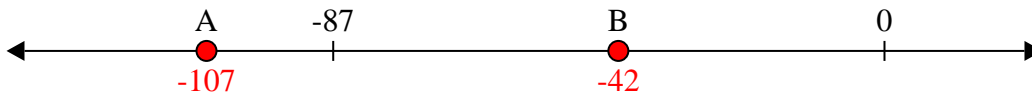
3) Welcher Buchstabe zeigt die korrekte Lage von -95?



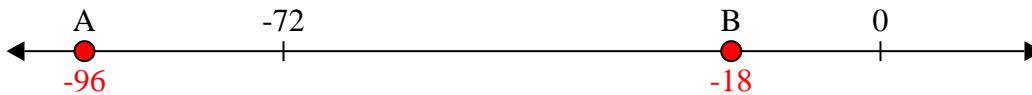
4) Welcher Buchstabe zeigt die korrekte Lage von -79?




5) Welcher Buchstabe zeigt die korrekte Lage von -107?




6) Welcher Buchstabe zeigt die korrekte Lage von -96?




7) Welcher Buchstabe zeigt die korrekte Lage von -34?




8) Welcher Buchstabe zeigt die korrekte Lage von -122?



9) Welcher Buchstabe zeigt die korrekte Lage von -72?



10) Welcher Buchstabe zeigt die korrekte Lage von -25?

Antworten1. B2. A3. A4. A5. A6. A7. B8. A9. B10. B