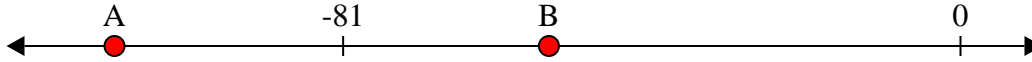




Löse jede Aufgabe.

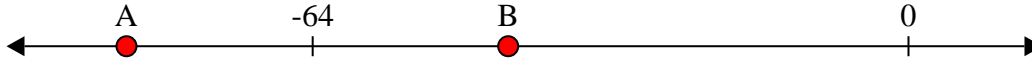
Antworten

1) Welcher Buchstabe zeigt die korrekte Lage von -54?




1. \_\_\_\_\_

2) Welcher Buchstabe zeigt die korrekte Lage von -84?



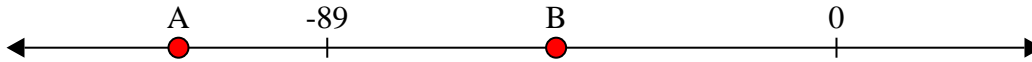
2. \_\_\_\_\_

3) Welcher Buchstabe zeigt die korrekte Lage von -115?




3. \_\_\_\_\_

4) Welcher Buchstabe zeigt die korrekte Lage von -115?



4. \_\_\_\_\_

5) Welcher Buchstabe zeigt die korrekte Lage von -106?




5. \_\_\_\_\_

6) Welcher Buchstabe zeigt die korrekte Lage von -56?




6. \_\_\_\_\_

7) Welcher Buchstabe zeigt die korrekte Lage von -88?




7. \_\_\_\_\_

8) Welcher Buchstabe zeigt die korrekte Lage von -20?




8. \_\_\_\_\_

9) Welcher Buchstabe zeigt die korrekte Lage von -81?



9. \_\_\_\_\_

10) Welcher Buchstabe zeigt die korrekte Lage von -91?

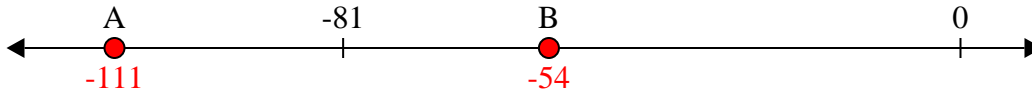


10. \_\_\_\_\_

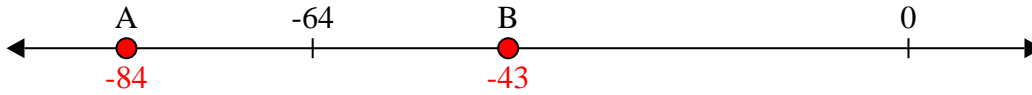


Löse jede Aufgabe.

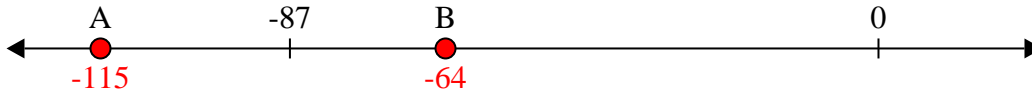
1) Welcher Buchstabe zeigt die korrekte Lage von -54?



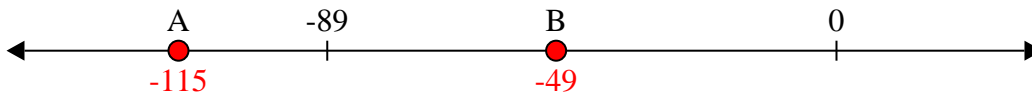
2) Welcher Buchstabe zeigt die korrekte Lage von -84?



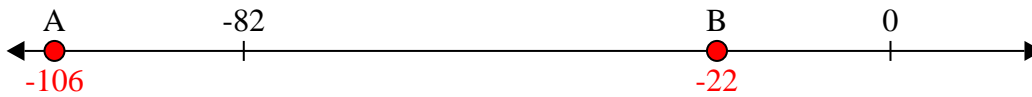
3) Welcher Buchstabe zeigt die korrekte Lage von -115?



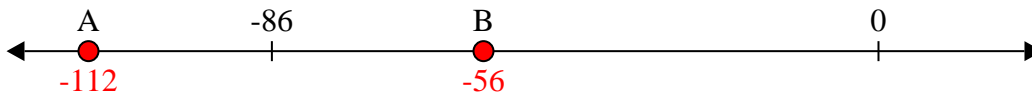
4) Welcher Buchstabe zeigt die korrekte Lage von -115?



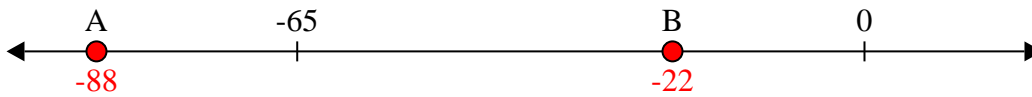
5) Welcher Buchstabe zeigt die korrekte Lage von -106?




6) Welcher Buchstabe zeigt die korrekte Lage von -56?




7) Welcher Buchstabe zeigt die korrekte Lage von -88?




8) Welcher Buchstabe zeigt die korrekte Lage von -20?



9) Welcher Buchstabe zeigt die korrekte Lage von -81?



10) Welcher Buchstabe zeigt die korrekte Lage von -91?

Antworten1. **B**2. **A**3. **A**4. **A**5. **A**6. **B**7. **A**8. **B**9. **A**10. **A**