




Löse jede Aufgabe.


Antworten

1) Welcher Buchstabe zeigt die korrekte Lage von -95?




1. \_\_\_\_\_

2) Welcher Buchstabe zeigt die korrekte Lage von -101?




2. \_\_\_\_\_

3) Welcher Buchstabe zeigt die korrekte Lage von -45?




3. \_\_\_\_\_

4) Welcher Buchstabe zeigt die korrekte Lage von -75?




4. \_\_\_\_\_

5) Welcher Buchstabe zeigt die korrekte Lage von -53?




5. \_\_\_\_\_

6) Welcher Buchstabe zeigt die korrekte Lage von -80?




6. \_\_\_\_\_

7) Welcher Buchstabe zeigt die korrekte Lage von -101?




7. \_\_\_\_\_

8) Welcher Buchstabe zeigt die korrekte Lage von -101?




8. \_\_\_\_\_

9) Welcher Buchstabe zeigt die korrekte Lage von -32?



9. \_\_\_\_\_

10) Welcher Buchstabe zeigt die korrekte Lage von -37?




10. \_\_\_\_\_




Löse jede Aufgabe.


1) Welcher Buchstabe zeigt die korrekte Lage von -95?




2) Welcher Buchstabe zeigt die korrekte Lage von -101?



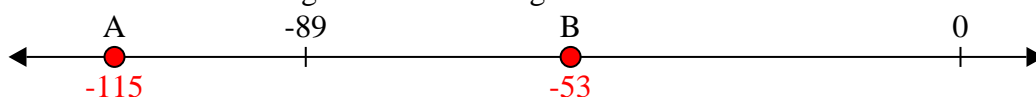
3) Welcher Buchstabe zeigt die korrekte Lage von -45?




4) Welcher Buchstabe zeigt die korrekte Lage von -75?




5) Welcher Buchstabe zeigt die korrekte Lage von -53?



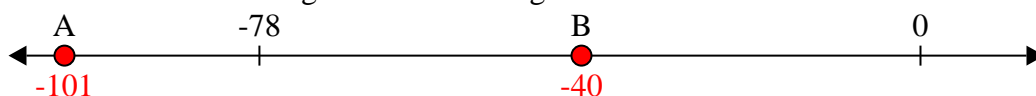
6) Welcher Buchstabe zeigt die korrekte Lage von -80?




7) Welcher Buchstabe zeigt die korrekte Lage von -101?




8) Welcher Buchstabe zeigt die korrekte Lage von -101?



9) Welcher Buchstabe zeigt die korrekte Lage von -32?



10) Welcher Buchstabe zeigt die korrekte Lage von -37?

Antworten1. A2. A3. B4. A5. B6. A7. A8. A9. B10. B