




Löse jede Aufgabe.


Antworten

1) Welcher Buchstabe zeigt die korrekte Lage von -108?




1. _____

2) Welcher Buchstabe zeigt die korrekte Lage von -28?




2. _____

3) Welcher Buchstabe zeigt die korrekte Lage von -55?




3. _____

4) Welcher Buchstabe zeigt die korrekte Lage von -32?




4. _____

5) Welcher Buchstabe zeigt die korrekte Lage von -96?




5. _____

6) Welcher Buchstabe zeigt die korrekte Lage von -19?




6. _____

7) Welcher Buchstabe zeigt die korrekte Lage von -75?




7. _____

8) Welcher Buchstabe zeigt die korrekte Lage von -22?




8. _____

9) Welcher Buchstabe zeigt die korrekte Lage von -23?



9. _____

10) Welcher Buchstabe zeigt die korrekte Lage von -104?

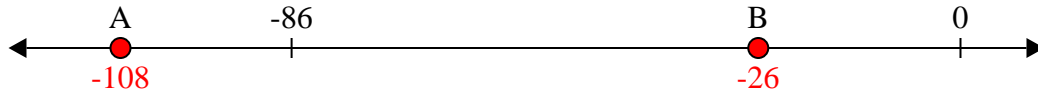


10. _____

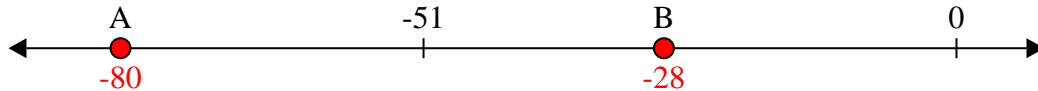


Löse jede Aufgabe.

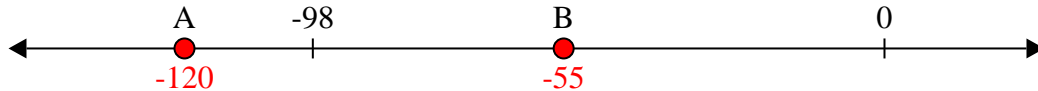
1) Welcher Buchstabe zeigt die korrekte Lage von -108?




2) Welcher Buchstabe zeigt die korrekte Lage von -28?




3) Welcher Buchstabe zeigt die korrekte Lage von -55?




4) Welcher Buchstabe zeigt die korrekte Lage von -32?




5) Welcher Buchstabe zeigt die korrekte Lage von -96?




6) Welcher Buchstabe zeigt die korrekte Lage von -19?



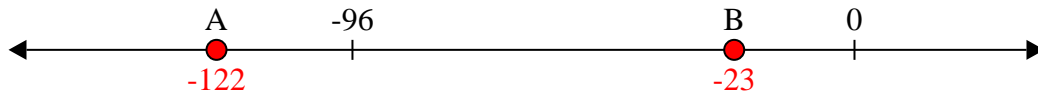
7) Welcher Buchstabe zeigt die korrekte Lage von -75?



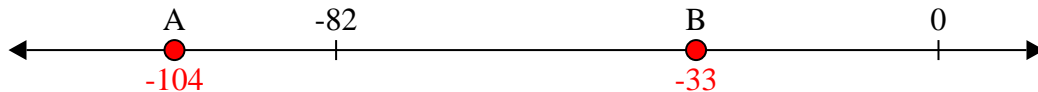
8) Welcher Buchstabe zeigt die korrekte Lage von -22?



9) Welcher Buchstabe zeigt die korrekte Lage von -23?



10) Welcher Buchstabe zeigt die korrekte Lage von -104?

Antworten1. A2. B3. B4. B5. A6. B7. A8. B9. B10. A