





Löse jede Aufgabe.


1) Welcher Buchstabe zeigt die korrekte Lage von -45?




2) Welcher Buchstabe zeigt die korrekte Lage von -97?




3) Welcher Buchstabe zeigt die korrekte Lage von -64?




4) Welcher Buchstabe zeigt die korrekte Lage von -36?




5) Welcher Buchstabe zeigt die korrekte Lage von -70?




6) Welcher Buchstabe zeigt die korrekte Lage von -85?



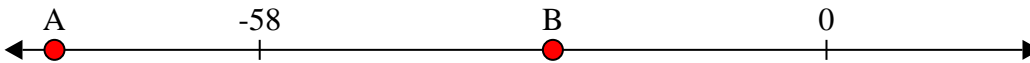
7) Welcher Buchstabe zeigt die korrekte Lage von -35?




8) Welcher Buchstabe zeigt die korrekte Lage von -79?



9) Welcher Buchstabe zeigt die korrekte Lage von -28?



10) Welcher Buchstabe zeigt die korrekte Lage von -107?



Antworten

1. _____

2. _____

3. _____

4. _____

5. _____

6. _____

7. _____

8. _____

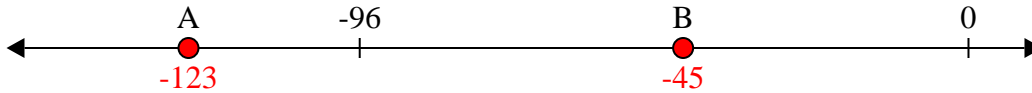
9. _____

10. _____

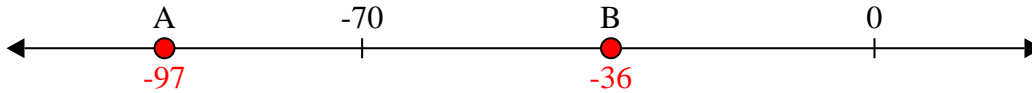


Löse jede Aufgabe.

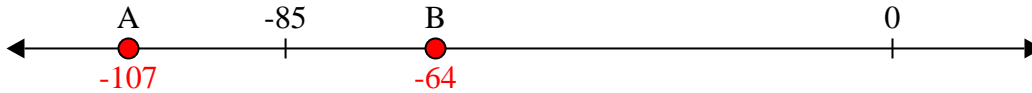
1) Welcher Buchstabe zeigt die korrekte Lage von -45?



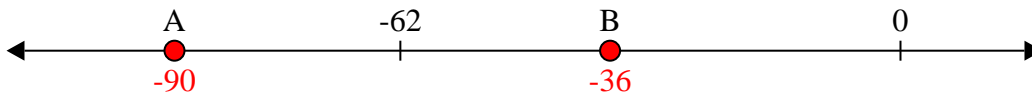
2) Welcher Buchstabe zeigt die korrekte Lage von -97?



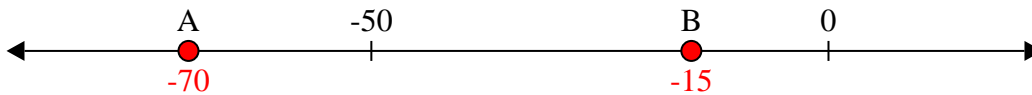
3) Welcher Buchstabe zeigt die korrekte Lage von -64?



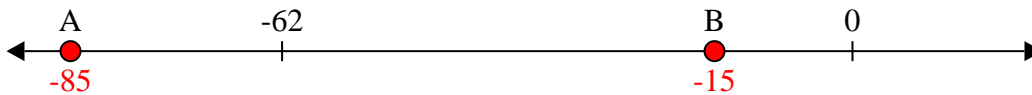
4) Welcher Buchstabe zeigt die korrekte Lage von -36?




5) Welcher Buchstabe zeigt die korrekte Lage von -70?




6) Welcher Buchstabe zeigt die korrekte Lage von -85?



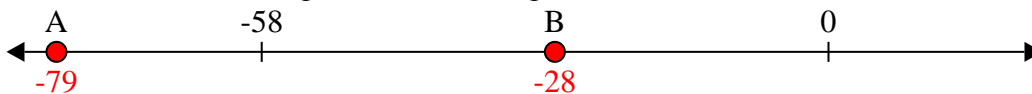
7) Welcher Buchstabe zeigt die korrekte Lage von -35?




8) Welcher Buchstabe zeigt die korrekte Lage von -79?



9) Welcher Buchstabe zeigt die korrekte Lage von -28?



10) Welcher Buchstabe zeigt die korrekte Lage von -107?

Antworten1. **B**2. **A**3. **B**4. **B**5. **A**6. **A**7. **B**8. **A**9. **B**10. **A**