




Löse jede Aufgabe.


1) Welcher Buchstabe zeigt die korrekte Lage von -37?




2) Welcher Buchstabe zeigt die korrekte Lage von -120?




3) Welcher Buchstabe zeigt die korrekte Lage von -44?




4) Welcher Buchstabe zeigt die korrekte Lage von -18?




5) Welcher Buchstabe zeigt die korrekte Lage von -20?




6) Welcher Buchstabe zeigt die korrekte Lage von -42?




7) Welcher Buchstabe zeigt die korrekte Lage von -28?




8) Welcher Buchstabe zeigt die korrekte Lage von -78?



9) Welcher Buchstabe zeigt die korrekte Lage von -115?



10) Welcher Buchstabe zeigt die korrekte Lage von -14?

Antworten

1. _____

2. _____

3. _____

4. _____

5. _____

6. _____

7. _____

8. _____


9. _____

10. _____




Löse jede Aufgabe.

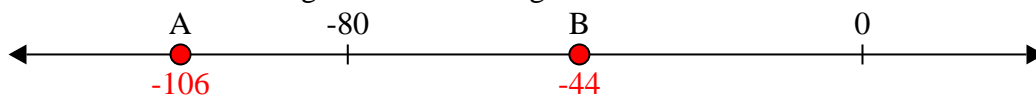
1) Welcher Buchstabe zeigt die korrekte Lage von -37?




2) Welcher Buchstabe zeigt die korrekte Lage von -120?



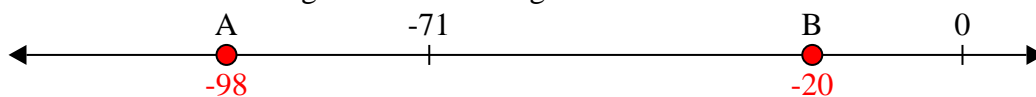
3) Welcher Buchstabe zeigt die korrekte Lage von -44?



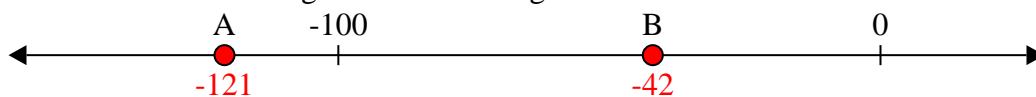
4) Welcher Buchstabe zeigt die korrekte Lage von -18?




5) Welcher Buchstabe zeigt die korrekte Lage von -20?




6) Welcher Buchstabe zeigt die korrekte Lage von -42?




7) Welcher Buchstabe zeigt die korrekte Lage von -28?



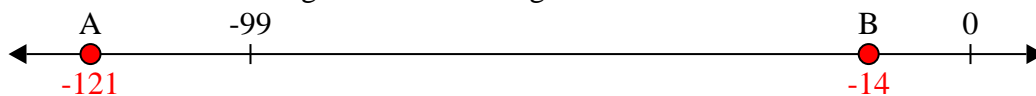
8) Welcher Buchstabe zeigt die korrekte Lage von -78?



9) Welcher Buchstabe zeigt die korrekte Lage von -115?



10) Welcher Buchstabe zeigt die korrekte Lage von -14?

Antworten1. **B**2. **A**3. **B**4. **B**5. **B**6. **B**7. **B**8. **A**9. **A**10. **B**