





**Löse jede Aufgabe.**


1) Welcher Buchstabe zeigt die korrekte Lage von -87?




2) Welcher Buchstabe zeigt die korrekte Lage von -22?




3) Welcher Buchstabe zeigt die korrekte Lage von -114?



4) Welcher Buchstabe zeigt die korrekte Lage von -12?




5) Welcher Buchstabe zeigt die korrekte Lage von -94?




6) Welcher Buchstabe zeigt die korrekte Lage von -53?




7) Welcher Buchstabe zeigt die korrekte Lage von -113?




8) Welcher Buchstabe zeigt die korrekte Lage von -44?



9) Welcher Buchstabe zeigt die korrekte Lage von -119?



10) Welcher Buchstabe zeigt die korrekte Lage von -82?



**Antworten**

1. \_\_\_\_\_

2. \_\_\_\_\_

3. \_\_\_\_\_

4. \_\_\_\_\_

5. \_\_\_\_\_

6. \_\_\_\_\_

7. \_\_\_\_\_

8. \_\_\_\_\_


9. \_\_\_\_\_

10. \_\_\_\_\_




Löse jede Aufgabe.

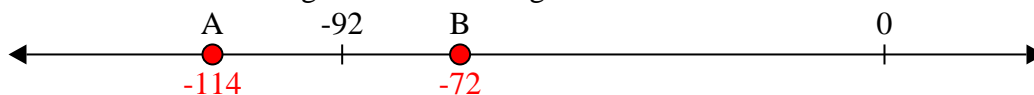
1) Welcher Buchstabe zeigt die korrekte Lage von -87?




2) Welcher Buchstabe zeigt die korrekte Lage von -22?



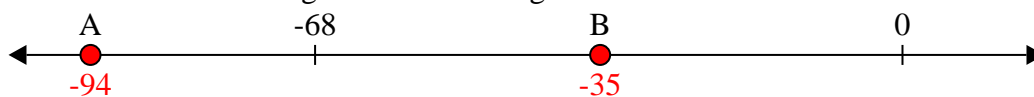
3) Welcher Buchstabe zeigt die korrekte Lage von -114?



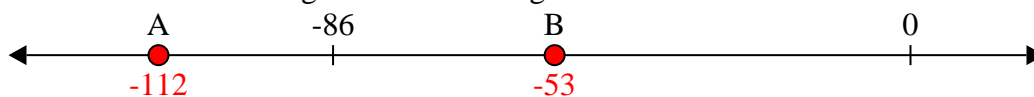
4) Welcher Buchstabe zeigt die korrekte Lage von -12?




5) Welcher Buchstabe zeigt die korrekte Lage von -94?



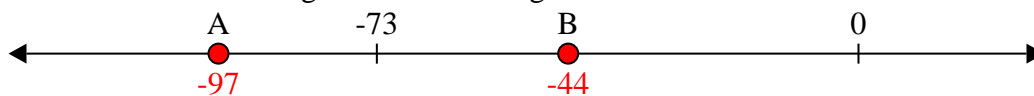
6) Welcher Buchstabe zeigt die korrekte Lage von -53?




7) Welcher Buchstabe zeigt die korrekte Lage von -113?



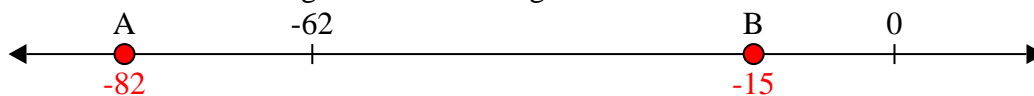
8) Welcher Buchstabe zeigt die korrekte Lage von -44?



9) Welcher Buchstabe zeigt die korrekte Lage von -119?



10) Welcher Buchstabe zeigt die korrekte Lage von -82?

Antworten1. A2. B3. A4. B5. A6. B7. A8. B9. A10. A