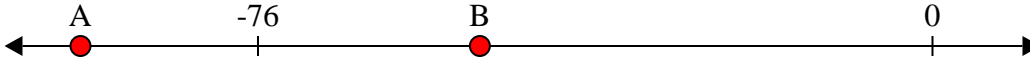





Löse jede Aufgabe.


1) Welcher Buchstabe zeigt die korrekte Lage von -51?




2) Welcher Buchstabe zeigt die korrekte Lage von -19?




3) Welcher Buchstabe zeigt die korrekte Lage von -32?




4) Welcher Buchstabe zeigt die korrekte Lage von -43?



5) Welcher Buchstabe zeigt die korrekte Lage von -30?




6) Welcher Buchstabe zeigt die korrekte Lage von -100?




7) Welcher Buchstabe zeigt die korrekte Lage von -47?



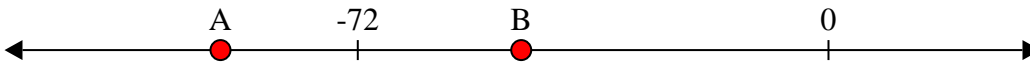
8) Welcher Buchstabe zeigt die korrekte Lage von -107?



9) Welcher Buchstabe zeigt die korrekte Lage von -121?



10) Welcher Buchstabe zeigt die korrekte Lage von -93?



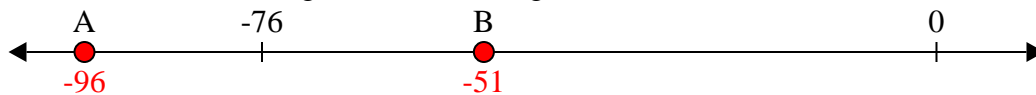
Antworten

1. _____
2. _____
3. _____
4. _____
5. _____
6. _____
7. _____
8. _____
9. _____
10. _____




Löse jede Aufgabe.


1) Welcher Buchstabe zeigt die korrekte Lage von -51?




2) Welcher Buchstabe zeigt die korrekte Lage von -19?



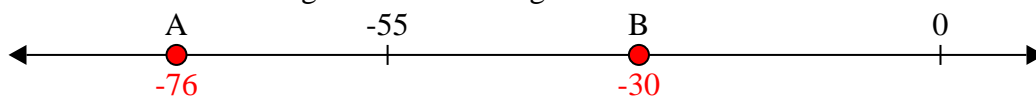
3) Welcher Buchstabe zeigt die korrekte Lage von -32?



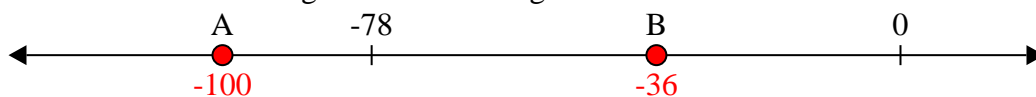
4) Welcher Buchstabe zeigt die korrekte Lage von -43?



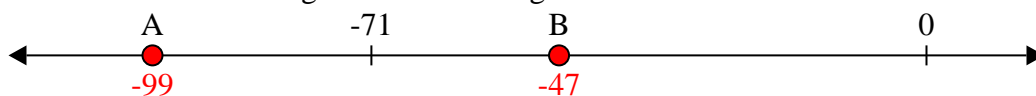
5) Welcher Buchstabe zeigt die korrekte Lage von -30?




6) Welcher Buchstabe zeigt die korrekte Lage von -100?




7) Welcher Buchstabe zeigt die korrekte Lage von -47?



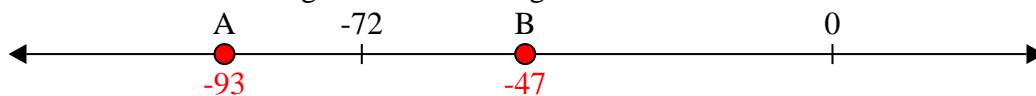
8) Welcher Buchstabe zeigt die korrekte Lage von -107?



9) Welcher Buchstabe zeigt die korrekte Lage von -121?



10) Welcher Buchstabe zeigt die korrekte Lage von -93?

Antworten1. **B**2. **B**3. **B**4. **B**5. **B**6. **A**7. **B**8. **A**9. **A**10. **A**