





Löse jede Aufgabe.


1) Welcher Buchstabe zeigt die korrekte Lage von -23?




2) Welcher Buchstabe zeigt die korrekte Lage von -129?




3) Welcher Buchstabe zeigt die korrekte Lage von -93?




4) Welcher Buchstabe zeigt die korrekte Lage von -30?




5) Welcher Buchstabe zeigt die korrekte Lage von -86?



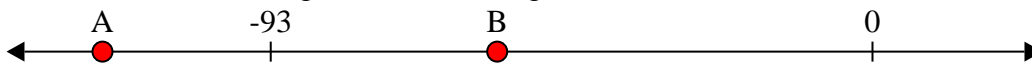
6) Welcher Buchstabe zeigt die korrekte Lage von -101?



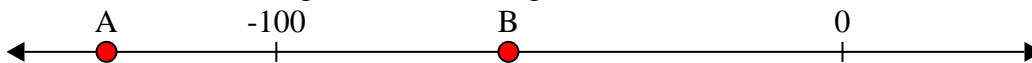
7) Welcher Buchstabe zeigt die korrekte Lage von -21?




8) Welcher Buchstabe zeigt die korrekte Lage von -119?



9) Welcher Buchstabe zeigt die korrekte Lage von -59?



10) Welcher Buchstabe zeigt die korrekte Lage von -23?




Antworten

1. _____
2. _____
3. _____
4. _____
5. _____
6. _____
7. _____
8. _____
9. _____
10. _____




Löse jede Aufgabe.


1) Welcher Buchstabe zeigt die korrekte Lage von -23?




2) Welcher Buchstabe zeigt die korrekte Lage von -129?



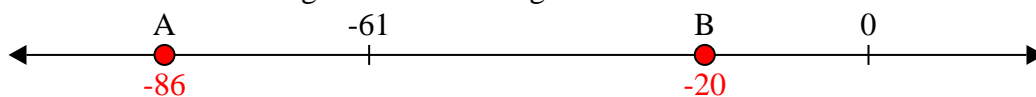
3) Welcher Buchstabe zeigt die korrekte Lage von -93?



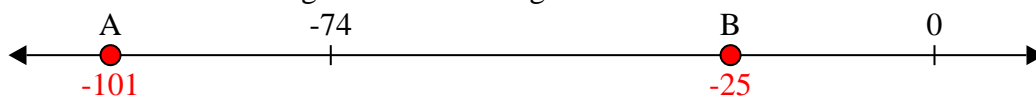
4) Welcher Buchstabe zeigt die korrekte Lage von -30?




5) Welcher Buchstabe zeigt die korrekte Lage von -86?



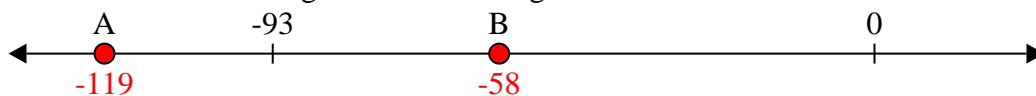
6) Welcher Buchstabe zeigt die korrekte Lage von -101?



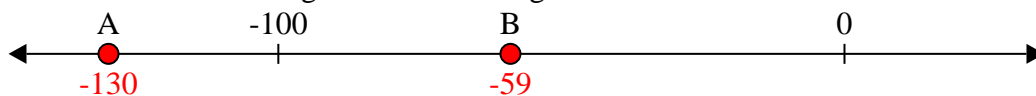
7) Welcher Buchstabe zeigt die korrekte Lage von -21?



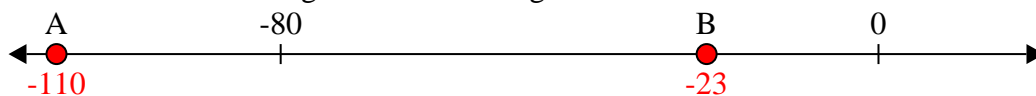
8) Welcher Buchstabe zeigt die korrekte Lage von -119?



9) Welcher Buchstabe zeigt die korrekte Lage von -59?



10) Welcher Buchstabe zeigt die korrekte Lage von -23?

Antworten1. **B**2. **A**3. **A**4. **B**5. **A**6. **A**7. **B**8. **A**9. **B**10. **B**