





Löse jede Aufgabe.

1) Welcher Buchstabe zeigt die korrekte Lage von -22?



2) Welcher Buchstabe zeigt die korrekte Lage von -77?




3) Welcher Buchstabe zeigt die korrekte Lage von -95?




4) Welcher Buchstabe zeigt die korrekte Lage von -79?




5) Welcher Buchstabe zeigt die korrekte Lage von -107?




6) Welcher Buchstabe zeigt die korrekte Lage von -96?




7) Welcher Buchstabe zeigt die korrekte Lage von -34?




8) Welcher Buchstabe zeigt die korrekte Lage von -122?



9) Welcher Buchstabe zeigt die korrekte Lage von -72?



10) Welcher Buchstabe zeigt die korrekte Lage von -25?



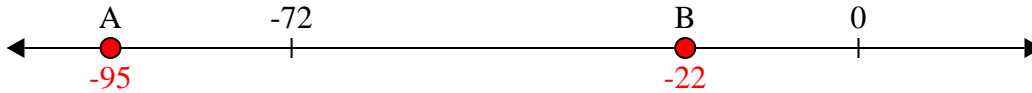
Antworten

1. _____
2. _____
3. _____
4. _____
5. _____
6. _____
7. _____
8. _____
9. _____
10. _____

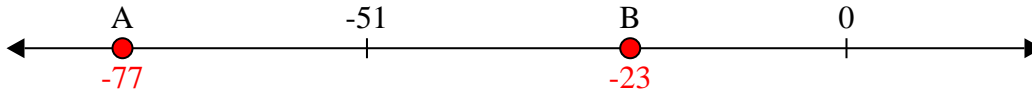


Löse jede Aufgabe.

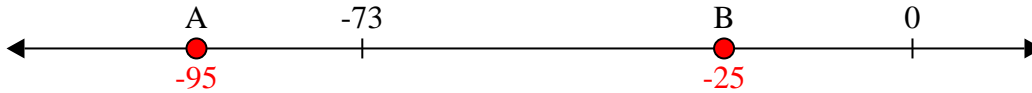
1) Welcher Buchstabe zeigt die korrekte Lage von -22?



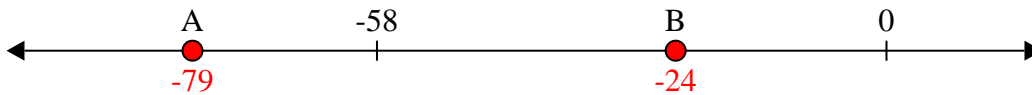
2) Welcher Buchstabe zeigt die korrekte Lage von -77?



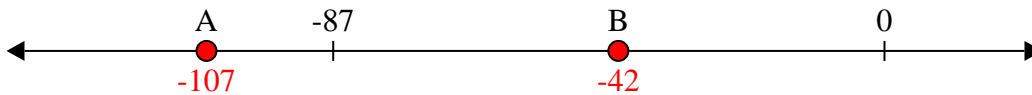
3) Welcher Buchstabe zeigt die korrekte Lage von -95?



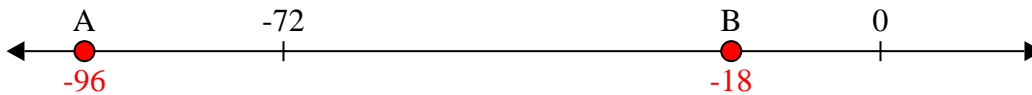
4) Welcher Buchstabe zeigt die korrekte Lage von -79?




5) Welcher Buchstabe zeigt die korrekte Lage von -107?




6) Welcher Buchstabe zeigt die korrekte Lage von -96?




7) Welcher Buchstabe zeigt die korrekte Lage von -34?




8) Welcher Buchstabe zeigt die korrekte Lage von -122?



9) Welcher Buchstabe zeigt die korrekte Lage von -72?



10) Welcher Buchstabe zeigt die korrekte Lage von -25?

Antworten1. B2. A3. A4. A5. A6. A7. B8. A9. B10. B