




Löse jede Aufgabe.


Antworten

1) Welcher Buchstabe zeigt die korrekte Lage von -40?



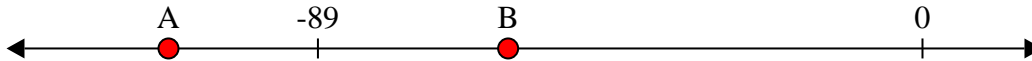
1. _____

2) Welcher Buchstabe zeigt die korrekte Lage von -29?




2. _____

3) Welcher Buchstabe zeigt die korrekte Lage von -111?




3. _____

4) Welcher Buchstabe zeigt die korrekte Lage von -81?




4. _____

5) Welcher Buchstabe zeigt die korrekte Lage von -11?




5. _____

6) Welcher Buchstabe zeigt die korrekte Lage von -77?




6. _____

7) Welcher Buchstabe zeigt die korrekte Lage von -30?




7. _____

8) Welcher Buchstabe zeigt die korrekte Lage von -10?




8. _____

9) Welcher Buchstabe zeigt die korrekte Lage von -33?



9. _____

10) Welcher Buchstabe zeigt die korrekte Lage von -121?

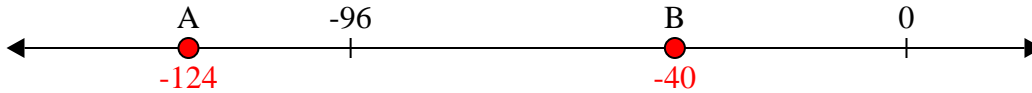


10. _____

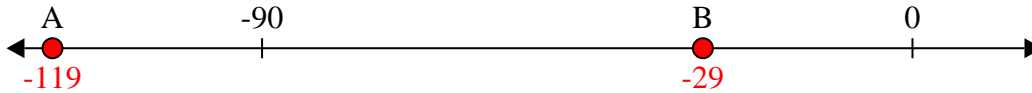


Löse jede Aufgabe.

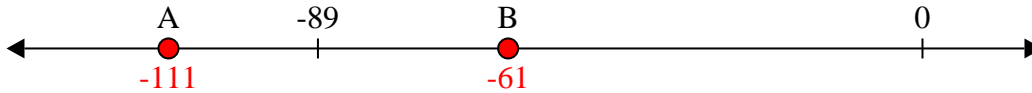
- 1) Welcher Buchstabe zeigt die korrekte Lage von -40?



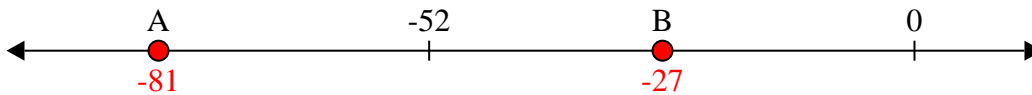
- 2) Welcher Buchstabe zeigt die korrekte Lage von -29?



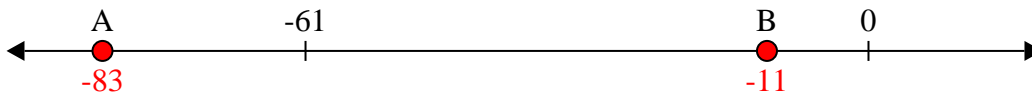
- 3) Welcher Buchstabe zeigt die korrekte Lage von -111?



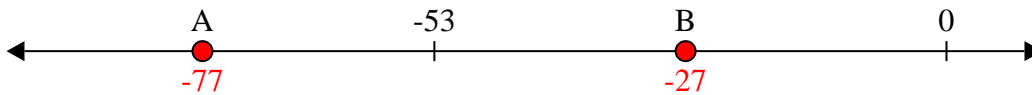
- 4) Welcher Buchstabe zeigt die korrekte Lage von -81?




- 5) Welcher Buchstabe zeigt die korrekte Lage von -11?




- 6) Welcher Buchstabe zeigt die korrekte Lage von -77?




- 7) Welcher Buchstabe zeigt die korrekte Lage von -30?




- 8) Welcher Buchstabe zeigt die korrekte Lage von -10?



- 9) Welcher Buchstabe zeigt die korrekte Lage von -33?



- 10) Welcher Buchstabe zeigt die korrekte Lage von -121?

Antworten1. B2. B3. A4. A5. B6. A7. B8. B9. B10. A