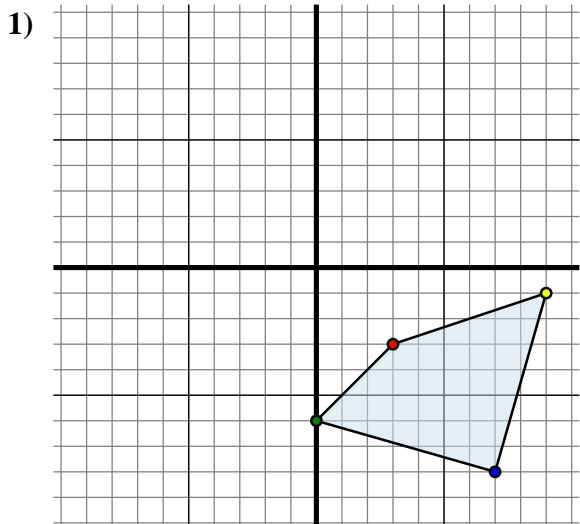




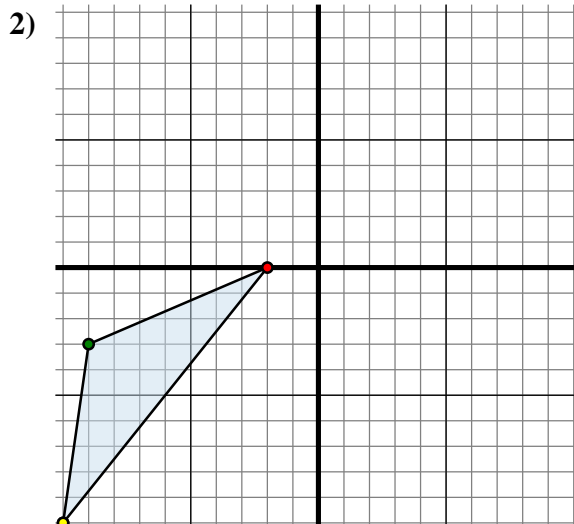
Spiegle jede Figur wie beschrieben.



Die obige Figur hat die folgenden Koordinaten:

- A. (3 , -3)
- B. (0 , -6)
- C. (7 , -8)
- D. (9 , -1)

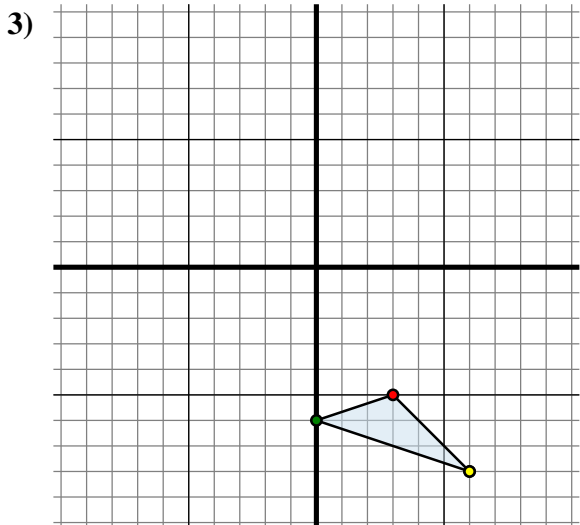
Spiegle die Figur an der Y-Achse.



Die obige Figur hat die folgenden Koordinaten:

- A. (-2 , 0)
- B. (-9 , -3)
- C. (-10 , -10)

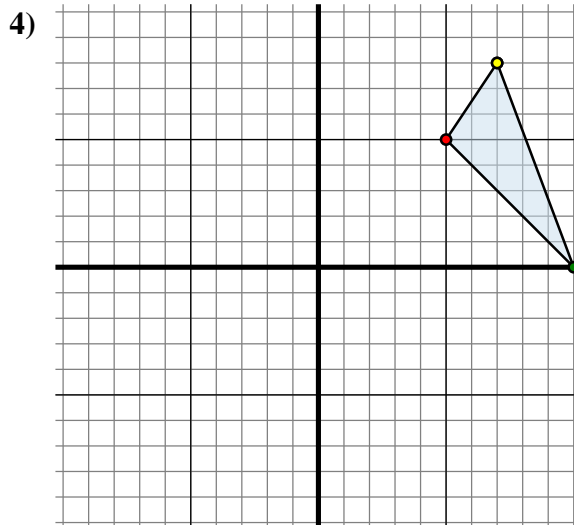
Spiegle die Figur an der X-Achse.



Die obige Figur hat die folgenden Koordinaten:

- A. (3 , -5)
- B. (0 , -6)
- C. (6 , -8)

Spiegle die Figur an der Y-Achse.



Die obige Figur hat die folgenden Koordinaten:

- A. (5 , 5)
- B. (10 , 0)
- C. (7 , 8)

Spiegle die Figur an der Y-Achse.

Antworten

1A. (-3 , -3)

1B. _____

1C. _____

1D. _____

1G. Graph

2A. _____

2B. _____

2C. _____

2G. Graph

3A. _____

3B. _____

3C. _____

3G. Graph

4A. _____

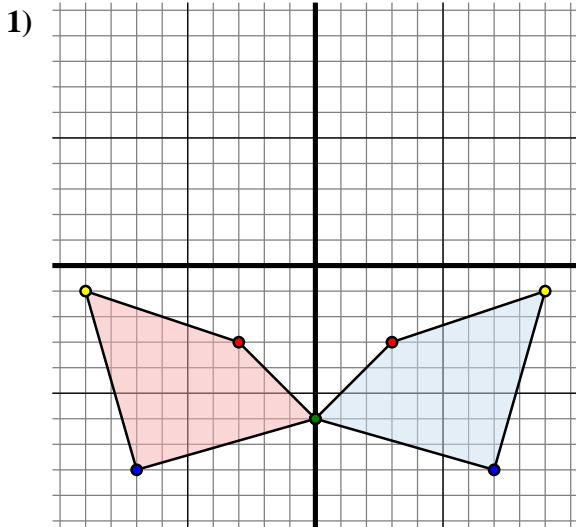
4B. _____

4C. _____

4G. Graph



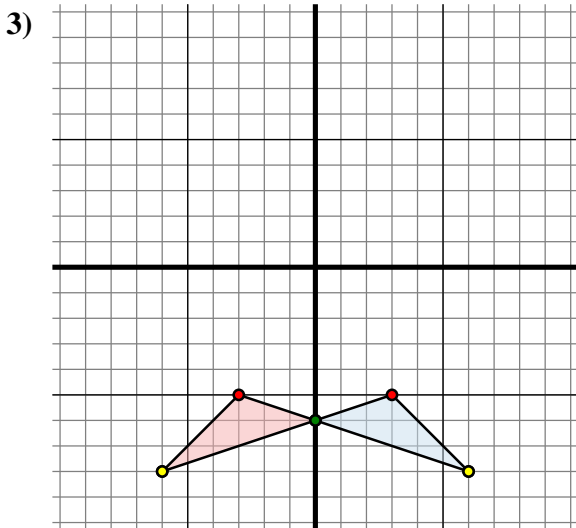
Spiegle jede Figur wie beschrieben.



Die obige Figur hat die folgenden Koordinaten:

- A. (3, -3)
- B. (0, -6)
- C. (7, -8)
- D. (9, -1)

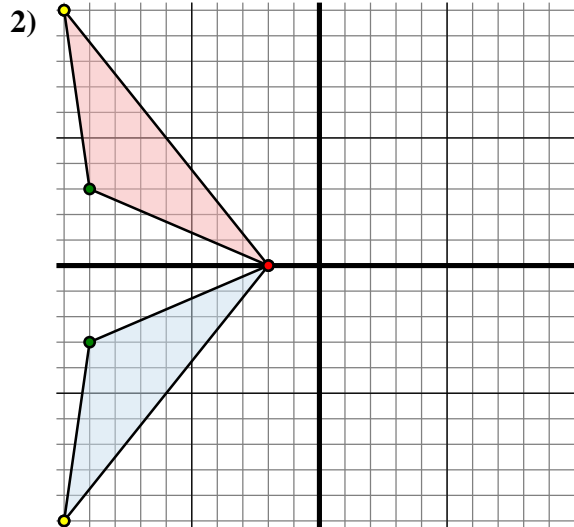
Spiegle die Figur an der Y-Achse.



Die obige Figur hat die folgenden Koordinaten:

- A. (3, -5)
- B. (0, -6)
- C. (6, -8)

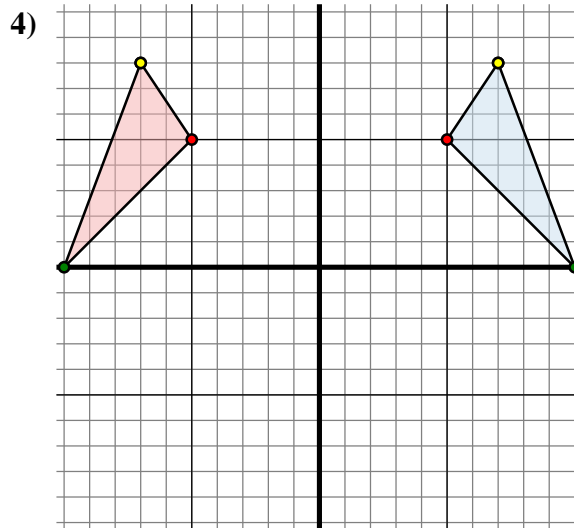
Spiegle die Figur an der Y-Achse.



Die obige Figur hat die folgenden Koordinaten:

- A. (-2, 0)
- B. (-9, -3)
- C. (-10, -10)

Spiegle die Figur an der X-Achse.



Die obige Figur hat die folgenden Koordinaten:

- A. (5, 5)
- B. (10, 0)
- C. (7, 8)

Spiegle die Figur an der Y-Achse.

Antworten

1A. **(-3, -3)**

1B. **(0, -6)**

1C. **(-7, -8)**

1D. **(-9, -1)**

1G. **Graph**

2A. **(-2, 0)**

2B. **(-9, 3)**

2C. **(-10, 10)**

2G. **Graph**

3A. **(-3, -5)**

3B. **(0, -6)**

3C. **(-6, -8)**

3G. **Graph**

4A. **(-5, 5)**

4B. **(-10, 0)**

4C. **(-7, 8)**

4G. **Graph**