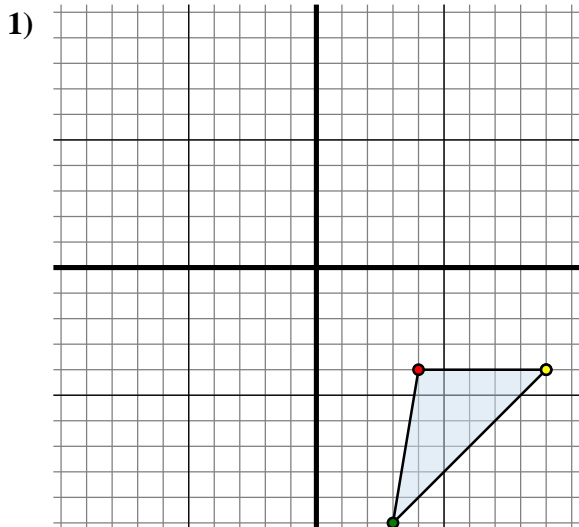




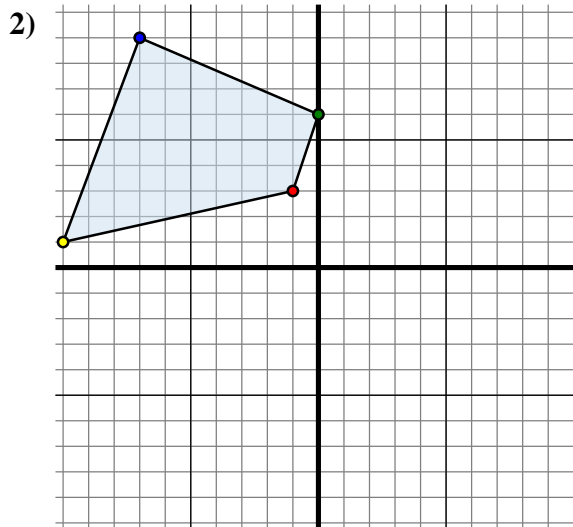
Spiegle jede Figur wie beschrieben.



Die obige Figur hat die folgenden Koordinaten:

- A. (4 , -4)
- B. (3 , -10)
- C. (9 , -4)

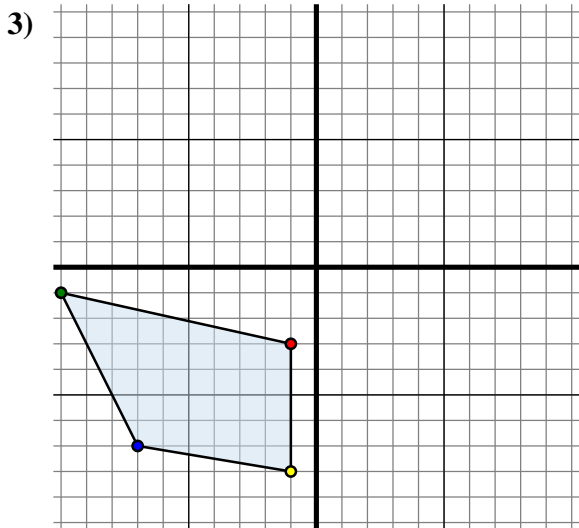
Spiegle die Figur an der X-Achse.



Die obige Figur hat die folgenden Koordinaten:

- A. (-1 , 3)
- B. (0 , 6)
- C. (-7 , 9)
- D. (-10 , 1)

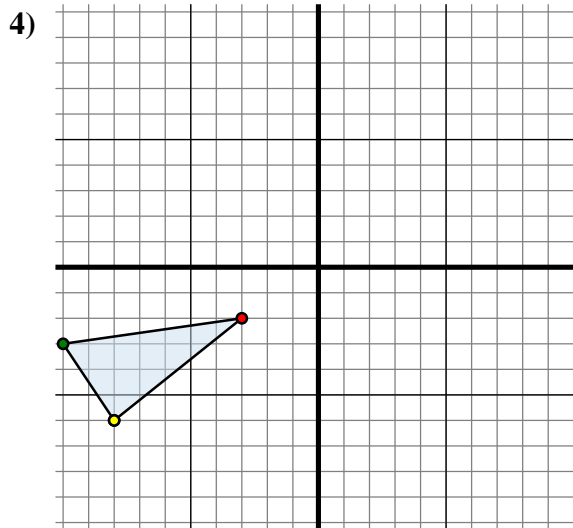
Spiegle die Figur an der X-Achse.



Die obige Figur hat die folgenden Koordinaten:

- A. (-1 , -3)
- B. (-10 , -1)
- C. (-7 , -7)
- D. (-1 , -8)

Spiegle die Figur an der X-Achse.



Die obige Figur hat die folgenden Koordinaten:

- A. (-3 , -2)
- B. (-10 , -3)
- C. (-8 , -6)

Spiegle die Figur an der Y-Achse.

Antworten

1A. (4 , 4)

1B. _____

1C. _____

1G. Graph

2A. _____

2B. _____

2C. _____

2D. _____

2G. Graph

3A. _____

3B. _____

3C. _____

3D. _____

3G. Graph

4A. _____

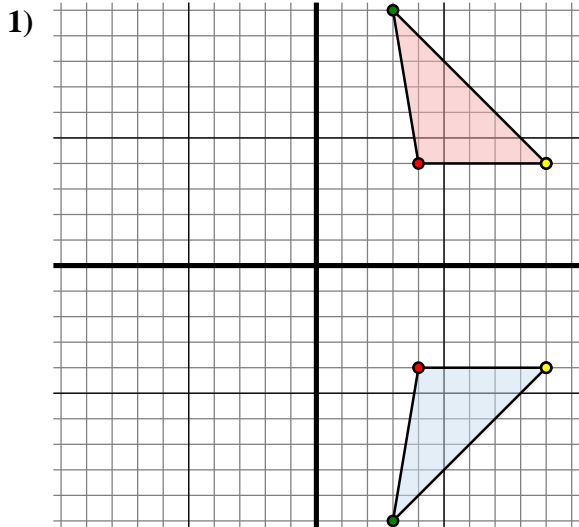
4B. _____

4C. _____

4G. Graph



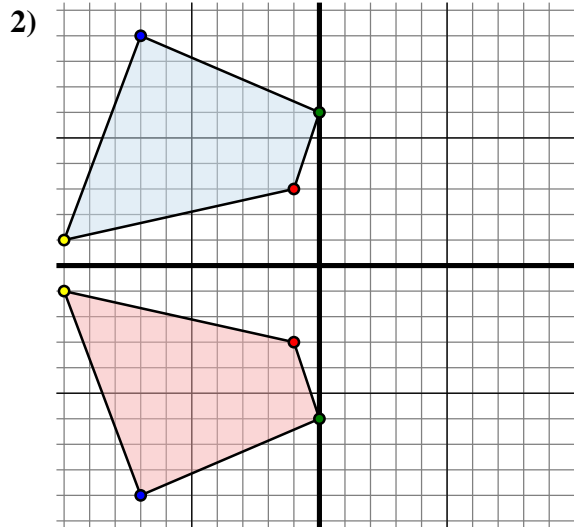
Spiegle jede Figur wie beschrieben.



Die obige Figur hat die folgenden Koordinaten:

- A. (4 , -4)
- B. (3 , -10)
- C. (9 , -4)

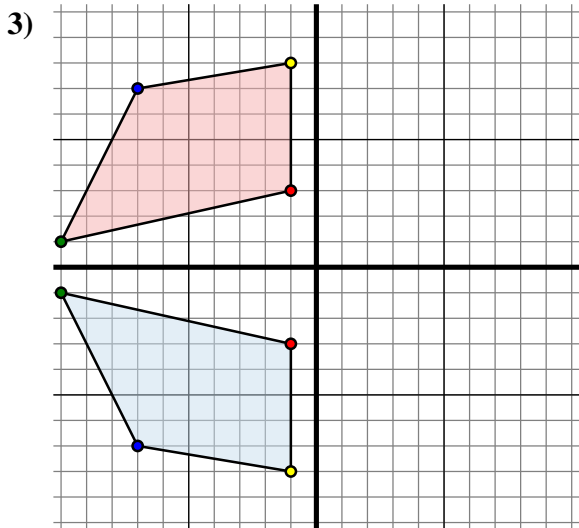
Spiegle die Figur an der X-Achse.



Die obige Figur hat die folgenden Koordinaten:

- A. (-1 , 3)
- B. (0 , 6)
- C. (-7 , 9)
- D. (-10 , 1)

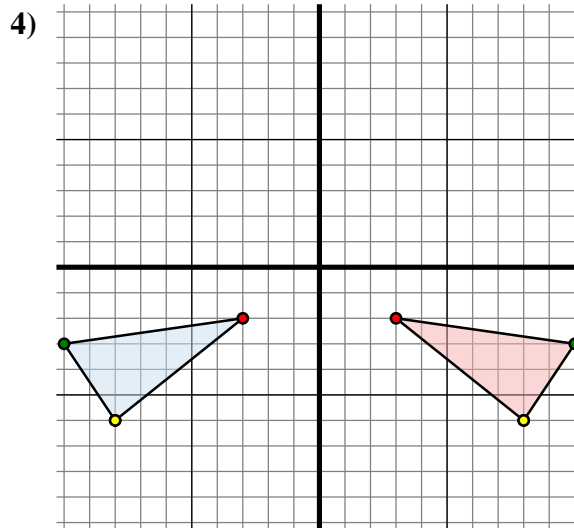
Spiegle die Figur an der X-Achse.



Die obige Figur hat die folgenden Koordinaten:

- A. (-1 , -3)
- B. (-10 , -1)
- C. (-7 , -7)
- D. (-1 , -8)

Spiegle die Figur an der X-Achse.



Die obige Figur hat die folgenden Koordinaten:

- A. (-3 , -2)
- B. (-10 , -3)
- C. (-8 , -6)

Spiegle die Figur an der Y-Achse.

Antworten

1A. (4 , 4)

1B. (3 , 10)

1C. (9 , 4)

1G. Graph

2A. (-1 , -3)

2B. (0 , -6)

2C. (-7 , -9)

2D. (-10 , -1)

2G. Graph

3A. (-1 , 3)

3B. (-10 , 1)

3C. (-7 , 7)

3D. (-1 , 8)

3G. Graph

4A. (3 , -2)

4B. (10 , -3)

4C. (8 , -6)

4G. Graph