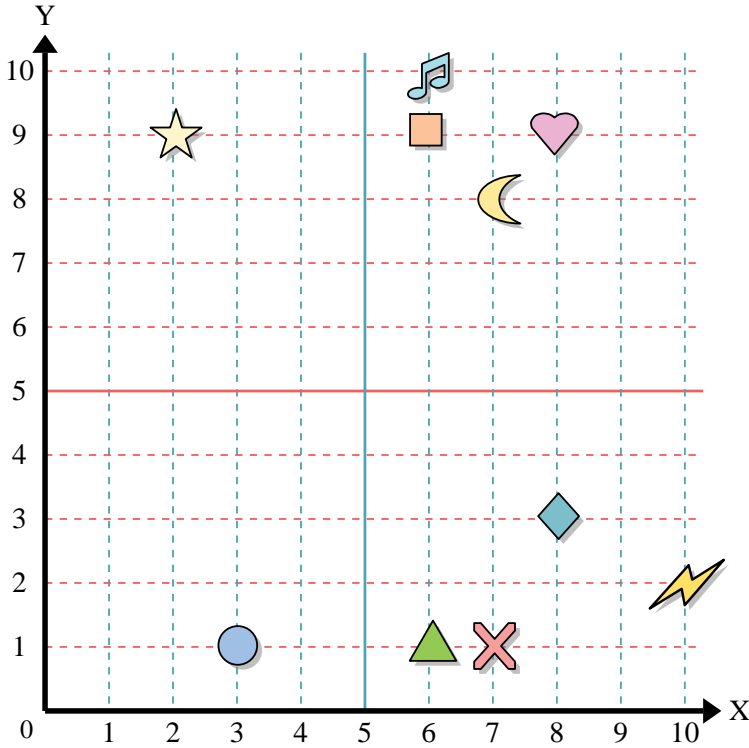




Benutze das Koordinatensystem um die Lage jeder Figur festzulegen.

**Antworten**

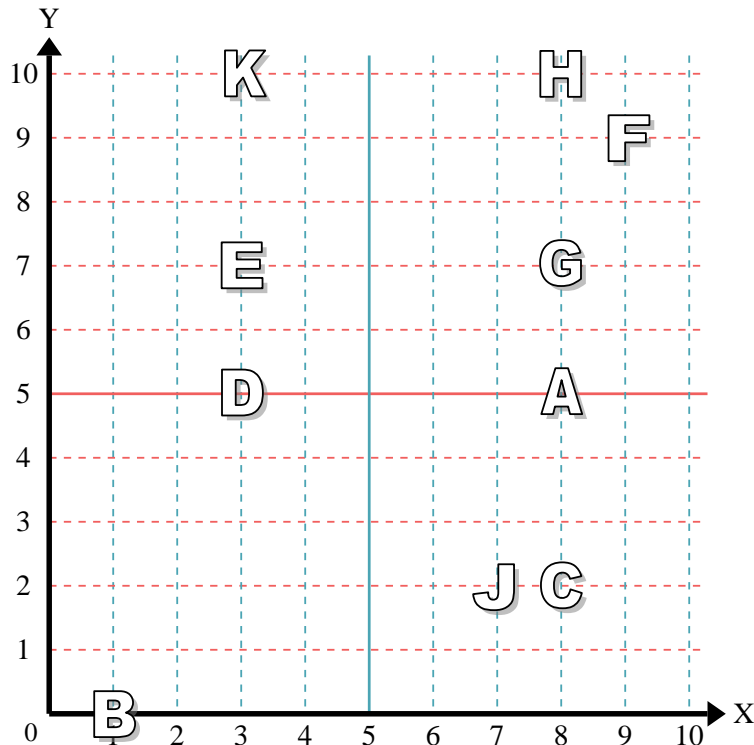


- 1) Stern \_\_\_\_\_
- 2) Blitz \_\_\_\_\_
- 3) Kreis \_\_\_\_\_
- 4) Herz \_\_\_\_\_
- 5) Kreuz \_\_\_\_\_
- 6) Dreieck \_\_\_\_\_
- 7) Mond \_\_\_\_\_
- 8) Quadrat \_\_\_\_\_
- 9) Diamant \_\_\_\_\_
- 10) Musiknote \_\_\_\_\_

- 1. \_\_\_\_\_
- 2. \_\_\_\_\_
- 3. \_\_\_\_\_
- 4. \_\_\_\_\_
- 5. \_\_\_\_\_
- 6. \_\_\_\_\_
- 7. \_\_\_\_\_
- 8. \_\_\_\_\_
- 9. \_\_\_\_\_
- 10. \_\_\_\_\_
- 11. \_\_\_\_\_
- 12. \_\_\_\_\_
- 13. \_\_\_\_\_
- 14. \_\_\_\_\_
- 15. \_\_\_\_\_
- 16. \_\_\_\_\_
- 17. \_\_\_\_\_
- 18. \_\_\_\_\_
- 19. \_\_\_\_\_
- 20. \_\_\_\_\_

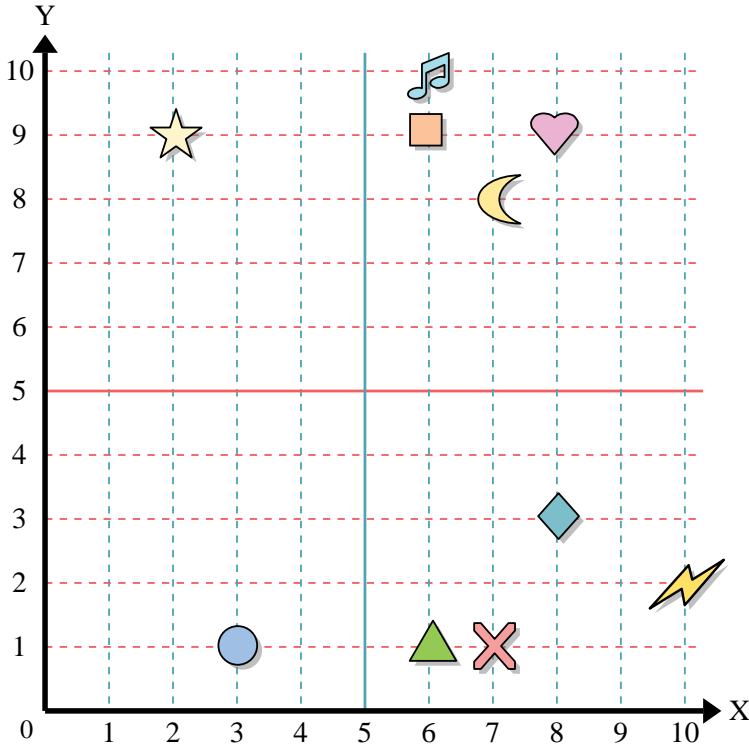
Stelle fest, welcher Buchstabe sich auf der Koordinate im Koordinatensystem unten befindet.

- 11) (8,5) \_\_\_\_\_
- 12) (8,10) \_\_\_\_\_
- 13) (9,9) \_\_\_\_\_
- 14) (8,7) \_\_\_\_\_
- 15) (3,7) \_\_\_\_\_
- 16) (3,5) \_\_\_\_\_
- 17) (7,2) \_\_\_\_\_
- 18) (3,10) \_\_\_\_\_
- 19) (8,2) \_\_\_\_\_
- 20) (1,0) \_\_\_\_\_





Benutze das Koordinatensystem um die Lage jeder Figur festzulegen.



- 1) Stern (2,9)
- 2) Blitz (10,2)
- 3) Kreis (3,1)
- 4) Herz (8,9)
- 5) Kreuz (7,1)
- 6) Dreieck (6,1)
- 7) Mond (7,8)
- 8) Quadrat (6,9)
- 9) Diamant (8,3)
- 10) Musiknote (6,10)

**Antworten**

- 1. (2,9)
- 2. (10,2)
- 3. (3,1)
- 4. (8,9)
- 5. (7,1)
- 6. (6,1)
- 7. (7,8)
- 8. (6,9)
- 9. (8,3)
- 10. (6,10)
- 11. A
- 12. H
- 13. F
- 14. G
- 15. E
- 16. D
- 17. J
- 18. K
- 19. C
- 20. B

Stelle fest, welcher Buchstabe sich auf der Koordinate im Koordinatensystem unten befindet.

- 11) (8,5) A
- 12) (8,10) H
- 13) (9,9) F
- 14) (8,7) G
- 15) (3,7) E
- 16) (3,5) D
- 17) (7,2) J
- 18) (3,10) K
- 19) (8,2) C
- 20) (1,0) B

