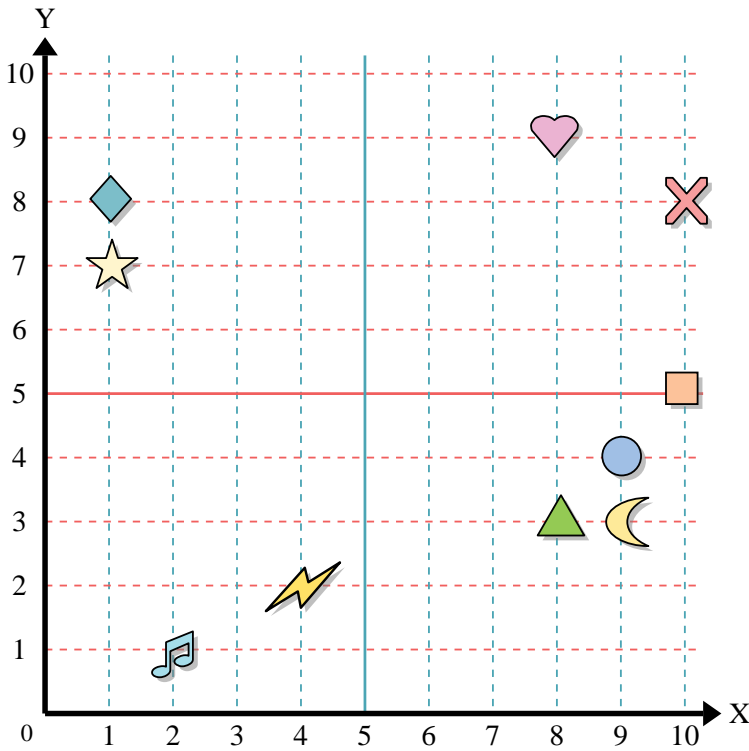




Benutze das Koordinatensystem um die Lage jeder Figur festzulegen.



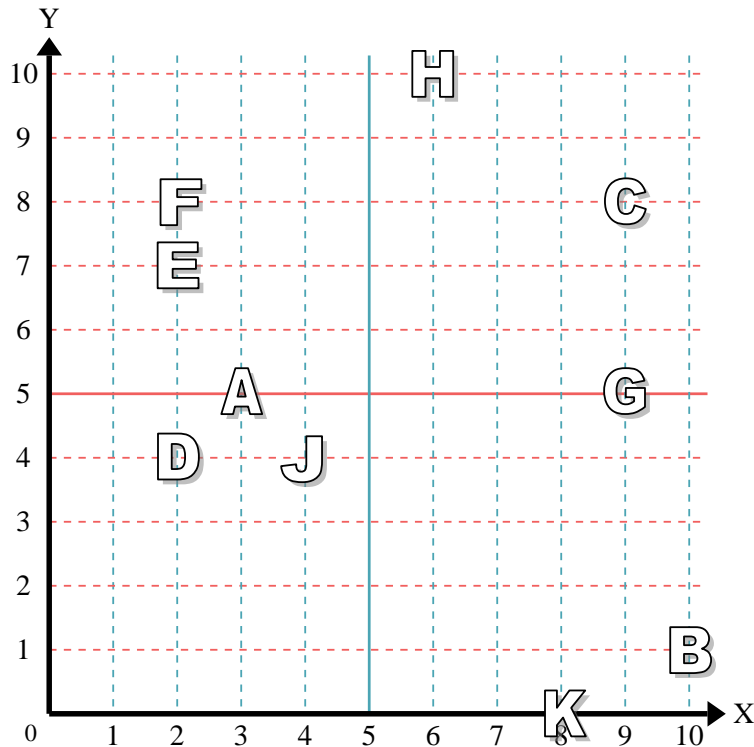
- 1) Stern _____
- 2) Blitz _____
- 3) Kreis _____
- 4) Herz _____
- 5) Kreuz _____
- 6) Dreieck _____
- 7) Mond _____
- 8) Quadrat _____
- 9) Diamant _____
- 10) Musiknote _____

Antworten

- 1. _____
- 2. _____
- 3. _____
- 4. _____
- 5. _____
- 6. _____
- 7. _____
- 8. _____
- 9. _____
- 10. _____
- 11. _____
- 12. _____
- 13. _____
- 14. _____
- 15. _____
- 16. _____
- 17. _____
- 18. _____
- 19. _____
- 20. _____

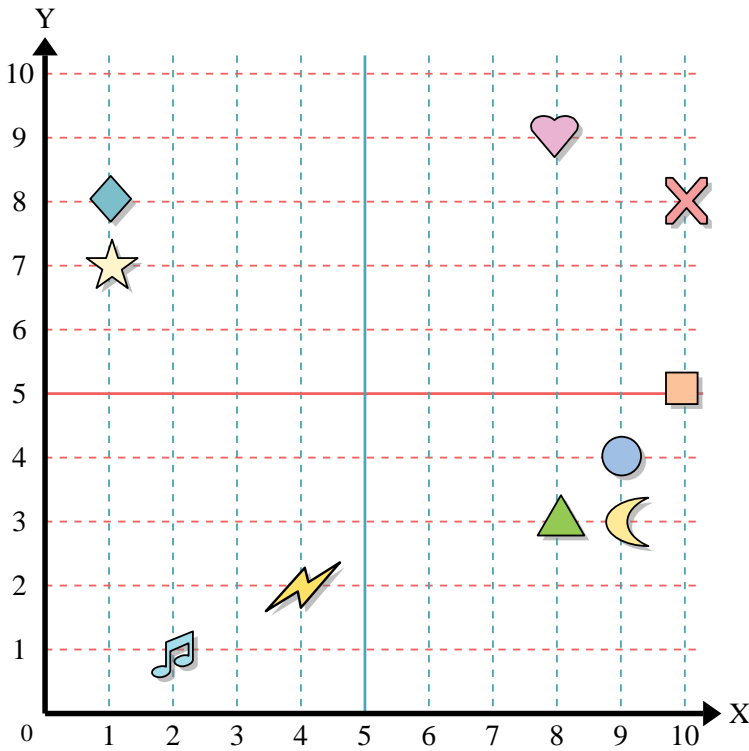
Stelle fest, welcher Buchstabe sich auf der Koordinate im Koordinatensystem unten befindet.

- 11) (6, 10) _____
- 12) (2, 4) _____
- 13) (4, 4) _____
- 14) (2, 8) _____
- 15) (9, 5) _____
- 16) (8, 0) _____
- 17) (10, 1) _____
- 18) (3, 5) _____
- 19) (2, 7) _____
- 20) (9, 8) _____





Benutze das Koordinatensystem um die Lage jeder Figur festzulegen.



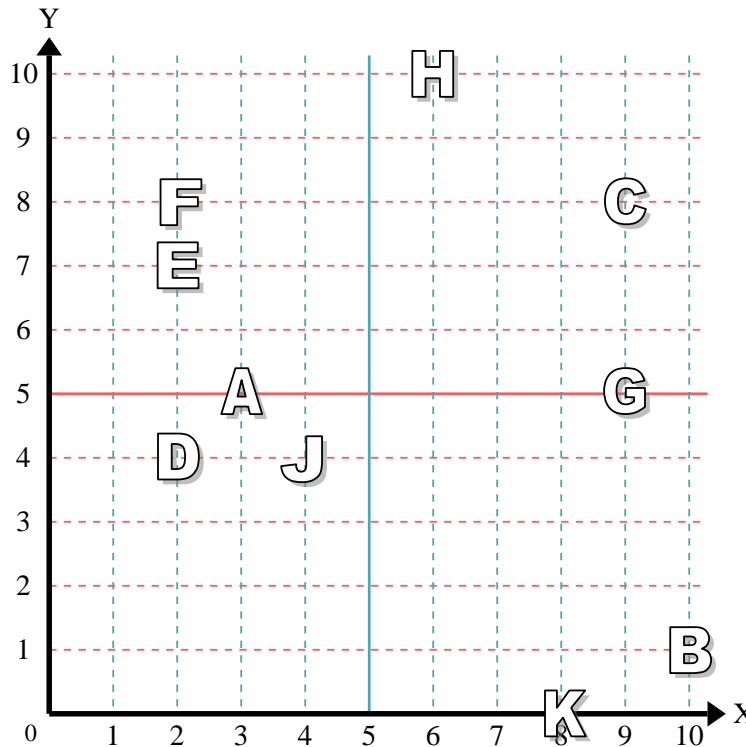
- 1) Stern (1,7)
- 2) Blitz (4,2)
- 3) Kreis (9,4)
- 4) Herz (8,9)
- 5) Kreuz (10,8)
- 6) Dreieck (8,3)
- 7) Mond (9,3)
- 8) Quadrat (10,5)
- 9) Diamant (1,8)
- 10) Musiknote (2,1)

Antworten

- 1. (1,7)
- 2. (4,2)
- 3. (9,4)
- 4. (8,9)
- 5. (10,8)
- 6. (8,3)
- 7. (9,3)
- 8. (10,5)
- 9. (1,8)
- 10. (2,1)

Stelle fest, welcher Buchstabe sich auf der Koordinate im Koordinatensystem unten befindet.

- 11) (6, 10) H
- 12) (2, 4) D
- 13) (4, 4) J
- 14) (2, 8) F
- 15) (9, 5) G
- 16) (8, 0) K
- 17) (10, 1) B
- 18) (3, 5) A
- 19) (2, 7) E
- 20) (9, 8) C



- 11. H
- 12. D
- 13. J
- 14. F
- 15. G
- 16. K
- 17. B
- 18. A
- 19. E
- 20. C