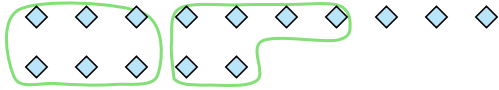




Verwende die Beispiele mit den Figuren im Feld zur Beantwortung der Fragen.

**Antworten**

**Bsp)** Es gibt 15 Figuren unten. Wie viele Gruppen mit 6 kannst du daraus machen? Wie viele Figuren wirst du übrig haben?



**1)** Es gibt 12 Figuren unten. Wie viele Gruppen mit 6 kannst du daraus machen? Wie viele Figuren wirst du übrig haben?



Bsp. 2

Bsp. 3

**2)** Es gibt 27 Figuren unten. Wie viele Gruppen mit 9 kannst du daraus machen? Wie viele Figuren wirst du übrig haben?



**3)** Es gibt 10 Figuren unten. Wie viele Gruppen mit 7 kannst du daraus machen? Wie viele Figuren wirst du übrig haben?



1. \_\_\_\_\_

1. \_\_\_\_\_

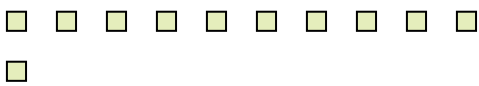
2. \_\_\_\_\_

2. \_\_\_\_\_

3. \_\_\_\_\_

3. \_\_\_\_\_

**4)** Es gibt 11 Figuren unten. Wie viele Gruppen mit 8 kannst du daraus machen? Wie viele Figuren wirst du übrig haben?



**5)** Es gibt 27 Figuren unten. Wie viele Gruppen mit 5 kannst du daraus machen? Wie viele Figuren wirst du übrig haben?



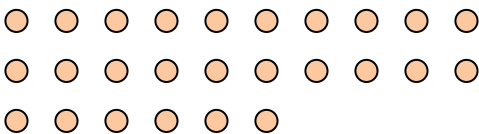
4. \_\_\_\_\_

4. \_\_\_\_\_

5. \_\_\_\_\_

5. \_\_\_\_\_

**6)** Es gibt 26 Figuren unten. Wie viele Gruppen mit 5 kannst du daraus machen? Wie viele Figuren wirst du übrig haben?



**7)** Es gibt 21 Figuren unten. Wie viele Gruppen mit 5 kannst du daraus machen? Wie viele Figuren wirst du übrig haben?



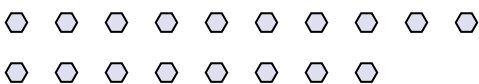
6. \_\_\_\_\_

6. \_\_\_\_\_

7. \_\_\_\_\_

7. \_\_\_\_\_

**8)** Es gibt 18 Figuren unten. Wie viele Gruppen mit 4 kannst du daraus machen? Wie viele Figuren wirst du übrig haben?



**9)** Es gibt 16 Figuren unten. Wie viele Gruppen mit 6 kannst du daraus machen? Wie viele Figuren wirst du übrig haben?



8. \_\_\_\_\_

8. \_\_\_\_\_

9. \_\_\_\_\_

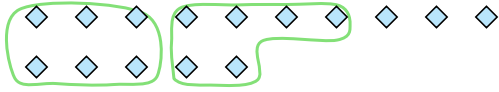
9. \_\_\_\_\_



Verwende die Beispiele mit den Figuren im Feld zur Beantwortung der Fragen.

**Antworten**

**Bsp)** Es gibt 15 Figuren unten. Wie viele Gruppen mit 6 kannst du daraus machen? Wie viele Figuren wirst du übrig haben?



**1)** Es gibt 12 Figuren unten. Wie viele Gruppen mit 6 kannst du daraus machen? Wie viele Figuren wirst du übrig haben?



Bsp. 2

Bsp. 3

**2)** Es gibt 27 Figuren unten. Wie viele Gruppen mit 9 kannst du daraus machen? Wie viele Figuren wirst du übrig haben?



**3)** Es gibt 10 Figuren unten. Wie viele Gruppen mit 7 kannst du daraus machen? Wie viele Figuren wirst du übrig haben?



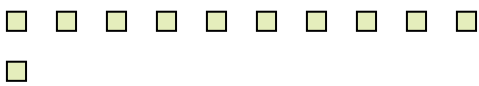
1. 2

1. 0

2. 3

2. 0

**4)** Es gibt 11 Figuren unten. Wie viele Gruppen mit 8 kannst du daraus machen? Wie viele Figuren wirst du übrig haben?



**5)** Es gibt 27 Figuren unten. Wie viele Gruppen mit 5 kannst du daraus machen? Wie viele Figuren wirst du übrig haben?



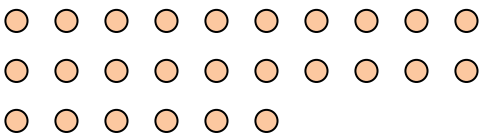
3. 1

3. 3

4. 1

4. 3

**6)** Es gibt 26 Figuren unten. Wie viele Gruppen mit 5 kannst du daraus machen? Wie viele Figuren wirst du übrig haben?



**7)** Es gibt 21 Figuren unten. Wie viele Gruppen mit 5 kannst du daraus machen? Wie viele Figuren wirst du übrig haben?



5. 5

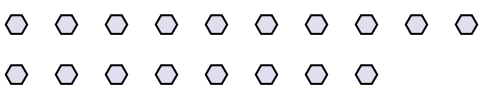
5. 2

6. 5

6. 1

7. 4

**8)** Es gibt 18 Figuren unten. Wie viele Gruppen mit 4 kannst du daraus machen? Wie viele Figuren wirst du übrig haben?



**9)** Es gibt 16 Figuren unten. Wie viele Gruppen mit 6 kannst du daraus machen? Wie viele Figuren wirst du übrig haben?



7. 1

8. 4

8. 2

9. 2

9. 4