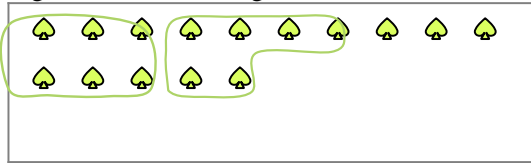





Verwende die Beispiele mit den Figuren im Feld zur Beantwortung der Fragen.

Antworten

Bsp) Es gibt 15 Figuren unten. Wie viele Gruppen mit 6 kannst du daraus machen? Wie viele Figuren wirst du übrig haben?



1) Es gibt 29 Figuren unten. Wie viele Gruppen mit 7 kannst du daraus machen? Wie viele Figuren wirst du übrig haben?



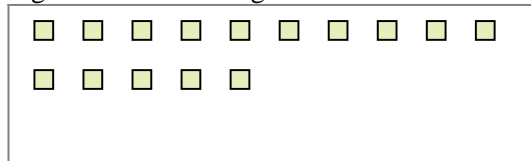
Bsp. 2

Bsp. 3


1a. \_\_\_\_\_

1b. \_\_\_\_\_

2) Es gibt 15 Figuren unten. Wie viele Gruppen mit 7 kannst du daraus machen? Wie viele Figuren wirst du übrig haben?



3) Es gibt 28 Figuren unten. Wie viele Gruppen mit 9 kannst du daraus machen? Wie viele Figuren wirst du übrig haben?



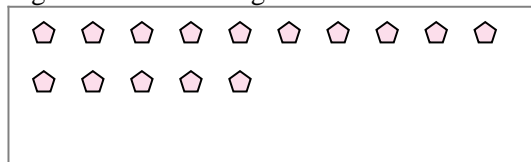
2a. \_\_\_\_\_

2b. \_\_\_\_\_

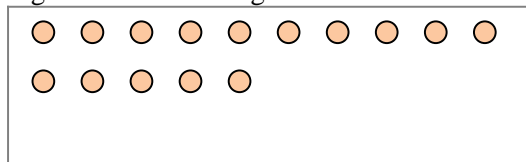
3a. \_\_\_\_\_

3b. \_\_\_\_\_

4) Es gibt 15 Figuren unten. Wie viele Gruppen mit 8 kannst du daraus machen? Wie viele Figuren wirst du übrig haben?



5) Es gibt 15 Figuren unten. Wie viele Gruppen mit 7 kannst du daraus machen? Wie viele Figuren wirst du übrig haben?



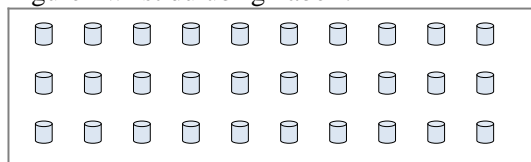
4a. \_\_\_\_\_

4b. \_\_\_\_\_

5a. \_\_\_\_\_

5b. \_\_\_\_\_

6) Es gibt 30 Figuren unten. Wie viele Gruppen mit 4 kannst du daraus machen? Wie viele Figuren wirst du übrig haben?



7) Es gibt 20 Figuren unten. Wie viele Gruppen mit 3 kannst du daraus machen? Wie viele Figuren wirst du übrig haben?



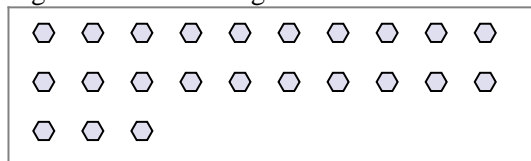
6a. \_\_\_\_\_

6b. \_\_\_\_\_


7a. \_\_\_\_\_

7b. \_\_\_\_\_

8) Es gibt 23 Figuren unten. Wie viele Gruppen mit 5 kannst du daraus machen? Wie viele Figuren wirst du übrig haben?



9) Es gibt 23 Figuren unten. Wie viele Gruppen mit 5 kannst du daraus machen? Wie viele Figuren wirst du übrig haben?



8a. \_\_\_\_\_

8b. \_\_\_\_\_

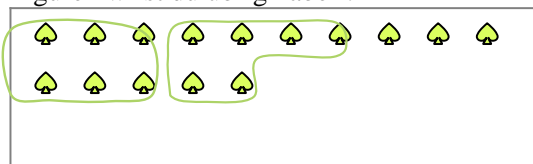
9a. \_\_\_\_\_

9b. \_\_\_\_\_




Verwende die Beispiele mit den Figuren im Feld zur Beantwortung der Fragen.

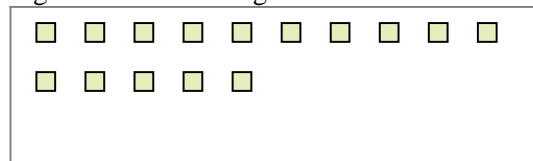
**Bsp)** Es gibt 15 Figuren unten. Wie viele Gruppen mit 6 kannst du daraus machen? Wie viele Figuren wirst du übrig haben?



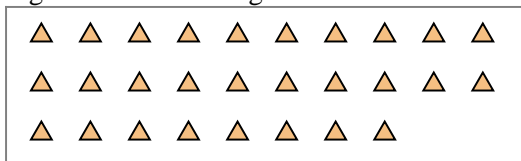
**1)** Es gibt 29 Figuren unten. Wie viele Gruppen mit 7 kannst du daraus machen? Wie viele Figuren wirst du übrig haben?



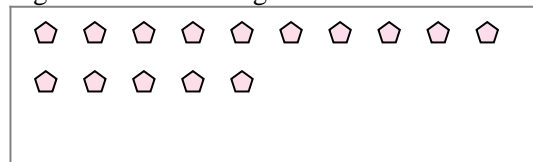
**2)** Es gibt 15 Figuren unten. Wie viele Gruppen mit 7 kannst du daraus machen? Wie viele Figuren wirst du übrig haben?



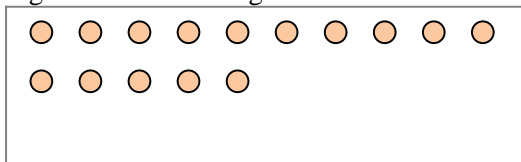
**3)** Es gibt 28 Figuren unten. Wie viele Gruppen mit 9 kannst du daraus machen? Wie viele Figuren wirst du übrig haben?



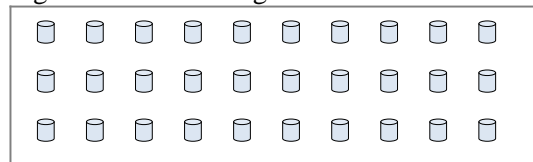
**4)** Es gibt 15 Figuren unten. Wie viele Gruppen mit 8 kannst du daraus machen? Wie viele Figuren wirst du übrig haben?



**5)** Es gibt 15 Figuren unten. Wie viele Gruppen mit 7 kannst du daraus machen? Wie viele Figuren wirst du übrig haben?



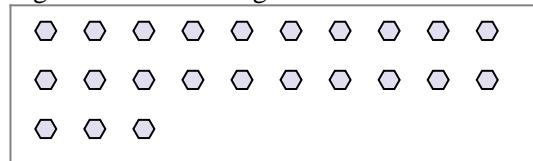
**6)** Es gibt 30 Figuren unten. Wie viele Gruppen mit 4 kannst du daraus machen? Wie viele Figuren wirst du übrig haben?




**7)** Es gibt 20 Figuren unten. Wie viele Gruppen mit 3 kannst du daraus machen? Wie viele Figuren wirst du übrig haben?



**8)** Es gibt 23 Figuren unten. Wie viele Gruppen mit 5 kannst du daraus machen? Wie viele Figuren wirst du übrig haben?



**9)** Es gibt 23 Figuren unten. Wie viele Gruppen mit 5 kannst du daraus machen? Wie viele Figuren wirst du übrig haben?



**Antworten**

Bsp. 2

Bsp. 3

1a. 4

1b. 1

2a. 2

2b. 1

3a. 3

3b. 1

4a. 1

4b. 7

5a. 2

5b. 1

6a. 7

6b. 2

7a. 6

7b. 2

8a. 4

8b. 3

9a. 4

9b. 3