



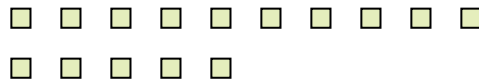
Benutze die vorgegebenen Figuren zur Beantwortung der Fragen.

Antworten

Bsp) Wie viele Gruppen von 6 kannst du machen mit den 18 Figuren unten?




1) Wie viele Gruppen von 5 kannst du machen mit den 15 Figuren unten?



Bsp. 3

2) Wie viele Gruppen von 6 kannst du machen mit den 30 Figuren unten?



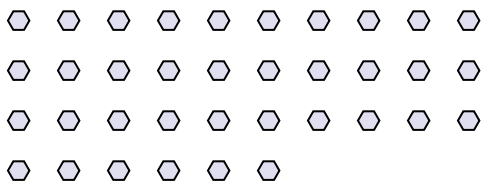
3) Wie viele Gruppen von 2 kannst du machen mit den 16 Figuren unten?



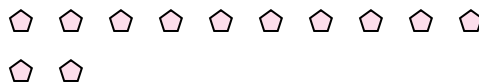
1. _____

2. _____

4) Wie viele Gruppen von 3 kannst du machen mit den 36 Figuren unten?



5) Wie viele Gruppen von 6 kannst du machen mit den 12 Figuren unten?



3. _____

4. _____

5. _____

6. _____

7. _____

8. _____

6) Wie viele Gruppen von 6 kannst du machen mit den 12 Figuren unten?



7) Wie viele Gruppen von 4 kannst du machen mit den 20 Figuren unten?

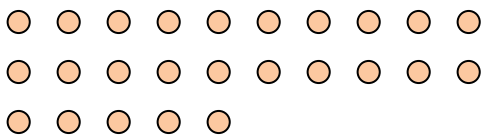


9. _____

10. _____

11. _____


8) Wie viele Gruppen von 5 kannst du machen mit den 25 Figuren unten?




9) Wie viele Gruppen von 6 kannst du machen mit den 24 Figuren unten?



10) Wie viele Gruppen von 4 kannst du machen mit den 32 Figuren unten?



11) Wie viele Gruppen von 5 kannst du machen mit den 25 Figuren unten?





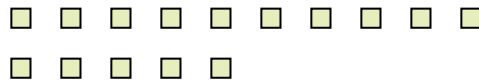
Benutze die vorgegebenen Figuren zur Beantwortung der Fragen.

Antworten

Bsp) Wie viele Gruppen von 6 kannst du machen mit den 18 Figuren unten?




1) Wie viele Gruppen von 5 kannst du machen mit den 15 Figuren unten?



Bsp. 3

2) Wie viele Gruppen von 6 kannst du machen mit den 30 Figuren unten?

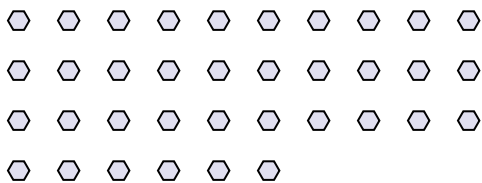


3) Wie viele Gruppen von 2 kannst du machen mit den 16 Figuren unten?

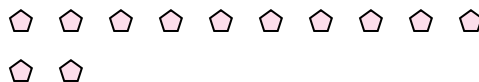


1. 3

4) Wie viele Gruppen von 3 kannst du machen mit den 36 Figuren unten?



5) Wie viele Gruppen von 6 kannst du machen mit den 12 Figuren unten?



2. 5

6) Wie viele Gruppen von 6 kannst du machen mit den 12 Figuren unten?

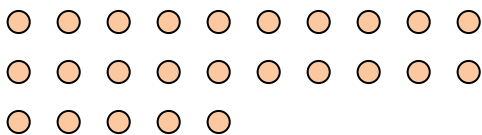


7) Wie viele Gruppen von 4 kannst du machen mit den 20 Figuren unten?



3. 8

8) Wie viele Gruppen von 5 kannst du machen mit den 25 Figuren unten?




9) Wie viele Gruppen von 6 kannst du machen mit den 24 Figuren unten?




4. 12

10) Wie viele Gruppen von 4 kannst du machen mit den 32 Figuren unten?



11) Wie viele Gruppen von 5 kannst du machen mit den 25 Figuren unten?



5. 2

6. 2

7. 5

8. 5

9. 4

10. 8

11. 5