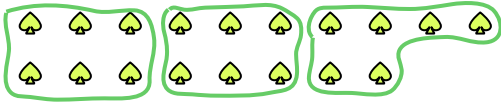


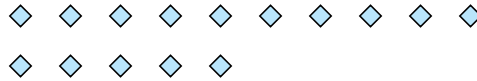


Benutze die vorgegebenen Figuren zur Beantwortung der Fragen.

Bsp) Wie viele Gruppen von 6 kannst du machen mit den 18 Figuren unten?



1) Wie viele Gruppen von 5 kannst du machen mit den 15 Figuren unten?



Antworten

Bsp. 3

1. _____

2. _____

3. _____

4. _____

5. _____

6. _____

7. _____

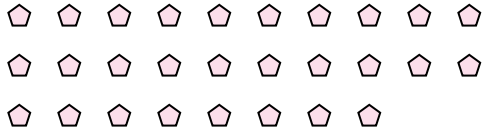
8. _____

9. _____

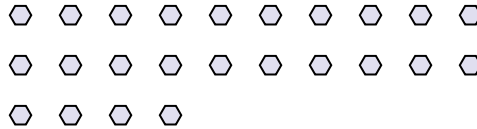
10. _____

11. _____

2) Wie viele Gruppen von 7 kannst du machen mit den 28 Figuren unten?



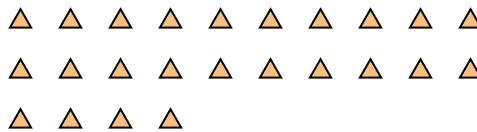
3) Wie viele Gruppen von 3 kannst du machen mit den 24 Figuren unten?



4) Wie viele Gruppen von 2 kannst du machen mit den 8 Figuren unten?



5) Wie viele Gruppen von 6 kannst du machen mit den 24 Figuren unten?



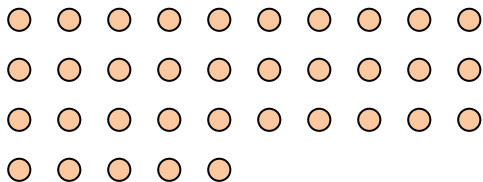
6) Wie viele Gruppen von 8 kannst du machen mit den 40 Figuren unten?




7) Wie viele Gruppen von 5 kannst du machen mit den 10 Figuren unten?



8) Wie viele Gruppen von 7 kannst du machen mit den 35 Figuren unten?



9) Wie viele Gruppen von 7 kannst du machen mit den 21 Figuren unten?



10) Wie viele Gruppen von 4 kannst du machen mit den 16 Figuren unten?




11) Wie viele Gruppen von 3 kannst du machen mit den 9 Figuren unten?



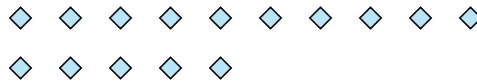


Benutze die vorgegebenen Figuren zur Beantwortung der Fragen.

Bsp) Wie viele Gruppen von 6 kannst du machen mit den 18 Figuren unten?



1) Wie viele Gruppen von 5 kannst du machen mit den 15 Figuren unten?



Antworten

Bsp. 3

1. 3

2. 4

3. 8

4. 4

5. 4

6. 5

7. 2

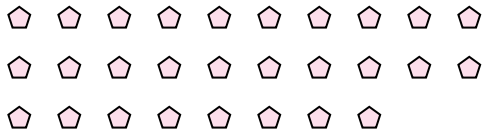
8. 5

9. 3

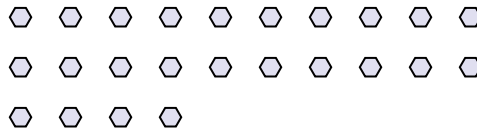
10. 4

11. 3

2) Wie viele Gruppen von 7 kannst du machen mit den 28 Figuren unten?



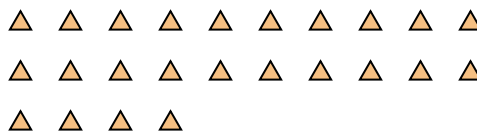
3) Wie viele Gruppen von 3 kannst du machen mit den 24 Figuren unten?



4) Wie viele Gruppen von 2 kannst du machen mit den 8 Figuren unten?



5) Wie viele Gruppen von 6 kannst du machen mit den 24 Figuren unten?



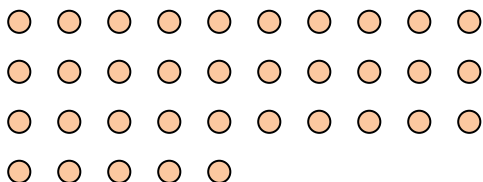
6) Wie viele Gruppen von 8 kannst du machen mit den 40 Figuren unten?




7) Wie viele Gruppen von 5 kannst du machen mit den 10 Figuren unten?



8) Wie viele Gruppen von 7 kannst du machen mit den 35 Figuren unten?



9) Wie viele Gruppen von 7 kannst du machen mit den 21 Figuren unten?



10) Wie viele Gruppen von 4 kannst du machen mit den 16 Figuren unten?




11) Wie viele Gruppen von 3 kannst du machen mit den 9 Figuren unten?






Benutze die vorgegebenen Figuren zur Beantwortung der Fragen.

Bsp) Wie viele Gruppen von 6 kannst du machen mit den 18 Figuren unten?



1) Wie viele Gruppen von 4 kannst du machen mit den 40 Figuren unten?



Antworten

Bsp. 3

1. _____

2. _____

3. _____

4. _____

5. _____

6. _____

7. _____

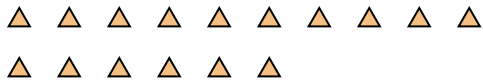
8. _____

9. _____

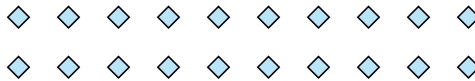
10. _____

11. _____


2) Wie viele Gruppen von 4 kannst du machen mit den 16 Figuren unten?



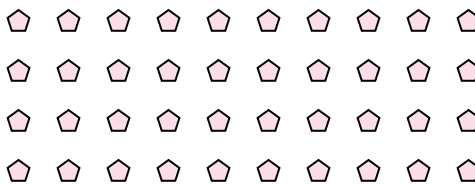
3) Wie viele Gruppen von 4 kannst du machen mit den 20 Figuren unten?




4) Wie viele Gruppen von 9 kannst du machen mit den 36 Figuren unten?



5) Wie viele Gruppen von 5 kannst du machen mit den 40 Figuren unten?




6) Wie viele Gruppen von 8 kannst du machen mit den 24 Figuren unten?



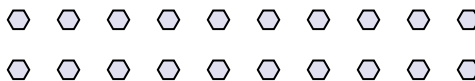
7) Wie viele Gruppen von 6 kannst du machen mit den 18 Figuren unten?



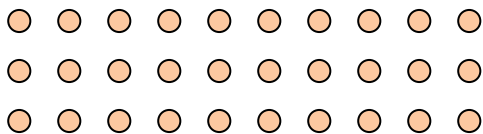
8) Wie viele Gruppen von 5 kannst du machen mit den 35 Figuren unten?



9) Wie viele Gruppen von 2 kannst du machen mit den 20 Figuren unten?



10) Wie viele Gruppen von 2 kannst du machen mit den 30 Figuren unten?



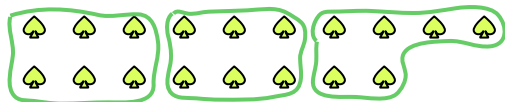
11) Wie viele Gruppen von 2 kannst du machen mit den 10 Figuren unten?






Benutze die vorgegebenen Figuren zur Beantwortung der Fragen.


Bsp) Wie viele Gruppen von 6 kannst du machen mit den 18 Figuren unten?



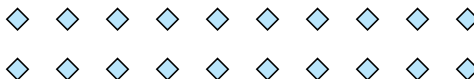
1) Wie viele Gruppen von 4 kannst du machen mit den 40 Figuren unten?




2) Wie viele Gruppen von 4 kannst du machen mit den 16 Figuren unten?



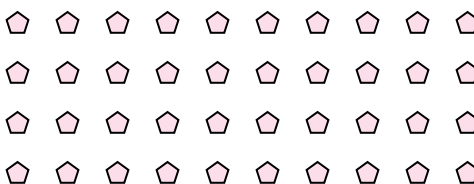
3) Wie viele Gruppen von 4 kannst du machen mit den 20 Figuren unten?




4) Wie viele Gruppen von 9 kannst du machen mit den 36 Figuren unten?



5) Wie viele Gruppen von 5 kannst du machen mit den 40 Figuren unten?




6) Wie viele Gruppen von 8 kannst du machen mit den 24 Figuren unten?



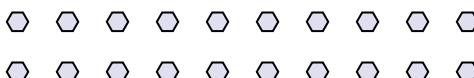
7) Wie viele Gruppen von 6 kannst du machen mit den 18 Figuren unten?



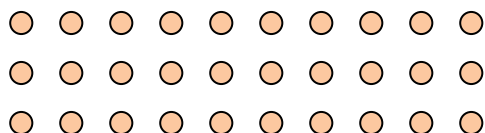
8) Wie viele Gruppen von 5 kannst du machen mit den 35 Figuren unten?



9) Wie viele Gruppen von 2 kannst du machen mit den 20 Figuren unten?



10) Wie viele Gruppen von 2 kannst du machen mit den 30 Figuren unten?



11) Wie viele Gruppen von 2 kannst du machen mit den 10 Figuren unten?



Antworten

Bsp. 3

1. 10

2. 4

3. 5

4. 4

5. 8

6. 3

7. 3

8. 7

9. 10

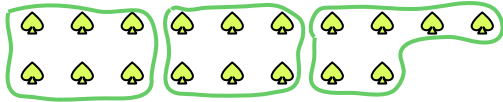
10. 15

11. 5

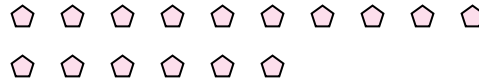


Benutze die vorgegebenen Figuren zur Beantwortung der Fragen.

Bsp) Wie viele Gruppen von 6 kannst du machen mit den 18 Figuren unten?



1) Wie viele Gruppen von 4 kannst du machen mit den 16 Figuren unten?



Antworten

Bsp. 3

1. _____

2. _____

3. _____

4. _____

5. _____

6. _____

7. _____

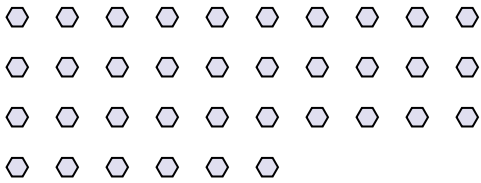
8. _____

9. _____


10. _____

11. _____

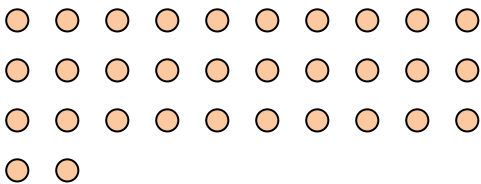
2) Wie viele Gruppen von 3 kannst du machen mit den 36 Figuren unten?




3) Wie viele Gruppen von 8 kannst du machen mit den 32 Figuren unten?



4) Wie viele Gruppen von 8 kannst du machen mit den 32 Figuren unten?



5) Wie viele Gruppen von 6 kannst du machen mit den 30 Figuren unten?




6) Wie viele Gruppen von 7 kannst du machen mit den 28 Figuren unten?




7) Wie viele Gruppen von 3 kannst du machen mit den 12 Figuren unten?



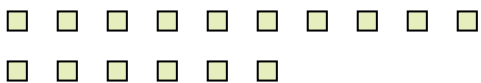
8) Wie viele Gruppen von 9 kannst du machen mit den 36 Figuren unten?



9) Wie viele Gruppen von 4 kannst du machen mit den 36 Figuren unten?



10) Wie viele Gruppen von 4 kannst du machen mit den 16 Figuren unten?



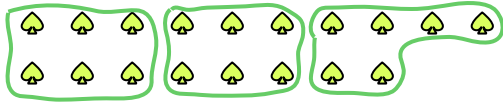
11) Wie viele Gruppen von 4 kannst du machen mit den 16 Figuren unten?



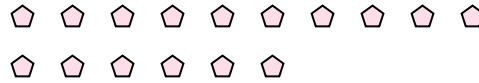


Benutze die vorgegebenen Figuren zur Beantwortung der Fragen.

Bsp) Wie viele Gruppen von 6 kannst du machen mit den 18 Figuren unten?

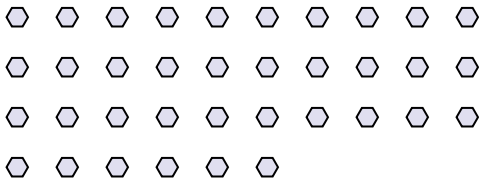


1) Wie viele Gruppen von 4 kannst du machen mit den 16 Figuren unten?




<u>Antworten</u>	
Bsp.	<u>3</u>
1.	<u>4</u>
2.	<u>12</u>
3.	<u>4</u>
4.	<u>4</u>
5.	<u>5</u>
6.	<u>4</u>
7.	<u>4</u>
8.	<u>4</u>
9.	<u>9</u>
10.	<u>4</u>
11.	<u>4</u>

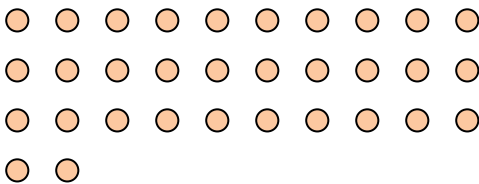
2) Wie viele Gruppen von 3 kannst du machen mit den 36 Figuren unten?




3) Wie viele Gruppen von 8 kannst du machen mit den 32 Figuren unten?



4) Wie viele Gruppen von 8 kannst du machen mit den 32 Figuren unten?



5) Wie viele Gruppen von 6 kannst du machen mit den 30 Figuren unten?




6) Wie viele Gruppen von 7 kannst du machen mit den 28 Figuren unten?




7) Wie viele Gruppen von 3 kannst du machen mit den 12 Figuren unten?



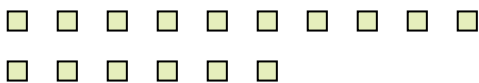
8) Wie viele Gruppen von 9 kannst du machen mit den 36 Figuren unten?



9) Wie viele Gruppen von 4 kannst du machen mit den 36 Figuren unten?



10) Wie viele Gruppen von 4 kannst du machen mit den 16 Figuren unten?



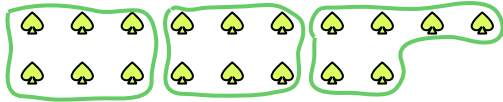
11) Wie viele Gruppen von 4 kannst du machen mit den 16 Figuren unten?





Benutze die vorgegebenen Figuren zur Beantwortung der Fragen.

Bsp) Wie viele Gruppen von 6 kannst du machen mit den 18 Figuren unten?



1) Wie viele Gruppen von 5 kannst du machen mit den 10 Figuren unten?



Antworten

Bsp. 3

1. _____

2. _____

3. _____

4. _____

5. _____

6. _____

7. _____

8. _____

9. _____

10. _____

11. _____

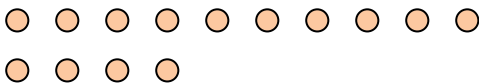
2) Wie viele Gruppen von 7 kannst du machen mit den 21 Figuren unten?



3) Wie viele Gruppen von 3 kannst du machen mit den 18 Figuren unten?



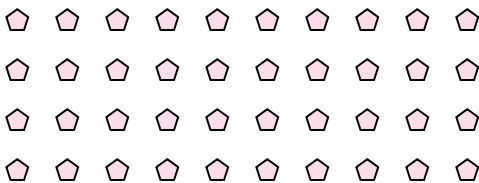
4) Wie viele Gruppen von 7 kannst du machen mit den 14 Figuren unten?



5) Wie viele Gruppen von 4 kannst du machen mit den 24 Figuren unten?



6) Wie viele Gruppen von 8 kannst du machen mit den 40 Figuren unten?



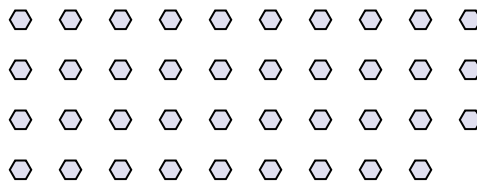
7) Wie viele Gruppen von 2 kannst du machen mit den 12 Figuren unten?



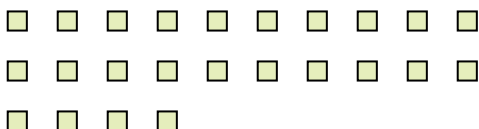
8) Wie viele Gruppen von 2 kannst du machen mit den 16 Figuren unten?




9) Wie viele Gruppen von 3 kannst du machen mit den 39 Figuren unten?



10) Wie viele Gruppen von 8 kannst du machen mit den 24 Figuren unten?



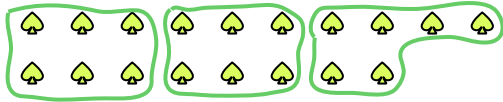
11) Wie viele Gruppen von 9 kannst du machen mit den 27 Figuren unten?





Benutze die vorgegebenen Figuren zur Beantwortung der Fragen.

Bsp) Wie viele Gruppen von 6 kannst du machen mit den 18 Figuren unten?



1) Wie viele Gruppen von 5 kannst du machen mit den 10 Figuren unten?



Antworten

Bsp. 3

1. 2

2. 3

3. 6

4. 2

5. 6

6. 5

7. 6

8. 8

9. 13

10. 3

11. 3

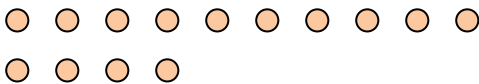
2) Wie viele Gruppen von 7 kannst du machen mit den 21 Figuren unten?



3) Wie viele Gruppen von 3 kannst du machen mit den 18 Figuren unten?



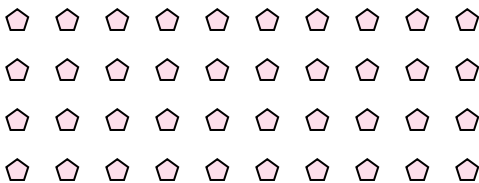
4) Wie viele Gruppen von 7 kannst du machen mit den 14 Figuren unten?



5) Wie viele Gruppen von 4 kannst du machen mit den 24 Figuren unten?



6) Wie viele Gruppen von 8 kannst du machen mit den 40 Figuren unten?



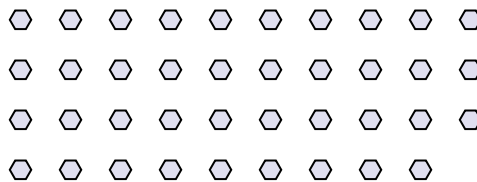
7) Wie viele Gruppen von 2 kannst du machen mit den 12 Figuren unten?



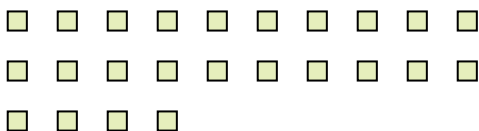
8) Wie viele Gruppen von 2 kannst du machen mit den 16 Figuren unten?




9) Wie viele Gruppen von 3 kannst du machen mit den 39 Figuren unten?



10) Wie viele Gruppen von 8 kannst du machen mit den 24 Figuren unten?



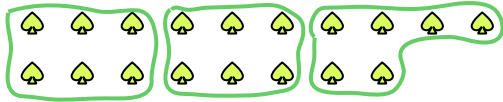
11) Wie viele Gruppen von 9 kannst du machen mit den 27 Figuren unten?



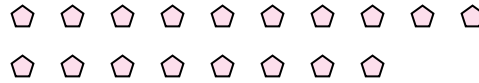


Benutze die vorgegebenen Figuren zur Beantwortung der Fragen.

Bsp) Wie viele Gruppen von 6 kannst du machen mit den 18 Figuren unten?




1) Wie viele Gruppen von 9 kannst du machen mit den 18 Figuren unten?



Antworten

Bsp. 3

2) Wie viele Gruppen von 2 kannst du machen mit den 24 Figuren unten?



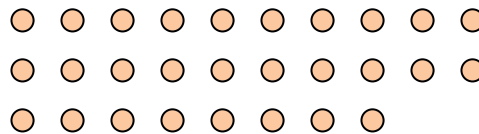
3) Wie viele Gruppen von 9 kannst du machen mit den 27 Figuren unten?




4) Wie viele Gruppen von 3 kannst du machen mit den 15 Figuren unten?



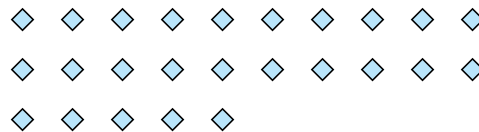
5) Wie viele Gruppen von 7 kannst du machen mit den 28 Figuren unten?



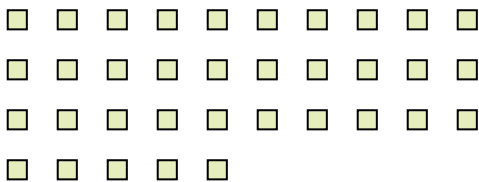
6) Wie viele Gruppen von 9 kannst du machen mit den 36 Figuren unten?



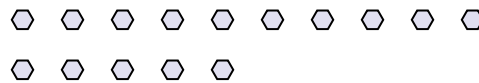
7) Wie viele Gruppen von 5 kannst du machen mit den 25 Figuren unten?



8) Wie viele Gruppen von 7 kannst du machen mit den 35 Figuren unten?



9) Wie viele Gruppen von 5 kannst du machen mit den 15 Figuren unten?



10) Wie viele Gruppen von 4 kannst du machen mit den 16 Figuren unten?



11) Wie viele Gruppen von 5 kannst du machen mit den 30 Figuren unten?




- 1. _____
- 2. _____
- 3. _____
- 4. _____
- 5. _____
- 6. _____
- 7. _____
- 8. _____
- 9. _____
- 10. _____
- 11. _____

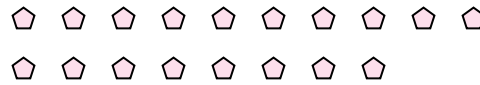


Benutze die vorgegebenen Figuren zur Beantwortung der Fragen.

Bsp) Wie viele Gruppen von 6 kannst du machen mit den 18 Figuren unten?



1) Wie viele Gruppen von 9 kannst du machen mit den 18 Figuren unten?



Antworten

Bsp. 3

1. 2

2. 12

3. 3

4. 5

5. 4

6. 4

7. 5


8. 5

9. 3

10. 4

11. 6

2) Wie viele Gruppen von 2 kannst du machen mit den 24 Figuren unten?



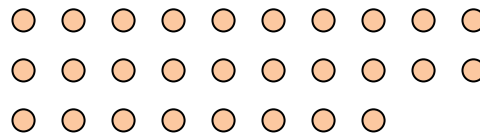
3) Wie viele Gruppen von 9 kannst du machen mit den 27 Figuren unten?




4) Wie viele Gruppen von 3 kannst du machen mit den 15 Figuren unten?



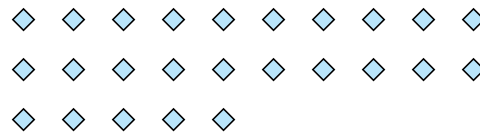
5) Wie viele Gruppen von 7 kannst du machen mit den 28 Figuren unten?



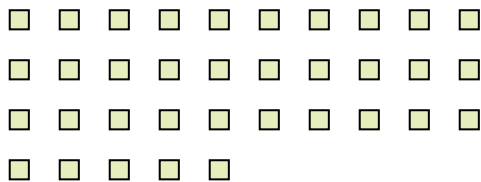
6) Wie viele Gruppen von 9 kannst du machen mit den 36 Figuren unten?



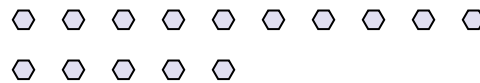
7) Wie viele Gruppen von 5 kannst du machen mit den 25 Figuren unten?



8) Wie viele Gruppen von 7 kannst du machen mit den 35 Figuren unten?



9) Wie viele Gruppen von 5 kannst du machen mit den 15 Figuren unten?



10) Wie viele Gruppen von 4 kannst du machen mit den 16 Figuren unten?



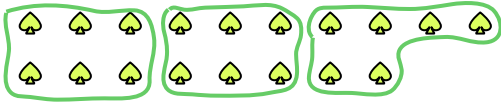
11) Wie viele Gruppen von 5 kannst du machen mit den 30 Figuren unten?






Benutze die vorgegebenen Figuren zur Beantwortung der Fragen.

Bsp) Wie viele Gruppen von 6 kannst du machen mit den 18 Figuren unten?

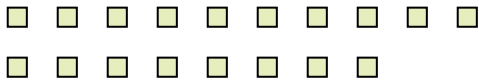


1) Wie viele Gruppen von 6 kannst du machen mit den 24 Figuren unten?

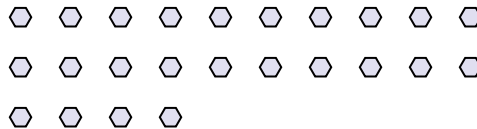


Antworten
Bsp. 3

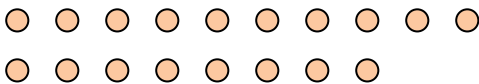
2) Wie viele Gruppen von 6 kannst du machen mit den 18 Figuren unten?



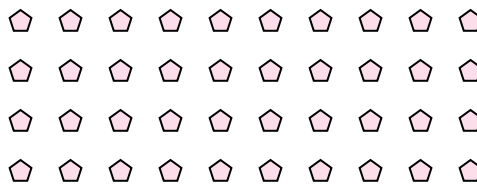
3) Wie viele Gruppen von 8 kannst du machen mit den 24 Figuren unten?




4) Wie viele Gruppen von 2 kannst du machen mit den 18 Figuren unten?



5) Wie viele Gruppen von 8 kannst du machen mit den 40 Figuren unten?




6) Wie viele Gruppen von 5 kannst du machen mit den 30 Figuren unten?



7) Wie viele Gruppen von 8 kannst du machen mit den 24 Figuren unten?



8) Wie viele Gruppen von 3 kannst du machen mit den 33 Figuren unten?



9) Wie viele Gruppen von 2 kannst du machen mit den 6 Figuren unten?



10) Wie viele Gruppen von 7 kannst du machen mit den 14 Figuren unten?



11) Wie viele Gruppen von 9 kannst du machen mit den 27 Figuren unten?

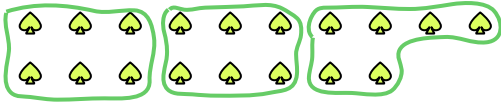


1. _____
2. _____
3. _____
4. _____
5. _____
6. _____
7. _____
8. _____
9. _____
10. _____
11. _____




Benutze die vorgegebenen Figuren zur Beantwortung der Fragen.

Bsp) Wie viele Gruppen von 6 kannst du machen mit den 18 Figuren unten?



1) Wie viele Gruppen von 6 kannst du machen mit den 24 Figuren unten?



Antworten
Bsp. 3

1. 4

2. 3

3. 3

4. 9

5. 5

6. 6

7. 3

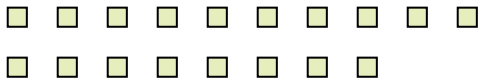
8. 11

9. 3

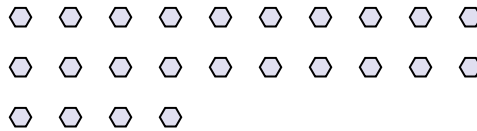
10. 2

11. 3

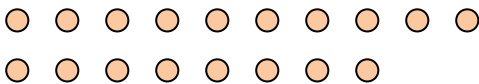
2) Wie viele Gruppen von 6 kannst du machen mit den 18 Figuren unten?



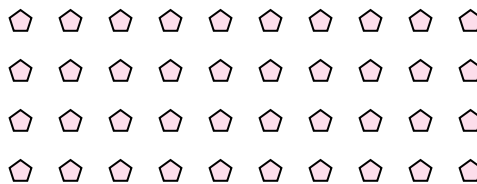
3) Wie viele Gruppen von 8 kannst du machen mit den 24 Figuren unten?




4) Wie viele Gruppen von 2 kannst du machen mit den 18 Figuren unten?



5) Wie viele Gruppen von 8 kannst du machen mit den 40 Figuren unten?




6) Wie viele Gruppen von 5 kannst du machen mit den 30 Figuren unten?



7) Wie viele Gruppen von 8 kannst du machen mit den 24 Figuren unten?



8) Wie viele Gruppen von 3 kannst du machen mit den 33 Figuren unten?



9) Wie viele Gruppen von 2 kannst du machen mit den 6 Figuren unten?



10) Wie viele Gruppen von 7 kannst du machen mit den 14 Figuren unten?



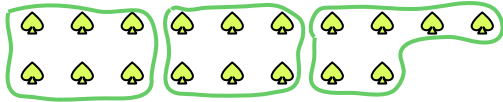
11) Wie viele Gruppen von 9 kannst du machen mit den 27 Figuren unten?






Benutze die vorgegebenen Figuren zur Beantwortung der Fragen.

Bsp) Wie viele Gruppen von 6 kannst du machen mit den 18 Figuren unten?



1) Wie viele Gruppen von 3 kannst du machen mit den 27 Figuren unten?



Antworten

Bsp. 3

1. _____

2. _____

3. _____

4. _____

5. _____

6. _____

7. _____

8. _____

9. _____

10. _____

11. _____

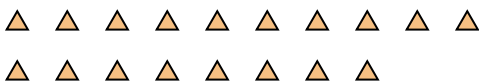
2) Wie viele Gruppen von 3 kannst du machen mit den 21 Figuren unten?




3) Wie viele Gruppen von 2 kannst du machen mit den 32 Figuren unten?



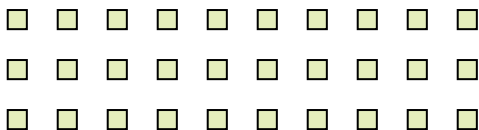
4) Wie viele Gruppen von 9 kannst du machen mit den 18 Figuren unten?




5) Wie viele Gruppen von 2 kannst du machen mit den 34 Figuren unten?



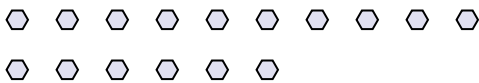
6) Wie viele Gruppen von 2 kannst du machen mit den 30 Figuren unten?



7) Wie viele Gruppen von 3 kannst du machen mit den 36 Figuren unten?



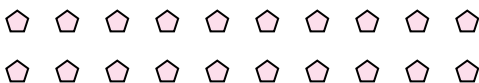
8) Wie viele Gruppen von 2 kannst du machen mit den 16 Figuren unten?



9) Wie viele Gruppen von 5 kannst du machen mit den 15 Figuren unten?



10) Wie viele Gruppen von 4 kannst du machen mit den 20 Figuren unten?



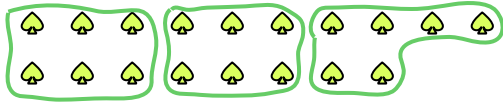
11) Wie viele Gruppen von 2 kannst du machen mit den 6 Figuren unten?






Benutze die vorgegebenen Figuren zur Beantwortung der Fragen.

Bsp) Wie viele Gruppen von 6 kannst du machen mit den 18 Figuren unten?



1) Wie viele Gruppen von 3 kannst du machen mit den 27 Figuren unten?



Antworten

Bsp. 3

1. 9

2. 7

3. 16

4. 2

5. 17

6. 15

7. 12

8. 8

9. 3

10. 5

11. 3

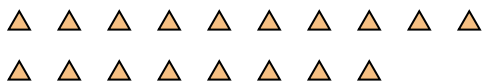
2) Wie viele Gruppen von 3 kannst du machen mit den 21 Figuren unten?




3) Wie viele Gruppen von 2 kannst du machen mit den 32 Figuren unten?



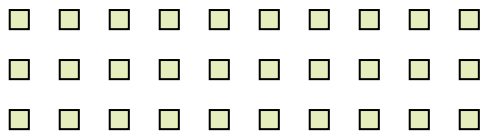
4) Wie viele Gruppen von 9 kannst du machen mit den 18 Figuren unten?




5) Wie viele Gruppen von 2 kannst du machen mit den 34 Figuren unten?



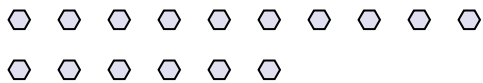
6) Wie viele Gruppen von 2 kannst du machen mit den 30 Figuren unten?



7) Wie viele Gruppen von 3 kannst du machen mit den 36 Figuren unten?



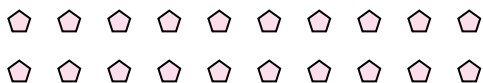
8) Wie viele Gruppen von 2 kannst du machen mit den 16 Figuren unten?



9) Wie viele Gruppen von 5 kannst du machen mit den 15 Figuren unten?



10) Wie viele Gruppen von 4 kannst du machen mit den 20 Figuren unten?




11) Wie viele Gruppen von 2 kannst du machen mit den 6 Figuren unten?





Benutze die vorgegebenen Figuren zur Beantwortung der Fragen.

Bsp) Wie viele Gruppen von 6 kannst du machen mit den 18 Figuren unten?



1) Wie viele Gruppen von 2 kannst du machen mit den 10 Figuren unten?



Antworten

Bsp. 3

1. _____

2. _____

3. _____

4. _____

5. _____

6. _____

7. _____

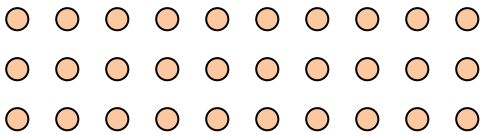
8. _____

9. _____

10. _____

11. _____

2) Wie viele Gruppen von 3 kannst du machen mit den 30 Figuren unten?



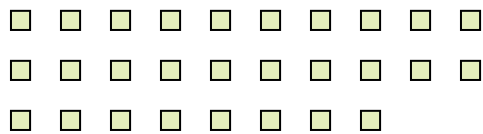
3) Wie viele Gruppen von 3 kannst du machen mit den 18 Figuren unten?




4) Wie viele Gruppen von 2 kannst du machen mit den 40 Figuren unten?



5) Wie viele Gruppen von 4 kannst du machen mit den 28 Figuren unten?



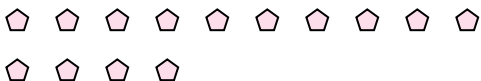
6) Wie viele Gruppen von 8 kannst du machen mit den 32 Figuren unten?



7) Wie viele Gruppen von 9 kannst du machen mit den 18 Figuren unten?



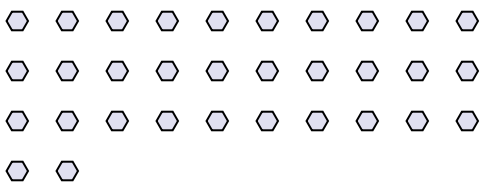
8) Wie viele Gruppen von 7 kannst du machen mit den 14 Figuren unten?



9) Wie viele Gruppen von 3 kannst du machen mit den 12 Figuren unten?



10) Wie viele Gruppen von 8 kannst du machen mit den 32 Figuren unten?



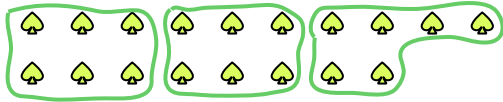
11) Wie viele Gruppen von 2 kannst du machen mit den 30 Figuren unten?





Benutze die vorgegebenen Figuren zur Beantwortung der Fragen.

Bsp) Wie viele Gruppen von 6 kannst du machen mit den 18 Figuren unten?



1) Wie viele Gruppen von 2 kannst du machen mit den 10 Figuren unten?



Antworten

Bsp. 3

1. 5

2. 10

3. 6

4. 20

5. 7

6. 4

7. 2

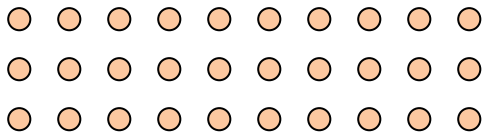
8. 2

9. 4

10. 4

11. 15

2) Wie viele Gruppen von 3 kannst du machen mit den 30 Figuren unten?



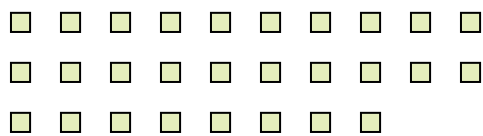
3) Wie viele Gruppen von 3 kannst du machen mit den 18 Figuren unten?




4) Wie viele Gruppen von 2 kannst du machen mit den 40 Figuren unten?




5) Wie viele Gruppen von 4 kannst du machen mit den 28 Figuren unten?



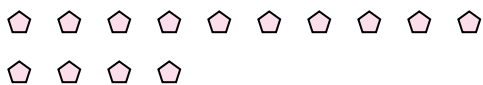
6) Wie viele Gruppen von 8 kannst du machen mit den 32 Figuren unten?



7) Wie viele Gruppen von 9 kannst du machen mit den 18 Figuren unten?




8) Wie viele Gruppen von 7 kannst du machen mit den 14 Figuren unten?



9) Wie viele Gruppen von 3 kannst du machen mit den 12 Figuren unten?



10) Wie viele Gruppen von 8 kannst du machen mit den 32 Figuren unten?



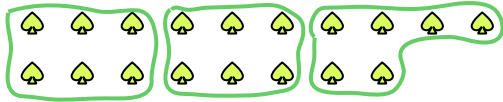
11) Wie viele Gruppen von 2 kannst du machen mit den 30 Figuren unten?



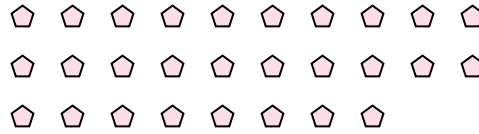


Benutze die vorgegebenen Figuren zur Beantwortung der Fragen.

Bsp) Wie viele Gruppen von 6 kannst du machen mit den 18 Figuren unten?



1) Wie viele Gruppen von 7 kannst du machen mit den 28 Figuren unten?



Antworten

Bsp. 3

1. _____

2. _____

3. _____

4. _____

5. _____

6. _____

7. _____

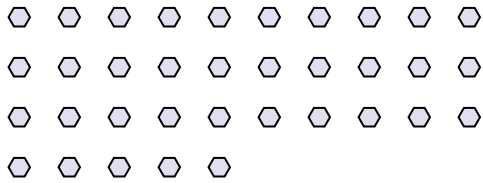
8. _____

9. _____


10. _____

11. _____


2) Wie viele Gruppen von 7 kannst du machen mit den 35 Figuren unten?




3) Wie viele Gruppen von 5 kannst du machen mit den 10 Figuren unten?



4) Wie viele Gruppen von 6 kannst du machen mit den 12 Figuren unten?



5) Wie viele Gruppen von 3 kannst du machen mit den 24 Figuren unten?




6) Wie viele Gruppen von 9 kannst du machen mit den 27 Figuren unten?



7) Wie viele Gruppen von 3 kannst du machen mit den 6 Figuren unten?



8) Wie viele Gruppen von 6 kannst du machen mit den 30 Figuren unten?




9) Wie viele Gruppen von 9 kannst du machen mit den 27 Figuren unten?



10) Wie viele Gruppen von 9 kannst du machen mit den 27 Figuren unten?




11) Wie viele Gruppen von 6 kannst du machen mit den 30 Figuren unten?



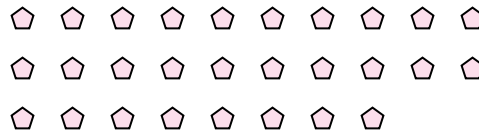


Benutze die vorgegebenen Figuren zur Beantwortung der Fragen.

Bsp) Wie viele Gruppen von 6 kannst du machen mit den 18 Figuren unten?



1) Wie viele Gruppen von 7 kannst du machen mit den 28 Figuren unten?



Antworten

Bsp. 3

1. 4

2. 5

3. 2

4. 2

5. 8

6. 3

7. 2

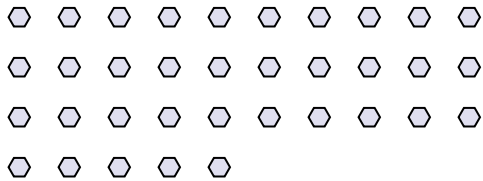
8. 5

9. 3

10. 3

11. 5


2) Wie viele Gruppen von 7 kannst du machen mit den 35 Figuren unten?




3) Wie viele Gruppen von 5 kannst du machen mit den 10 Figuren unten?




4) Wie viele Gruppen von 6 kannst du machen mit den 12 Figuren unten?



5) Wie viele Gruppen von 3 kannst du machen mit den 24 Figuren unten?




6) Wie viele Gruppen von 9 kannst du machen mit den 27 Figuren unten?



7) Wie viele Gruppen von 3 kannst du machen mit den 6 Figuren unten?



8) Wie viele Gruppen von 6 kannst du machen mit den 30 Figuren unten?




9) Wie viele Gruppen von 9 kannst du machen mit den 27 Figuren unten?



10) Wie viele Gruppen von 9 kannst du machen mit den 27 Figuren unten?



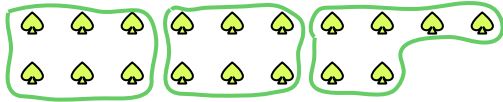
11) Wie viele Gruppen von 6 kannst du machen mit den 30 Figuren unten?






Benutze die vorgegebenen Figuren zur Beantwortung der Fragen.

Bsp) Wie viele Gruppen von 6 kannst du machen mit den 18 Figuren unten?



1) Wie viele Gruppen von 6 kannst du machen mit den 24 Figuren unten?



Antworten

Bsp. 3

1. _____

2. _____

3. _____

4. _____

5. _____

6. _____

7. _____

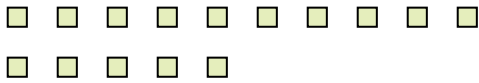
8. _____

9. _____

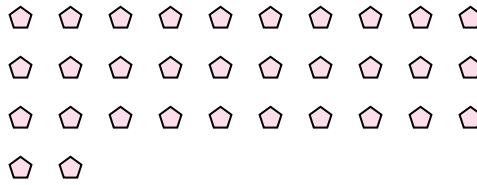
10. _____

11. _____


2) Wie viele Gruppen von 5 kannst du machen mit den 15 Figuren unten?




3) Wie viele Gruppen von 4 kannst du machen mit den 32 Figuren unten?



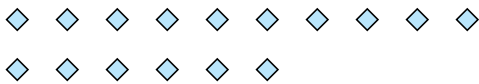
4) Wie viele Gruppen von 6 kannst du machen mit den 24 Figuren unten?



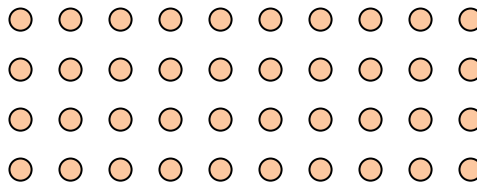
5) Wie viele Gruppen von 8 kannst du machen mit den 32 Figuren unten?



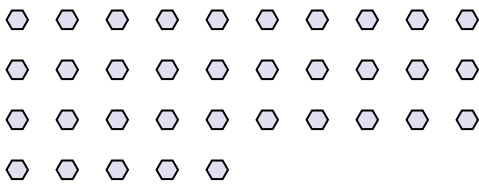
6) Wie viele Gruppen von 2 kannst du machen mit den 16 Figuren unten?



7) Wie viele Gruppen von 2 kannst du machen mit den 40 Figuren unten?




8) Wie viele Gruppen von 7 kannst du machen mit den 35 Figuren unten?



9) Wie viele Gruppen von 7 kannst du machen mit den 35 Figuren unten?



10) Wie viele Gruppen von 7 kannst du machen mit den 35 Figuren unten?




11) Wie viele Gruppen von 6 kannst du machen mit den 24 Figuren unten?






Benutze die vorgegebenen Figuren zur Beantwortung der Fragen.

Bsp) Wie viele Gruppen von 6 kannst du machen mit den 18 Figuren unten?



1) Wie viele Gruppen von 6 kannst du machen mit den 24 Figuren unten?



Antworten

Bsp. 3

1. 4

2. 3

3. 8

4. 4

5. 4

6. 8

7. 20

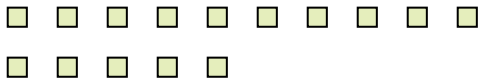
8. 5

9. 5

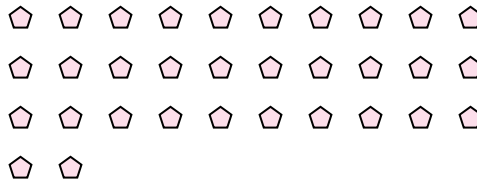
10. 5

11. 4


2) Wie viele Gruppen von 5 kannst du machen mit den 15 Figuren unten?




3) Wie viele Gruppen von 4 kannst du machen mit den 32 Figuren unten?



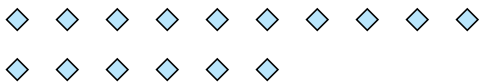
4) Wie viele Gruppen von 6 kannst du machen mit den 24 Figuren unten?



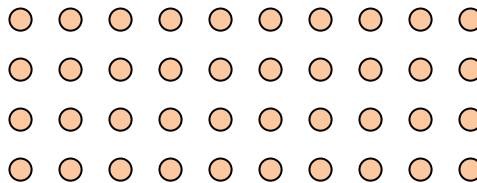
5) Wie viele Gruppen von 8 kannst du machen mit den 32 Figuren unten?



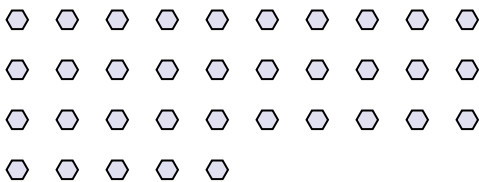
6) Wie viele Gruppen von 2 kannst du machen mit den 16 Figuren unten?



7) Wie viele Gruppen von 2 kannst du machen mit den 40 Figuren unten?




8) Wie viele Gruppen von 7 kannst du machen mit den 35 Figuren unten?



9) Wie viele Gruppen von 7 kannst du machen mit den 35 Figuren unten?



10) Wie viele Gruppen von 7 kannst du machen mit den 35 Figuren unten?



11) Wie viele Gruppen von 6 kannst du machen mit den 24 Figuren unten?

