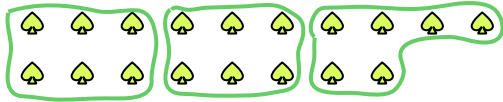


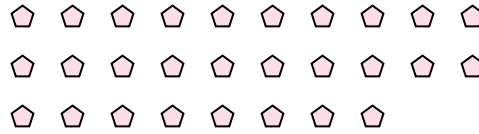


Benutze die vorgegebenen Figuren zur Beantwortung der Fragen.

Bsp) Wie viele Gruppen von 6 kannst du machen mit den 18 Figuren unten?



1) Wie viele Gruppen von 7 kannst du machen mit den 28 Figuren unten?



Antworten

Bsp. 3

1. _____

2. _____

3. _____

4. _____

5. _____

6. _____

7. _____

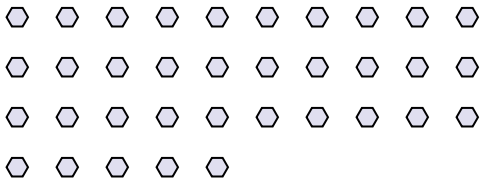
8. _____

9. _____


10. _____

11. _____


2) Wie viele Gruppen von 7 kannst du machen mit den 35 Figuren unten?




3) Wie viele Gruppen von 5 kannst du machen mit den 10 Figuren unten?




4) Wie viele Gruppen von 6 kannst du machen mit den 12 Figuren unten?



5) Wie viele Gruppen von 3 kannst du machen mit den 24 Figuren unten?




6) Wie viele Gruppen von 9 kannst du machen mit den 27 Figuren unten?



7) Wie viele Gruppen von 3 kannst du machen mit den 6 Figuren unten?



8) Wie viele Gruppen von 6 kannst du machen mit den 30 Figuren unten?




9) Wie viele Gruppen von 9 kannst du machen mit den 27 Figuren unten?



10) Wie viele Gruppen von 9 kannst du machen mit den 27 Figuren unten?




11) Wie viele Gruppen von 6 kannst du machen mit den 30 Figuren unten?



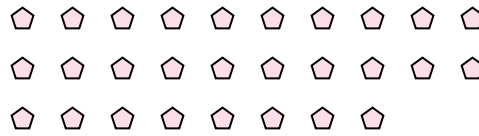


Benutze die vorgegebenen Figuren zur Beantwortung der Fragen.

Bsp) Wie viele Gruppen von 6 kannst du machen mit den 18 Figuren unten?



1) Wie viele Gruppen von 7 kannst du machen mit den 28 Figuren unten?



Antworten

Bsp. 3

1. 4

2. 5

3. 2

4. 2

5. 8

6. 3

7. 2

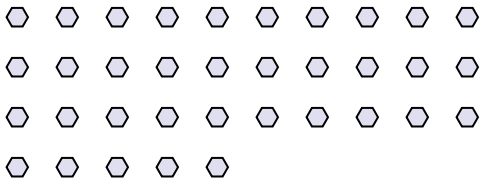
8. 5

9. 3


10. 3

11. 5


2) Wie viele Gruppen von 7 kannst du machen mit den 35 Figuren unten?




3) Wie viele Gruppen von 5 kannst du machen mit den 10 Figuren unten?




4) Wie viele Gruppen von 6 kannst du machen mit den 12 Figuren unten?



5) Wie viele Gruppen von 3 kannst du machen mit den 24 Figuren unten?




6) Wie viele Gruppen von 9 kannst du machen mit den 27 Figuren unten?



7) Wie viele Gruppen von 3 kannst du machen mit den 6 Figuren unten?



8) Wie viele Gruppen von 6 kannst du machen mit den 30 Figuren unten?



9) Wie viele Gruppen von 9 kannst du machen mit den 27 Figuren unten?



10) Wie viele Gruppen von 9 kannst du machen mit den 27 Figuren unten?



11) Wie viele Gruppen von 6 kannst du machen mit den 30 Figuren unten?

