




Benutze die vorgegebenen Figuren zur Beantwortung der Fragen.

Bsp) Wie viele Gruppen von 6 kannst du machen mit den 18 Figuren unten?



1) Wie viele Gruppen von 2 kannst du machen mit den 10 Figuren unten?



Antworten

Bsp. 3

1. \_\_\_\_\_

2. \_\_\_\_\_

3. \_\_\_\_\_

4. \_\_\_\_\_

5. \_\_\_\_\_

6. \_\_\_\_\_

7. \_\_\_\_\_

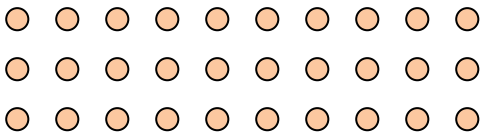
8. \_\_\_\_\_

9. \_\_\_\_\_

10. \_\_\_\_\_

11. \_\_\_\_\_

2) Wie viele Gruppen von 3 kannst du machen mit den 30 Figuren unten?



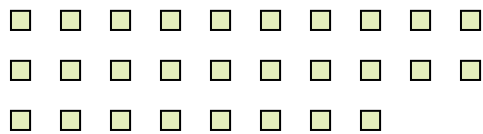
3) Wie viele Gruppen von 3 kannst du machen mit den 18 Figuren unten?




4) Wie viele Gruppen von 2 kannst du machen mit den 40 Figuren unten?



5) Wie viele Gruppen von 4 kannst du machen mit den 28 Figuren unten?



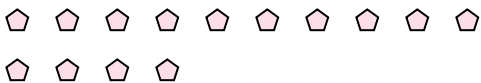
6) Wie viele Gruppen von 8 kannst du machen mit den 32 Figuren unten?



7) Wie viele Gruppen von 9 kannst du machen mit den 18 Figuren unten?



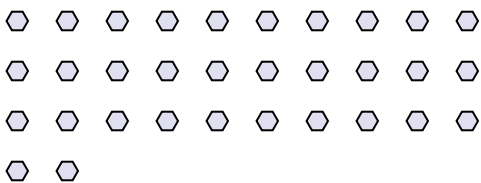
8) Wie viele Gruppen von 7 kannst du machen mit den 14 Figuren unten?



9) Wie viele Gruppen von 3 kannst du machen mit den 12 Figuren unten?



10) Wie viele Gruppen von 8 kannst du machen mit den 32 Figuren unten?




11) Wie viele Gruppen von 2 kannst du machen mit den 30 Figuren unten?





Benutze die vorgegebenen Figuren zur Beantwortung der Fragen.

Bsp) Wie viele Gruppen von 6 kannst du machen mit den 18 Figuren unten?



1) Wie viele Gruppen von 2 kannst du machen mit den 10 Figuren unten?



Antworten

Bsp. 3

1. 5

2. 10

3. 6

4. 20

5. 7

6. 4

7. 2

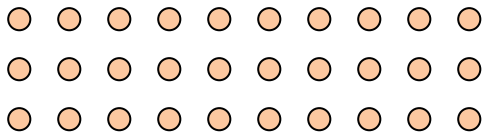
8. 2

9. 4

10. 4

11. 15

2) Wie viele Gruppen von 3 kannst du machen mit den 30 Figuren unten?



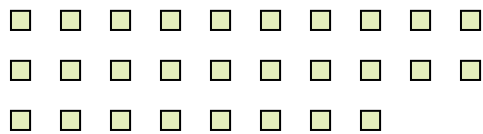
3) Wie viele Gruppen von 3 kannst du machen mit den 18 Figuren unten?




4) Wie viele Gruppen von 2 kannst du machen mit den 40 Figuren unten?



5) Wie viele Gruppen von 4 kannst du machen mit den 28 Figuren unten?



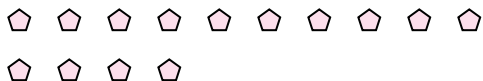
6) Wie viele Gruppen von 8 kannst du machen mit den 32 Figuren unten?



7) Wie viele Gruppen von 9 kannst du machen mit den 18 Figuren unten?



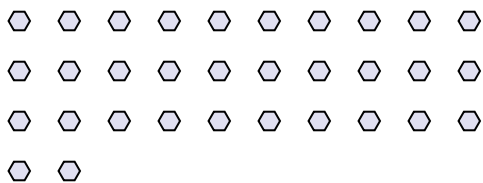
8) Wie viele Gruppen von 7 kannst du machen mit den 14 Figuren unten?



9) Wie viele Gruppen von 3 kannst du machen mit den 12 Figuren unten?



10) Wie viele Gruppen von 8 kannst du machen mit den 32 Figuren unten?



11) Wie viele Gruppen von 2 kannst du machen mit den 30 Figuren unten?

