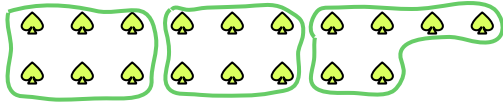


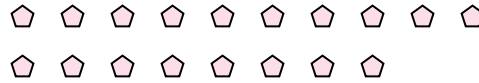


Benutze die vorgegebenen Figuren zur Beantwortung der Fragen.

Bsp) Wie viele Gruppen von 6 kannst du machen mit den 18 Figuren unten?




1) Wie viele Gruppen von 9 kannst du machen mit den 18 Figuren unten?



Antworten

Bsp. 3

2) Wie viele Gruppen von 2 kannst du machen mit den 24 Figuren unten?



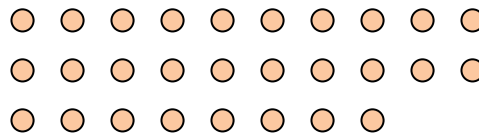
3) Wie viele Gruppen von 9 kannst du machen mit den 27 Figuren unten?




4) Wie viele Gruppen von 3 kannst du machen mit den 15 Figuren unten?



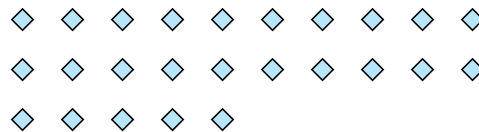
5) Wie viele Gruppen von 7 kannst du machen mit den 28 Figuren unten?



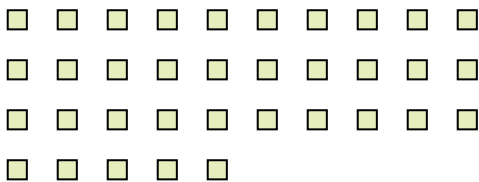
6) Wie viele Gruppen von 9 kannst du machen mit den 36 Figuren unten?



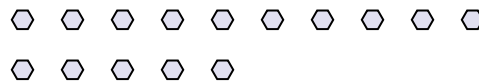
7) Wie viele Gruppen von 5 kannst du machen mit den 25 Figuren unten?



8) Wie viele Gruppen von 7 kannst du machen mit den 35 Figuren unten?



9) Wie viele Gruppen von 5 kannst du machen mit den 15 Figuren unten?



10) Wie viele Gruppen von 4 kannst du machen mit den 16 Figuren unten?



11) Wie viele Gruppen von 5 kannst du machen mit den 30 Figuren unten?

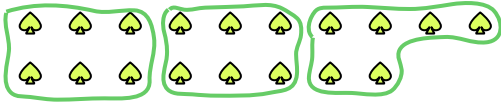


- 1. \_\_\_\_\_
- 2. \_\_\_\_\_
- 3. \_\_\_\_\_
- 4. \_\_\_\_\_
- 5. \_\_\_\_\_
- 6. \_\_\_\_\_
- 7. \_\_\_\_\_
- 8. \_\_\_\_\_
- 9. \_\_\_\_\_
- 10. \_\_\_\_\_
- 11. \_\_\_\_\_

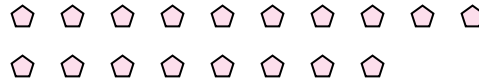


Benutze die vorgegebenen Figuren zur Beantwortung der Fragen.

Bsp) Wie viele Gruppen von 6 kannst du machen mit den 18 Figuren unten?



1) Wie viele Gruppen von 9 kannst du machen mit den 18 Figuren unten?



Antworten

Bsp. 3

1. 2

2. 12

3. 3

4. 5

5. 4

6. 4

7. 5


8. 5

9. 3

10. 4

11. 6

2) Wie viele Gruppen von 2 kannst du machen mit den 24 Figuren unten?



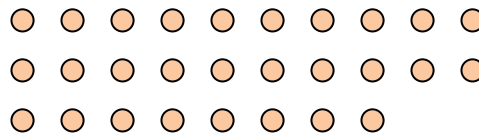
3) Wie viele Gruppen von 9 kannst du machen mit den 27 Figuren unten?




4) Wie viele Gruppen von 3 kannst du machen mit den 15 Figuren unten?



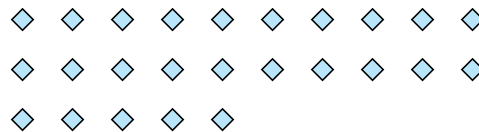
5) Wie viele Gruppen von 7 kannst du machen mit den 28 Figuren unten?



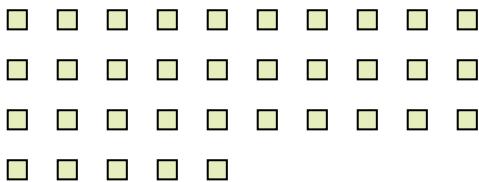
6) Wie viele Gruppen von 9 kannst du machen mit den 36 Figuren unten?



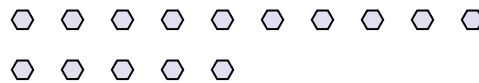
7) Wie viele Gruppen von 5 kannst du machen mit den 25 Figuren unten?



8) Wie viele Gruppen von 7 kannst du machen mit den 35 Figuren unten?



9) Wie viele Gruppen von 5 kannst du machen mit den 15 Figuren unten?



10) Wie viele Gruppen von 4 kannst du machen mit den 16 Figuren unten?



11) Wie viele Gruppen von 5 kannst du machen mit den 30 Figuren unten?

