




Benutze die vorgegebenen Figuren zur Beantwortung der Fragen.

Bsp) Wie viele Gruppen von 6 kannst du machen mit den 18 Figuren unten?



1) Wie viele Gruppen von 5 kannst du machen mit den 10 Figuren unten?



Antworten

Bsp. 3

1. \_\_\_\_\_

2. \_\_\_\_\_

3. \_\_\_\_\_

4. \_\_\_\_\_

5. \_\_\_\_\_

6. \_\_\_\_\_

7. \_\_\_\_\_

8. \_\_\_\_\_

9. \_\_\_\_\_

10. \_\_\_\_\_

11. \_\_\_\_\_

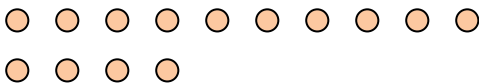
2) Wie viele Gruppen von 7 kannst du machen mit den 21 Figuren unten?



3) Wie viele Gruppen von 3 kannst du machen mit den 18 Figuren unten?



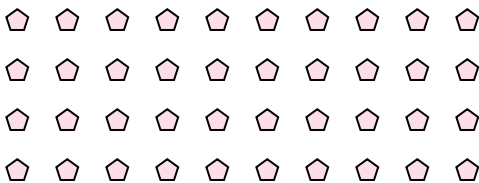
4) Wie viele Gruppen von 7 kannst du machen mit den 14 Figuren unten?



5) Wie viele Gruppen von 4 kannst du machen mit den 24 Figuren unten?



6) Wie viele Gruppen von 8 kannst du machen mit den 40 Figuren unten?



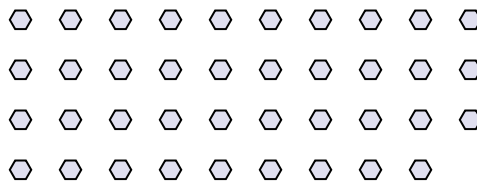
7) Wie viele Gruppen von 2 kannst du machen mit den 12 Figuren unten?



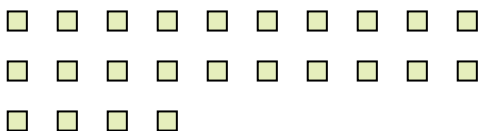
8) Wie viele Gruppen von 2 kannst du machen mit den 16 Figuren unten?




9) Wie viele Gruppen von 3 kannst du machen mit den 39 Figuren unten?



10) Wie viele Gruppen von 8 kannst du machen mit den 24 Figuren unten?




11) Wie viele Gruppen von 9 kannst du machen mit den 27 Figuren unten?





Benutze die vorgegebenen Figuren zur Beantwortung der Fragen.

Bsp) Wie viele Gruppen von 6 kannst du machen mit den 18 Figuren unten?



1) Wie viele Gruppen von 5 kannst du machen mit den 10 Figuren unten?



| <u>Antworten</u> |           |
|------------------|-----------|
| Bsp.             | <u>3</u>  |
| 1.               | <u>2</u>  |
| 2.               | <u>3</u>  |
| 3.               | <u>6</u>  |
| 4.               | <u>2</u>  |
| 5.               | <u>6</u>  |
| 6.               | <u>5</u>  |
| 7.               | <u>6</u>  |
| 8.               | <u>8</u>  |
| 9.               | <u>13</u> |
| 10.              | <u>3</u>  |
| 11.              | <u>3</u>  |

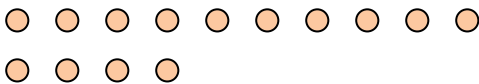
2) Wie viele Gruppen von 7 kannst du machen mit den 21 Figuren unten?



3) Wie viele Gruppen von 3 kannst du machen mit den 18 Figuren unten?



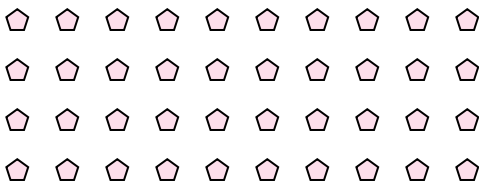
4) Wie viele Gruppen von 7 kannst du machen mit den 14 Figuren unten?



5) Wie viele Gruppen von 4 kannst du machen mit den 24 Figuren unten?



6) Wie viele Gruppen von 8 kannst du machen mit den 40 Figuren unten?



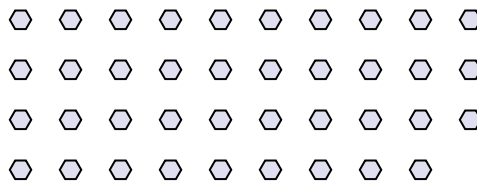
7) Wie viele Gruppen von 2 kannst du machen mit den 12 Figuren unten?



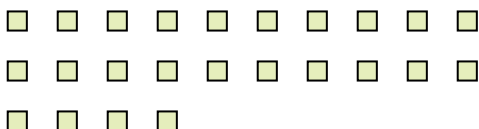
8) Wie viele Gruppen von 2 kannst du machen mit den 16 Figuren unten?



9) Wie viele Gruppen von 3 kannst du machen mit den 39 Figuren unten?



10) Wie viele Gruppen von 8 kannst du machen mit den 24 Figuren unten?



11) Wie viele Gruppen von 9 kannst du machen mit den 27 Figuren unten?

