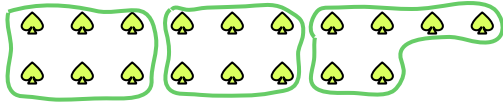





Benutze die vorgegebenen Figuren zur Beantwortung der Fragen.

Bsp) Wie viele Gruppen von 6 kannst du machen mit den 18 Figuren unten?



1) Wie viele Gruppen von 4 kannst du machen mit den 40 Figuren unten?



Antworten

Bsp. 3

1. _____

2. _____

3. _____

4. _____

5. _____

6. _____

7. _____

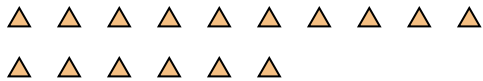
8. _____

9. _____

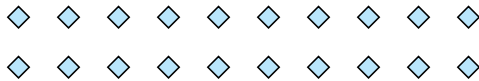
10. _____

11. _____


2) Wie viele Gruppen von 4 kannst du machen mit den 16 Figuren unten?



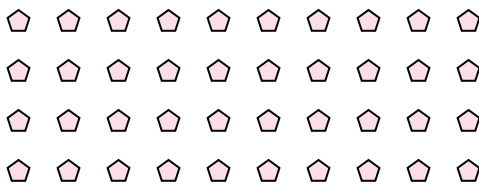
3) Wie viele Gruppen von 4 kannst du machen mit den 20 Figuren unten?




4) Wie viele Gruppen von 9 kannst du machen mit den 36 Figuren unten?



5) Wie viele Gruppen von 5 kannst du machen mit den 40 Figuren unten?




6) Wie viele Gruppen von 8 kannst du machen mit den 24 Figuren unten?



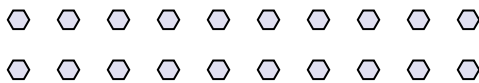
7) Wie viele Gruppen von 6 kannst du machen mit den 18 Figuren unten?



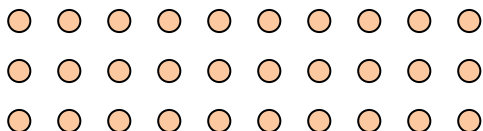
8) Wie viele Gruppen von 5 kannst du machen mit den 35 Figuren unten?



9) Wie viele Gruppen von 2 kannst du machen mit den 20 Figuren unten?



10) Wie viele Gruppen von 2 kannst du machen mit den 30 Figuren unten?



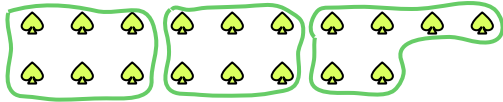
11) Wie viele Gruppen von 2 kannst du machen mit den 10 Figuren unten?






Benutze die vorgegebenen Figuren zur Beantwortung der Fragen.

Bsp) Wie viele Gruppen von 6 kannst du machen mit den 18 Figuren unten?



1) Wie viele Gruppen von 4 kannst du machen mit den 40 Figuren unten?



Antworten

Bsp. 3

1. 10

2. 4

3. 5

4. 4

5. 8

6. 3

7. 3

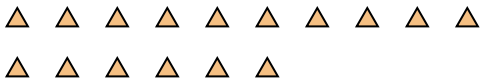
8. 7

9. 10

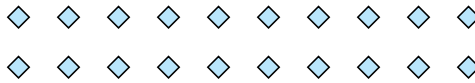
10. 15

11. 5


2) Wie viele Gruppen von 4 kannst du machen mit den 16 Figuren unten?



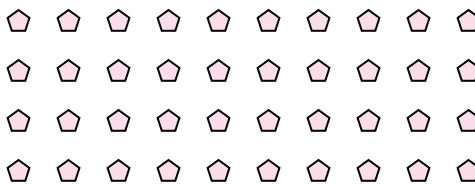
3) Wie viele Gruppen von 4 kannst du machen mit den 20 Figuren unten?




4) Wie viele Gruppen von 9 kannst du machen mit den 36 Figuren unten?



5) Wie viele Gruppen von 5 kannst du machen mit den 40 Figuren unten?




6) Wie viele Gruppen von 8 kannst du machen mit den 24 Figuren unten?



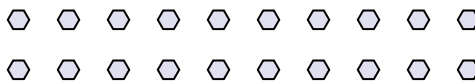
7) Wie viele Gruppen von 6 kannst du machen mit den 18 Figuren unten?



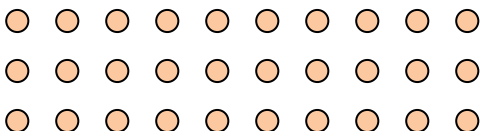
8) Wie viele Gruppen von 5 kannst du machen mit den 35 Figuren unten?



9) Wie viele Gruppen von 2 kannst du machen mit den 20 Figuren unten?



10) Wie viele Gruppen von 2 kannst du machen mit den 30 Figuren unten?



11) Wie viele Gruppen von 2 kannst du machen mit den 10 Figuren unten?

