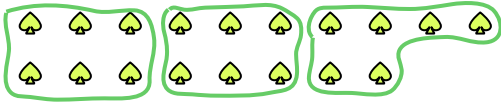


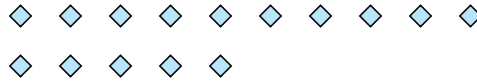


Benutze die vorgegebenen Figuren zur Beantwortung der Fragen.

Bsp) Wie viele Gruppen von 6 kannst du machen mit den 18 Figuren unten?



1) Wie viele Gruppen von 5 kannst du machen mit den 15 Figuren unten?



Antworten

Bsp. 3

1. _____

2. _____

3. _____

4. _____

5. _____

6. _____

7. _____

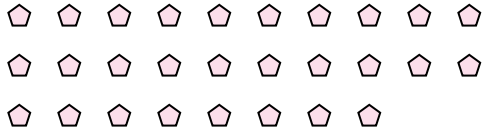
8. _____

9. _____

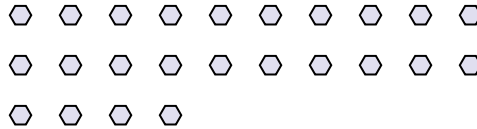
10. _____

11. _____

2) Wie viele Gruppen von 7 kannst du machen mit den 28 Figuren unten?



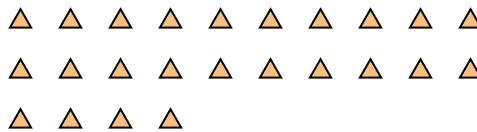
3) Wie viele Gruppen von 3 kannst du machen mit den 24 Figuren unten?



4) Wie viele Gruppen von 2 kannst du machen mit den 8 Figuren unten?



5) Wie viele Gruppen von 6 kannst du machen mit den 24 Figuren unten?



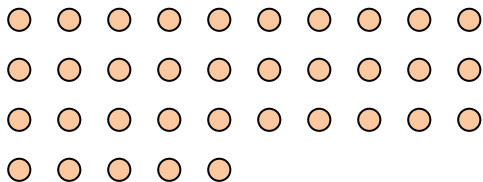
6) Wie viele Gruppen von 8 kannst du machen mit den 40 Figuren unten?




7) Wie viele Gruppen von 5 kannst du machen mit den 10 Figuren unten?



8) Wie viele Gruppen von 7 kannst du machen mit den 35 Figuren unten?



9) Wie viele Gruppen von 7 kannst du machen mit den 21 Figuren unten?



10) Wie viele Gruppen von 4 kannst du machen mit den 16 Figuren unten?



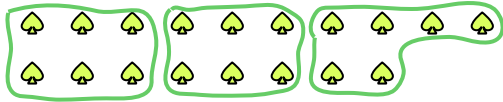
11) Wie viele Gruppen von 3 kannst du machen mit den 9 Figuren unten?



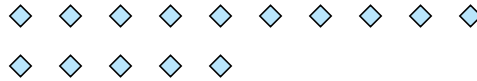


Benutze die vorgegebenen Figuren zur Beantwortung der Fragen.

Bsp) Wie viele Gruppen von 6 kannst du machen mit den 18 Figuren unten?



1) Wie viele Gruppen von 5 kannst du machen mit den 15 Figuren unten?



Antworten

Bsp. 3

1. 3

2. 4

3. 8

4. 4

5. 4

6. 5

7. 2

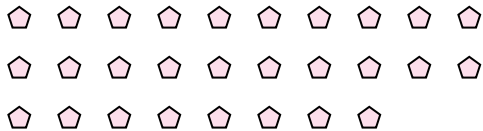
8. 5

9. 3

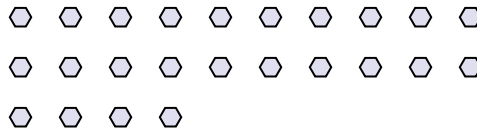
10. 4

11. 3

2) Wie viele Gruppen von 7 kannst du machen mit den 28 Figuren unten?



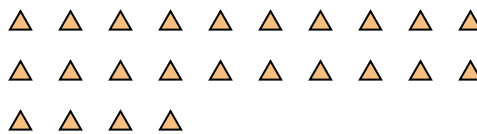
3) Wie viele Gruppen von 3 kannst du machen mit den 24 Figuren unten?



4) Wie viele Gruppen von 2 kannst du machen mit den 8 Figuren unten?



5) Wie viele Gruppen von 6 kannst du machen mit den 24 Figuren unten?



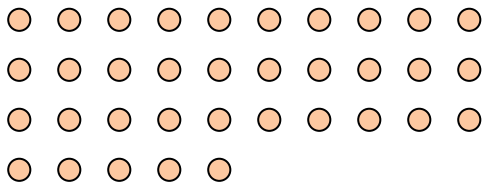
6) Wie viele Gruppen von 8 kannst du machen mit den 40 Figuren unten?




7) Wie viele Gruppen von 5 kannst du machen mit den 10 Figuren unten?



8) Wie viele Gruppen von 7 kannst du machen mit den 35 Figuren unten?



9) Wie viele Gruppen von 7 kannst du machen mit den 21 Figuren unten?



10) Wie viele Gruppen von 4 kannst du machen mit den 16 Figuren unten?



11) Wie viele Gruppen von 3 kannst du machen mit den 9 Figuren unten?

