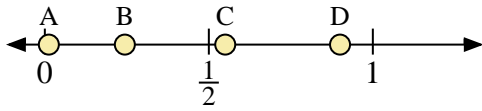
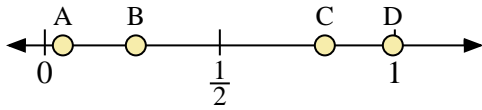




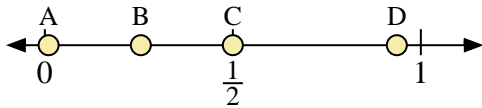
Benutze den Zahlenstrahl um die Lösung zu ermitteln.



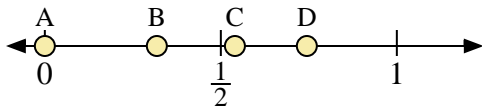
- 1) Welcher Buchstabe stellt die richtige Lage von 0,90 dar?
- 2) Welcher Buchstabe stellt die richtige Lage von 0,55 dar?



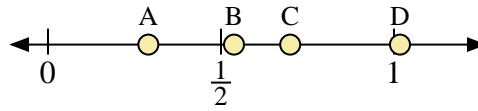
- 5) Welcher Buchstabe stellt die richtige Lage von 0,80 dar?
- 6) Welcher Buchstabe stellt die richtige Lage von 0,26 dar?



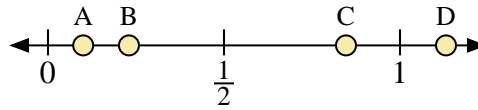
- 9) Welcher Buchstabe stellt die richtige Lage von 0,50 dar?
- 10) Welcher Buchstabe stellt die richtige Lage von 0,01 dar?



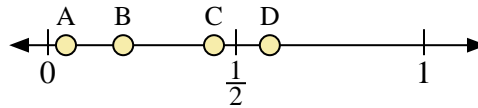
- 13) Welcher Buchstabe stellt die richtige Lage von 0,0 dar?
- 14) Welcher Buchstabe stellt die richtige Lage von 0,54 dar?



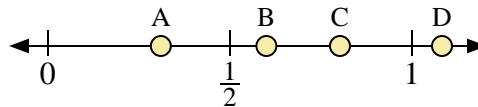
- 3) Welcher Buchstabe stellt die richtige Lage von 0,70 dar?
- 4) Welcher Buchstabe stellt die richtige Lage von 0,29 dar?



- 7) Welcher Buchstabe stellt die richtige Lage von 0,1 dar?
- 8) Welcher Buchstabe stellt die richtige Lage von 0,23 dar?



- 11) Welcher Buchstabe stellt die richtige Lage von 0,20 dar?
- 12) Welcher Buchstabe stellt die richtige Lage von 0,59 dar?



- 15) Welcher Buchstabe stellt die richtige Lage von 0,6 dar?
- 16) Welcher Buchstabe stellt die richtige Lage von 0,31 dar?

Antworten

1. _____

2. _____

3. _____

4. _____

5. _____

6. _____

7. _____

8. _____

9. _____

10. _____

11. _____

12. _____

13. _____

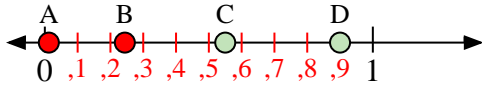
14. _____

15. _____

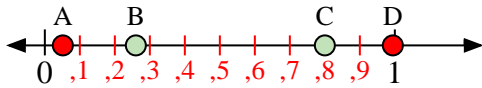
16. _____



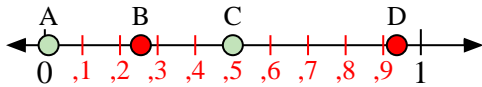
Benutze den Zahlenstrahl um die Lösung zu ermitteln.



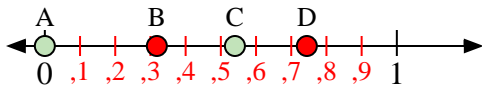
- 1) Welcher Buchstabe stellt die richtige Lage von 0,90 dar?
- 2) Welcher Buchstabe stellt die richtige Lage von 0,55 dar?



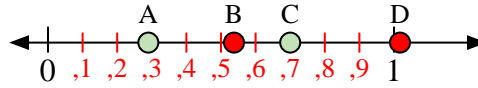
- 5) Welcher Buchstabe stellt die richtige Lage von 0,80 dar?
- 6) Welcher Buchstabe stellt die richtige Lage von 0,26 dar?



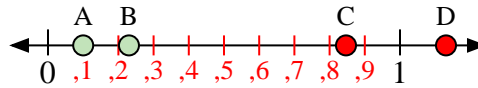
- 9) Welcher Buchstabe stellt die richtige Lage von 0,50 dar?
- 10) Welcher Buchstabe stellt die richtige Lage von 0,01 dar?



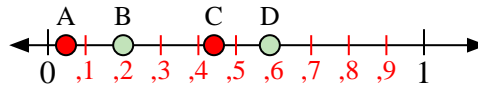
- 13) Welcher Buchstabe stellt die richtige Lage von 0,0 dar?
- 14) Welcher Buchstabe stellt die richtige Lage von 0,54 dar?



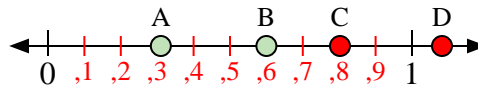
- 3) Welcher Buchstabe stellt die richtige Lage von 0,70 dar?
- 4) Welcher Buchstabe stellt die richtige Lage von 0,29 dar?



- 7) Welcher Buchstabe stellt die richtige Lage von 0,1 dar?
- 8) Welcher Buchstabe stellt die richtige Lage von 0,23 dar?



- 11) Welcher Buchstabe stellt die richtige Lage von 0,20 dar?
- 12) Welcher Buchstabe stellt die richtige Lage von 0,59 dar?



- 15) Welcher Buchstabe stellt die richtige Lage von 0,6 dar?
- 16) Welcher Buchstabe stellt die richtige Lage von 0,31 dar?

Antworten

1. D
2. C
3. C
4. A
5. C
6. B
7. A
8. B
9. C
10. A
11. B
12. D
13. A
14. C
15. B
16. A