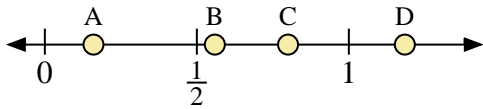
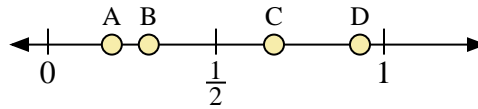




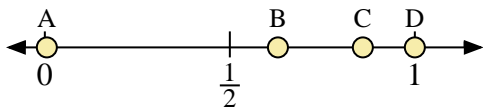
Benutze den Zahlenstrahl um die Lösung zu ermitteln.



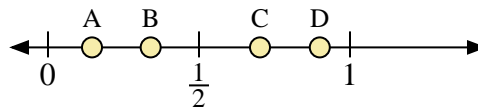
- 1) Welcher Buchstabe stellt die richtige Lage von 0,80 dar?
- 2) Welcher Buchstabe stellt die richtige Lage von 0,16 dar?



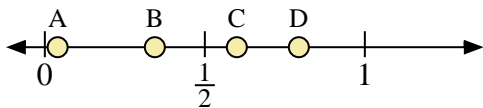
- 3) Welcher Buchstabe stellt die richtige Lage von 0,3 dar?
- 4) Welcher Buchstabe stellt die richtige Lage von 0,19 dar?



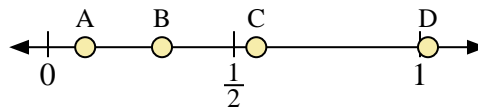
- 5) Welcher Buchstabe stellt die richtige Lage von 1,0 dar?
- 6) Welcher Buchstabe stellt die richtige Lage von 0,63 dar?



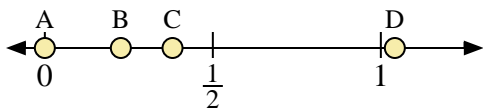
- 7) Welcher Buchstabe stellt die richtige Lage von 0,9 dar?
- 8) Welcher Buchstabe stellt die richtige Lage von 0,34 dar?



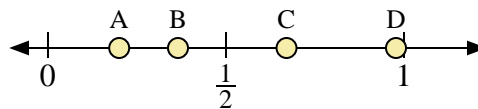
- 9) Welcher Buchstabe stellt die richtige Lage von 0,60 dar?
- 10) Welcher Buchstabe stellt die richtige Lage von 0,04 dar?



- 11) Welcher Buchstabe stellt die richtige Lage von 0,1 dar?
- 12) Welcher Buchstabe stellt die richtige Lage von 0,56 dar?



- 13) Welcher Buchstabe stellt die richtige Lage von 0,0 dar?
- 14) Welcher Buchstabe stellt die richtige Lage von 0,38 dar?



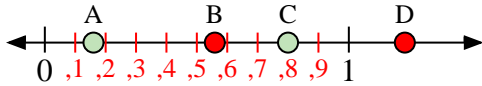
- 15) Welcher Buchstabe stellt die richtige Lage von 0,2 dar?
- 16) Welcher Buchstabe stellt die richtige Lage von 0,67 dar?

Antworten

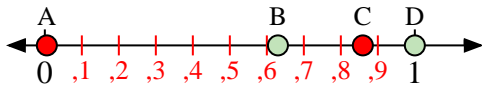
1. _____
2. _____
3. _____
4. _____
5. _____
6. _____
7. _____
8. _____
9. _____
10. _____
11. _____
12. _____
13. _____
14. _____
15. _____
16. _____



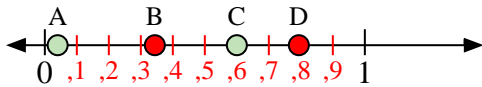
Benutze den Zahlenstrahl um die Lösung zu ermitteln.



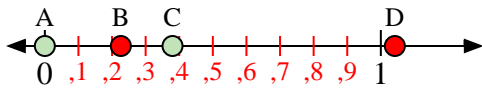
- 1) Welcher Buchstabe stellt die richtige Lage von 0,80 dar?
- 2) Welcher Buchstabe stellt die richtige Lage von 0,16 dar?



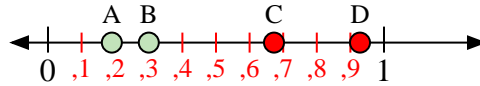
- 5) Welcher Buchstabe stellt die richtige Lage von 1,0 dar?
- 6) Welcher Buchstabe stellt die richtige Lage von 0,63 dar?



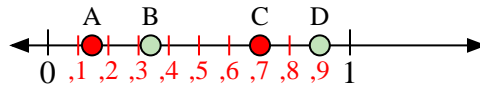
- 9) Welcher Buchstabe stellt die richtige Lage von 0,60 dar?
- 10) Welcher Buchstabe stellt die richtige Lage von 0,04 dar?



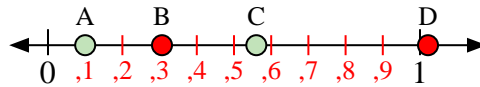
- 13) Welcher Buchstabe stellt die richtige Lage von 0,0 dar?
- 14) Welcher Buchstabe stellt die richtige Lage von 0,38 dar?



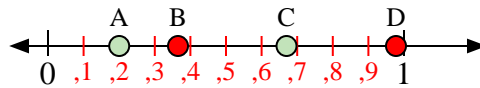
- 3) Welcher Buchstabe stellt die richtige Lage von 0,3 dar?
- 4) Welcher Buchstabe stellt die richtige Lage von 0,19 dar?



- 7) Welcher Buchstabe stellt die richtige Lage von 0,9 dar?
- 8) Welcher Buchstabe stellt die richtige Lage von 0,34 dar?



- 11) Welcher Buchstabe stellt die richtige Lage von 0,1 dar?
- 12) Welcher Buchstabe stellt die richtige Lage von 0,56 dar?



- 15) Welcher Buchstabe stellt die richtige Lage von 0,2 dar?
- 16) Welcher Buchstabe stellt die richtige Lage von 0,67 dar?

Antworten

1. **C**
2. **A**
3. **B**
4. **A**
5. **D**
6. **B**
7. **D**
8. **B**
9. **C**
10. **A**
11. **A**
12. **C**
13. **A**
14. **C**
15. **A**
16. **C**