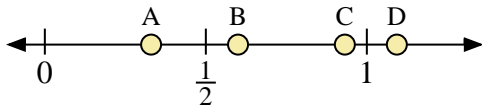
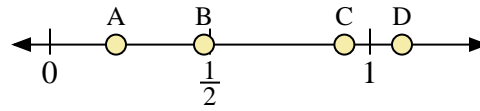




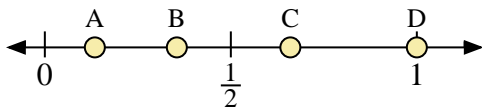
Benutze den Zahlenstrahl um die Lösung zu ermitteln.



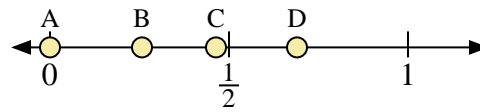
- 1) Welcher Buchstabe stellt die richtige Lage von 0,6 dar?
- 2) Welcher Buchstabe stellt die richtige Lage von 0,33 dar?



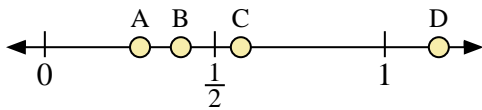
- 3) Welcher Buchstabe stellt die richtige Lage von 1,1 dar?
- 4) Welcher Buchstabe stellt die richtige Lage von 0,92 dar?



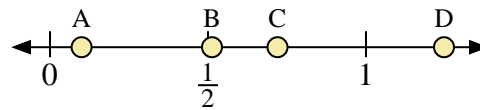
- 5) Welcher Buchstabe stellt die richtige Lage von 1,0 dar?
- 6) Welcher Buchstabe stellt die richtige Lage von 0,66 dar?



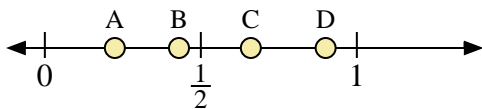
- 7) Welcher Buchstabe stellt die richtige Lage von 0,0 dar?
- 8) Welcher Buchstabe stellt die richtige Lage von 0,69 dar?



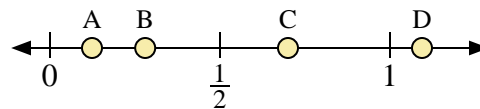
- 9) Welcher Buchstabe stellt die richtige Lage von 0,4 dar?
- 10) Welcher Buchstabe stellt die richtige Lage von 0,28 dar?



- 11) Welcher Buchstabe stellt die richtige Lage von 0,1 dar?
- 12) Welcher Buchstabe stellt die richtige Lage von 0,72 dar?



- 13) Welcher Buchstabe stellt die richtige Lage von 0,9 dar?
- 14) Welcher Buchstabe stellt die richtige Lage von 0,43 dar?



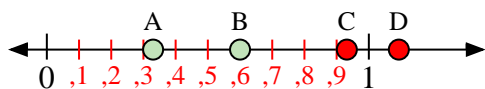
- 15) Welcher Buchstabe stellt die richtige Lage von 0,70 dar?
- 16) Welcher Buchstabe stellt die richtige Lage von 0,28 dar?

Antworten

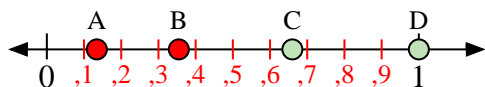
1. _____
2. _____
3. _____
4. _____
5. _____
6. _____
7. _____
8. _____
9. _____
10. _____
11. _____
12. _____
13. _____
14. _____
15. _____
16. _____



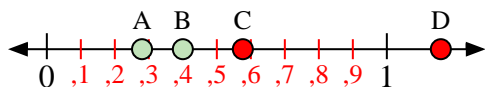
Benutze den Zahlenstrahl um die Lösung zu ermitteln.



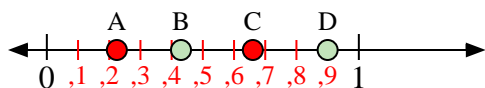
- 1) Welcher Buchstabe stellt die richtige Lage von 0,6 dar?
- 2) Welcher Buchstabe stellt die richtige Lage von 0,33 dar?



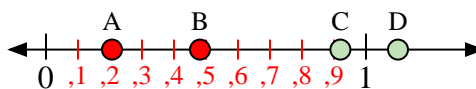
- 5) Welcher Buchstabe stellt die richtige Lage von 1,0 dar?
- 6) Welcher Buchstabe stellt die richtige Lage von 0,66 dar?



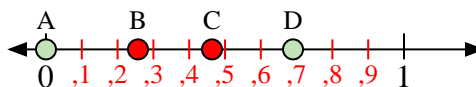
- 9) Welcher Buchstabe stellt die richtige Lage von 0,4 dar?
- 10) Welcher Buchstabe stellt die richtige Lage von 0,28 dar?



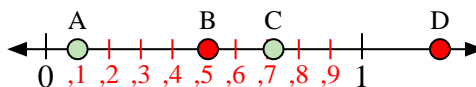
- 13) Welcher Buchstabe stellt die richtige Lage von 0,9 dar?
- 14) Welcher Buchstabe stellt die richtige Lage von 0,43 dar?



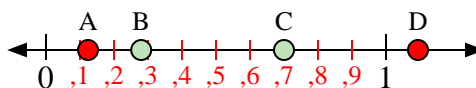
- 3) Welcher Buchstabe stellt die richtige Lage von 1,1 dar?
- 4) Welcher Buchstabe stellt die richtige Lage von 0,92 dar?



- 7) Welcher Buchstabe stellt die richtige Lage von 0,0 dar?
- 8) Welcher Buchstabe stellt die richtige Lage von 0,69 dar?



- 11) Welcher Buchstabe stellt die richtige Lage von 0,1 dar?
- 12) Welcher Buchstabe stellt die richtige Lage von 0,72 dar?



- 15) Welcher Buchstabe stellt die richtige Lage von 0,70 dar?
- 16) Welcher Buchstabe stellt die richtige Lage von 0,28 dar?

Antworten1. **B**2. **A**3. **D**4. **C**5. **D**6. **C**7. **A**8. **D**9. **B**10. **A**11. **A**12. **C**13. **D**14. **B**15. **C**16. **B**