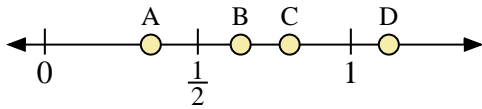
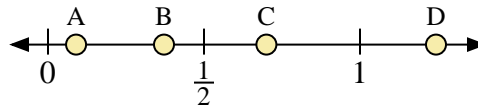




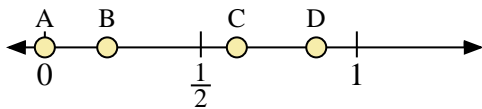
Benutze den Zahlenstrahl um die Lösung zu ermitteln.



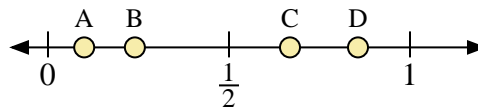
- 1) Welcher Buchstabe stellt die richtige Lage von 0,8 dar?
- 2) Welcher Buchstabe stellt die richtige Lage von 0,64 dar?



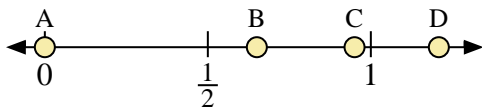
- 3) Welcher Buchstabe stellt die richtige Lage von 0,7 dar?
- 4) Welcher Buchstabe stellt die richtige Lage von 0,09 dar?



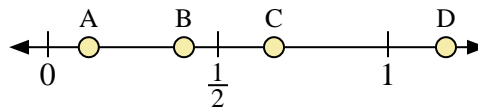
- 5) Welcher Buchstabe stellt die richtige Lage von 0,2 dar?
- 6) Welcher Buchstabe stellt die richtige Lage von 0,87 dar?



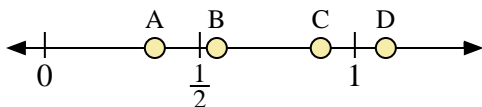
- 7) Welcher Buchstabe stellt die richtige Lage von 0,10 dar?
- 8) Welcher Buchstabe stellt die richtige Lage von 0,24 dar?



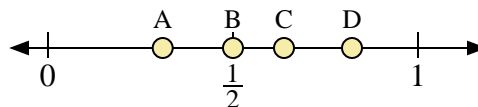
- 9) Welcher Buchstabe stellt die richtige Lage von 0,0 dar?
- 10) Welcher Buchstabe stellt die richtige Lage von 0,95 dar?



- 11) Welcher Buchstabe stellt die richtige Lage von 0,40 dar?
- 12) Welcher Buchstabe stellt die richtige Lage von 0,12 dar?



- 13) Welcher Buchstabe stellt die richtige Lage von 1,1 dar?
- 14) Welcher Buchstabe stellt die richtige Lage von 0,89 dar?



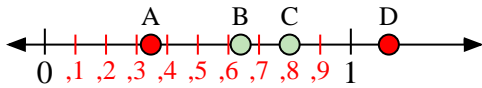
- 15) Welcher Buchstabe stellt die richtige Lage von 0,5 dar?
- 16) Welcher Buchstabe stellt die richtige Lage von 0,31 dar?

Antworten

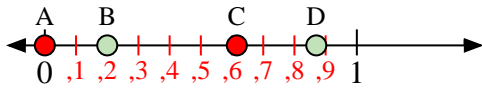
1. _____
2. _____
3. _____
4. _____
5. _____
6. _____
7. _____
8. _____
9. _____
10. _____
11. _____
12. _____
13. _____
14. _____
15. _____
16. _____



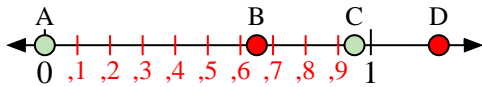
Benutze den Zahlenstrahl um die Lösung zu ermitteln.



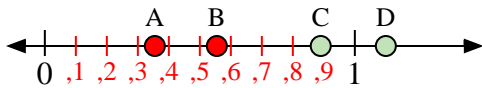
- 1) Welcher Buchstabe stellt die richtige Lage von 0,8 dar?
- 2) Welcher Buchstabe stellt die richtige Lage von 0,64 dar?



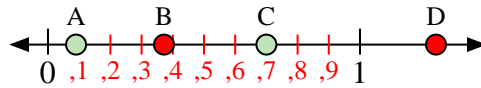
- 5) Welcher Buchstabe stellt die richtige Lage von 0,2 dar?
- 6) Welcher Buchstabe stellt die richtige Lage von 0,87 dar?



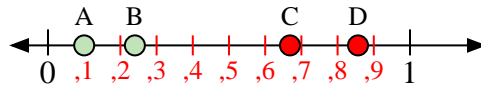
- 9) Welcher Buchstabe stellt die richtige Lage von 0,0 dar?
- 10) Welcher Buchstabe stellt die richtige Lage von 0,95 dar?



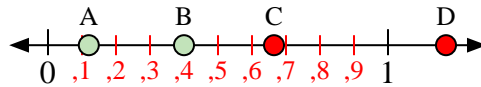
- 13) Welcher Buchstabe stellt die richtige Lage von 1,1 dar?
- 14) Welcher Buchstabe stellt die richtige Lage von 0,89 dar?



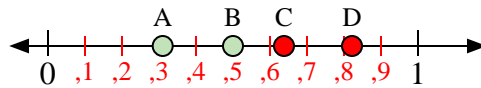
- 3) Welcher Buchstabe stellt die richtige Lage von 0,7 dar?
- 4) Welcher Buchstabe stellt die richtige Lage von 0,09 dar?



- 7) Welcher Buchstabe stellt die richtige Lage von 0,10 dar?
- 8) Welcher Buchstabe stellt die richtige Lage von 0,24 dar?



- 11) Welcher Buchstabe stellt die richtige Lage von 0,40 dar?
- 12) Welcher Buchstabe stellt die richtige Lage von 0,12 dar?



- 15) Welcher Buchstabe stellt die richtige Lage von 0,5 dar?
- 16) Welcher Buchstabe stellt die richtige Lage von 0,31 dar?

Antworten

1. **C**
2. **B**
3. **C**
4. **A**
5. **B**
6. **D**
7. **A**
8. **B**
9. **A**
10. **C**
11. **B**
12. **A**
13. **D**
14. **C**
15. **B**
16. **A**