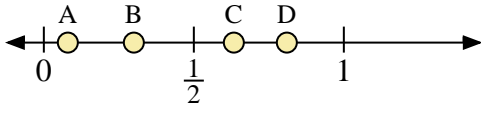
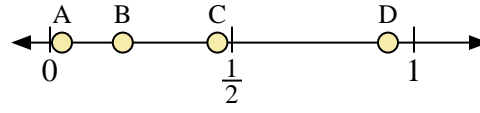




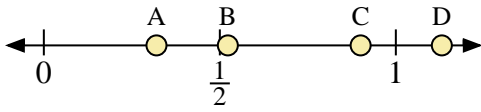
Benutze den Zahlenstrahl um die Lösung zu ermitteln.



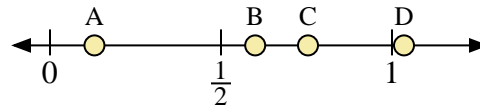
- 1) Welcher Buchstabe stellt die richtige Lage von 0,30 dar?
- 2) Welcher Buchstabe stellt die richtige Lage von 0,81 dar?



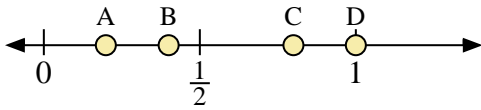
- 3) Welcher Buchstabe stellt die richtige Lage von 0,2 dar?
- 4) Welcher Buchstabe stellt die richtige Lage von 0,46 dar?



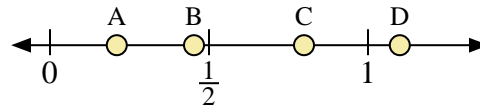
- 5) Welcher Buchstabe stellt die richtige Lage von 0,90 dar?
- 6) Welcher Buchstabe stellt die richtige Lage von 0,32 dar?



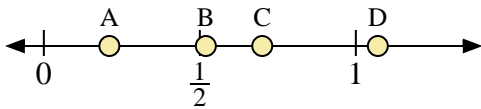
- 7) Welcher Buchstabe stellt die richtige Lage von 0,6 dar?
- 8) Welcher Buchstabe stellt die richtige Lage von 0,13 dar?



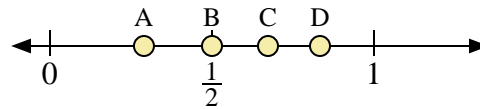
- 9) Welcher Buchstabe stellt die richtige Lage von 0,4 dar?
- 10) Welcher Buchstabe stellt die richtige Lage von 0,80 dar?



- 11) Welcher Buchstabe stellt die richtige Lage von 1,10 dar?
- 12) Welcher Buchstabe stellt die richtige Lage von 0,21 dar?



- 13) Welcher Buchstabe stellt die richtige Lage von 0,70 dar?
- 14) Welcher Buchstabe stellt die richtige Lage von 0,21 dar?



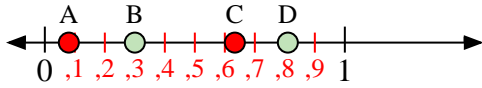
- 15) Welcher Buchstabe stellt die richtige Lage von 0,50 dar?
- 16) Welcher Buchstabe stellt die richtige Lage von 0,29 dar?

Antworten

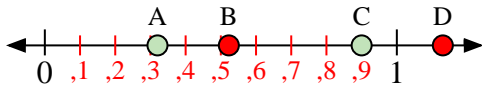
1. _____
2. _____
3. _____
4. _____
5. _____
6. _____
7. _____
8. _____
9. _____
10. _____
11. _____
12. _____
13. _____
14. _____
15. _____
16. _____



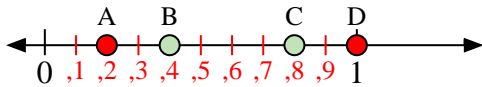
Benutze den Zahlenstrahl um die Lösung zu ermitteln.



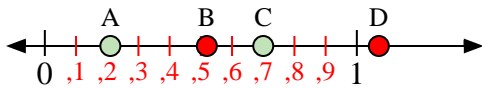
- 1) Welcher Buchstabe stellt die richtige Lage von 0,30 dar?
- 2) Welcher Buchstabe stellt die richtige Lage von 0,81 dar?



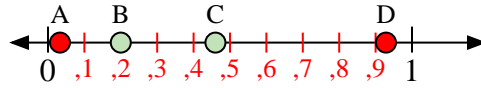
- 5) Welcher Buchstabe stellt die richtige Lage von 0,90 dar?
- 6) Welcher Buchstabe stellt die richtige Lage von 0,32 dar?



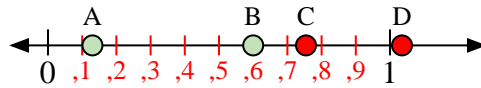
- 9) Welcher Buchstabe stellt die richtige Lage von 0,4 dar?
- 10) Welcher Buchstabe stellt die richtige Lage von 0,80 dar?



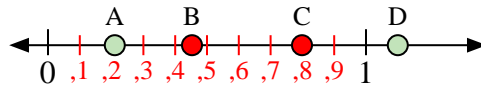
- 13) Welcher Buchstabe stellt die richtige Lage von 0,70 dar?
- 14) Welcher Buchstabe stellt die richtige Lage von 0,21 dar?



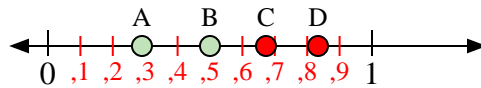
- 3) Welcher Buchstabe stellt die richtige Lage von 0,2 dar?
- 4) Welcher Buchstabe stellt die richtige Lage von 0,46 dar?



- 7) Welcher Buchstabe stellt die richtige Lage von 0,6 dar?
- 8) Welcher Buchstabe stellt die richtige Lage von 0,13 dar?



- 11) Welcher Buchstabe stellt die richtige Lage von 1,10 dar?
- 12) Welcher Buchstabe stellt die richtige Lage von 0,21 dar?



- 15) Welcher Buchstabe stellt die richtige Lage von 0,50 dar?
- 16) Welcher Buchstabe stellt die richtige Lage von 0,29 dar?

Antworten

1. **B**
2. **D**
3. **B**
4. **C**
5. **C**
6. **A**
7. **B**
8. **A**
9. **B**
10. **C**
11. **D**
12. **A**
13. **C**
14. **A**
15. **B**
16. **A**