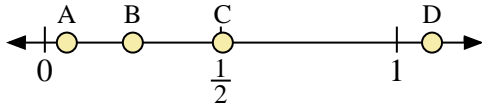
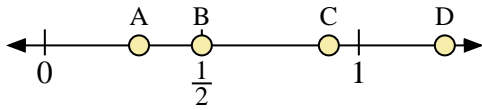




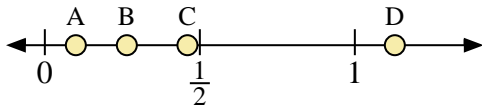
Benutze den Zahlenstrahl um die Lösung zu ermitteln.



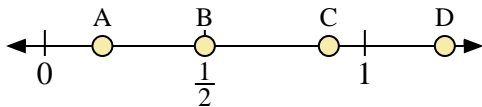
- 1) Welcher Buchstabe stellt die richtige Lage von 1,10 dar?
- 2) Welcher Buchstabe stellt die richtige Lage von 0,25 dar?



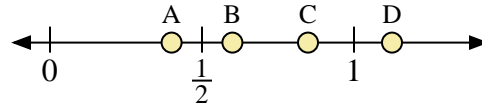
- 5) Welcher Buchstabe stellt die richtige Lage von 0,3 dar?
- 6) Welcher Buchstabe stellt die richtige Lage von 0,50 dar?



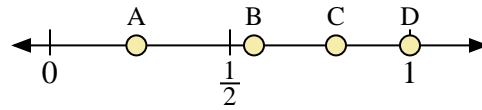
- 9) Welcher Buchstabe stellt die richtige Lage von 0,10 dar?
- 10) Welcher Buchstabe stellt die richtige Lage von 0,46 dar?



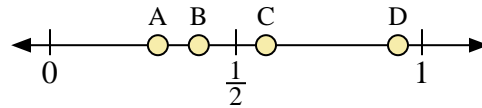
- 13) Welcher Buchstabe stellt die richtige Lage von 0,50 dar?
- 14) Welcher Buchstabe stellt die richtige Lage von 0,18 dar?



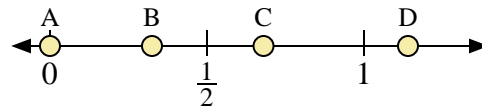
- 3) Welcher Buchstabe stellt die richtige Lage von 0,6 dar?
- 4) Welcher Buchstabe stellt die richtige Lage von 0,40 dar?



- 7) Welcher Buchstabe stellt die richtige Lage von 1,0 dar?
- 8) Welcher Buchstabe stellt die richtige Lage von 0,24 dar?



- 11) Welcher Buchstabe stellt die richtige Lage von 0,40 dar?
- 12) Welcher Buchstabe stellt die richtige Lage von 0,29 dar?



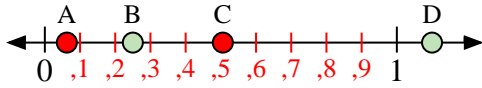
- 15) Welcher Buchstabe stellt die richtige Lage von 0,0 dar?
- 16) Welcher Buchstabe stellt die richtige Lage von 0,68 dar?

Antworten

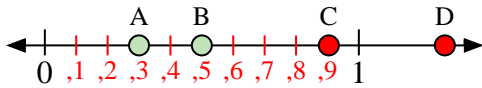
1. _____
2. _____
3. _____
4. _____
5. _____
6. _____
7. _____
8. _____
9. _____
10. _____
11. _____
12. _____
13. _____
14. _____
15. _____
16. _____



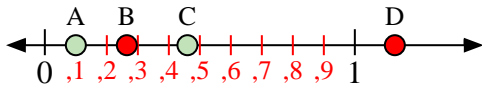
Benutze den Zahlenstrahl um die Lösung zu ermitteln.



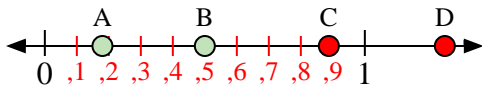
- 1) Welcher Buchstabe stellt die richtige Lage von 1,10 dar?
- 2) Welcher Buchstabe stellt die richtige Lage von 0,25 dar?



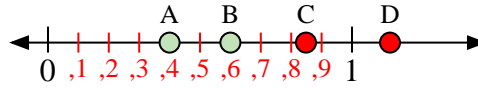
- 5) Welcher Buchstabe stellt die richtige Lage von 0,3 dar?
- 6) Welcher Buchstabe stellt die richtige Lage von 0,50 dar?



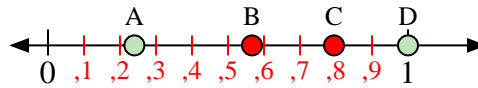
- 9) Welcher Buchstabe stellt die richtige Lage von 0,10 dar?
- 10) Welcher Buchstabe stellt die richtige Lage von 0,46 dar?



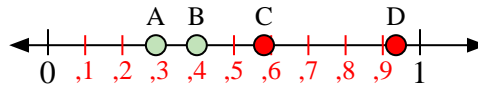
- 13) Welcher Buchstabe stellt die richtige Lage von 0,50 dar?
- 14) Welcher Buchstabe stellt die richtige Lage von 0,18 dar?



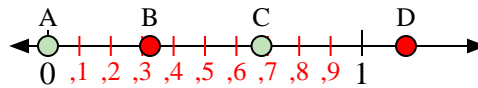
- 3) Welcher Buchstabe stellt die richtige Lage von 0,6 dar?
- 4) Welcher Buchstabe stellt die richtige Lage von 0,40 dar?



- 7) Welcher Buchstabe stellt die richtige Lage von 1,0 dar?
- 8) Welcher Buchstabe stellt die richtige Lage von 0,24 dar?



- 11) Welcher Buchstabe stellt die richtige Lage von 0,40 dar?
- 12) Welcher Buchstabe stellt die richtige Lage von 0,29 dar?



- 15) Welcher Buchstabe stellt die richtige Lage von 0,0 dar?
- 16) Welcher Buchstabe stellt die richtige Lage von 0,68 dar?

Antworten

1. **D**
2. **B**
3. **B**
4. **A**
5. **A**
6. **B**
7. **D**
8. **A**
9. **A**
10. **C**
11. **B**
12. **A**
13. **B**
14. **A**
15. **A**
16. **C**