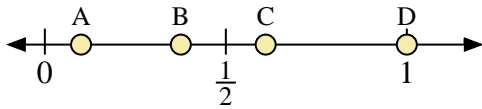
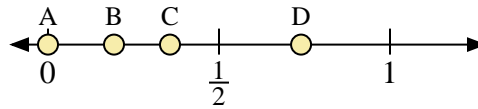




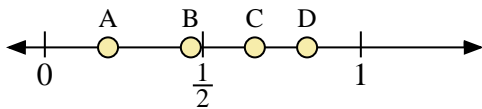
Benutze den Zahlenstrahl um die Lösung zu ermitteln.



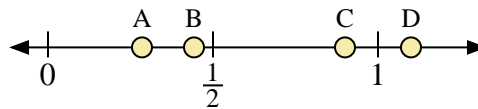
- 1) Welcher Buchstabe stellt die richtige Lage von 0,10 dar?
- 2) Welcher Buchstabe stellt die richtige Lage von 0,61 dar?



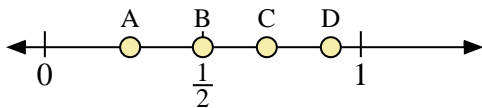
- 3) Welcher Buchstabe stellt die richtige Lage von 0,0 dar?
- 4) Welcher Buchstabe stellt die richtige Lage von 0,74 dar?



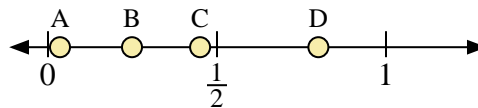
- 5) Welcher Buchstabe stellt die richtige Lage von 0,2 dar?
- 6) Welcher Buchstabe stellt die richtige Lage von 0,83 dar?



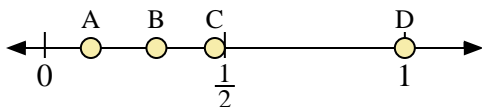
- 7) Welcher Buchstabe stellt die richtige Lage von 1,10 dar?
- 8) Welcher Buchstabe stellt die richtige Lage von 0,90 dar?



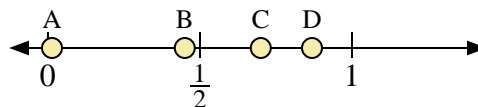
- 9) Welcher Buchstabe stellt die richtige Lage von 0,5 dar?
- 10) Welcher Buchstabe stellt die richtige Lage von 0,27 dar?



- 11) Welcher Buchstabe stellt die richtige Lage von 0,80 dar?
- 12) Welcher Buchstabe stellt die richtige Lage von 0,45 dar?



- 13) Welcher Buchstabe stellt die richtige Lage von 1,00 dar?
- 14) Welcher Buchstabe stellt die richtige Lage von 0,31 dar?



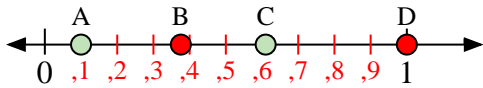
- 15) Welcher Buchstabe stellt die richtige Lage von 0,70 dar?
- 16) Welcher Buchstabe stellt die richtige Lage von 0,45 dar?

**Antworten**

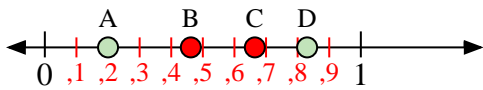
1. \_\_\_\_\_
2. \_\_\_\_\_
3. \_\_\_\_\_
4. \_\_\_\_\_
5. \_\_\_\_\_
6. \_\_\_\_\_
7. \_\_\_\_\_
8. \_\_\_\_\_
9. \_\_\_\_\_
10. \_\_\_\_\_
11. \_\_\_\_\_
12. \_\_\_\_\_
13. \_\_\_\_\_
14. \_\_\_\_\_
15. \_\_\_\_\_
16. \_\_\_\_\_



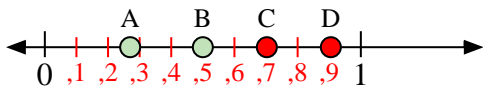
Benutze den Zahlenstrahl um die Lösung zu ermitteln.



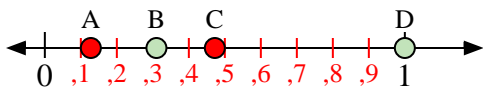
- 1) Welcher Buchstabe stellt die richtige Lage von 0,10 dar?
- 2) Welcher Buchstabe stellt die richtige Lage von 0,61 dar?



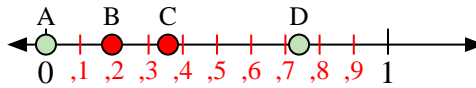
- 5) Welcher Buchstabe stellt die richtige Lage von 0,2 dar?
- 6) Welcher Buchstabe stellt die richtige Lage von 0,83 dar?



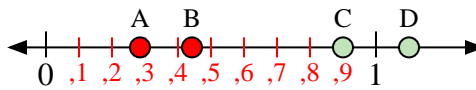
- 9) Welcher Buchstabe stellt die richtige Lage von 0,5 dar?
- 10) Welcher Buchstabe stellt die richtige Lage von 0,27 dar?



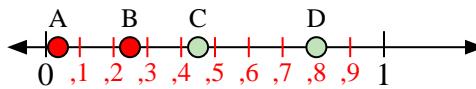
- 13) Welcher Buchstabe stellt die richtige Lage von 1,00 dar?
- 14) Welcher Buchstabe stellt die richtige Lage von 0,31 dar?



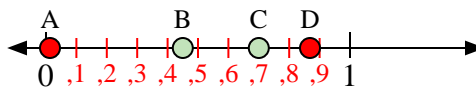
- 3) Welcher Buchstabe stellt die richtige Lage von 0,0 dar?
- 4) Welcher Buchstabe stellt die richtige Lage von 0,74 dar?



- 7) Welcher Buchstabe stellt die richtige Lage von 1,10 dar?
- 8) Welcher Buchstabe stellt die richtige Lage von 0,90 dar?



- 11) Welcher Buchstabe stellt die richtige Lage von 0,80 dar?
- 12) Welcher Buchstabe stellt die richtige Lage von 0,45 dar?



- 15) Welcher Buchstabe stellt die richtige Lage von 0,70 dar?
- 16) Welcher Buchstabe stellt die richtige Lage von 0,45 dar?

**Antworten**

1.     **A**
2.     **C**
3.     **A**
4.     **D**
5.     **A**
6.     **D**
7.     **D**
8.     **C**
9.     **B**
10.     **A**
11.     **D**
12.     **C**
13.     **D**
14.     **B**
15.     **C**
16.     **B**